

SSC Selection Post IX (2021) Question Papers Graduate Level (HINDI)

Selection Post Phase IX 2021 Graduate level

Roll Number	examstocks.com
Candidate Name	examstocks.com
Venue Name	iON Digital Zone iDZ Chitoura Road
Exam Date	08/02/2022
Exam Time	3:00 PM - 4:00 PM
Subject	Selection Post Graduate Level

Section : General Intelligence

Q.1 दिए गए कथनों और निष्कर्षों को ध्यानपूर्वक पढ़ें। यह मानते हुए कि कथनों में दी गई सूचना सही है, भले ही वह सामान्य रूप से ज्ञात तथ्यों से भिन्न प्रतीत होती हो, और यह निर्धारित करें कि दिए गए निष्कर्षों में से कौन-सा/से निष्कर्ष कथनों का तार्किक रूप से अनुसरण करता है/करते हैं।

कथन:

कुछ गुड़िया रॉकेट हैं।

कुछ रॉकेट इंजन हैं।

सभी इंजन ठोस हैं।

निष्कर्ष:

I. कोई गुड़िया ठोस नहीं है।

II. कोई ठोस इंजन नहीं है।

III. कुछ गुड़िया ठोस हैं।

IV. कोई इंजन रॉकेट नहीं है।

Ans ☒ 1. या तो निष्कर्ष II या निष्कर्ष III अनुसरण करता है।

☒ 2. केवल निष्कर्ष II और IV अनुसरण करते हैं।

☒ 3. केवल निष्कर्ष I और III अनुसरण करते हैं।

☒ 4. या तो निष्कर्ष I या निष्कर्ष III अनुसरण करता है।

Question ID : 65497839547

Status : Answered

Chosen Option : 4

Q.2 किसी कूट भाषा में, FROLIC को ROLIFC और LOBSTER को TSROLEB के रूप में लिखा जाता है। उसी भाषा में MANGROVE को किस प्रकार से लिखा जाएगा?

Ans ☒ 1. VRONGMEA

☒ 2. VRONMGEA

☒ 3. VORMNGEA

☒ 4. RVNOMGEA

Question ID : 65497839536

Status : Answered

Chosen Option : 2

Q.3 किसी कूट भाषा में, ROCKET को 184311220 और PLUNGE को 161251472 के रूप में लिखा जाता है। उसी भाषा में TANGLE को किस प्रकार से लिखा जाएगा?


- Ans ☒ 1. 201147122
☒ 2. 201137122
☒ 3. 201648122
☒ 4. 201147125

Question ID : 65497839541

Status : Answered

Chosen Option : 1

Q.4 उस विकल्प का चयन करें जो दी गई आकृति (X) में सन्निहित है (घुमाने की अनुमति नहीं है)।



(X)

Ans

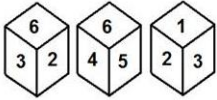
- ☒ 1.
☒ 2.
☒ 3.
☒ 4.

Question ID : 65497839553

Status : Answered

Chosen Option : 1

Q.5 एक ही पासे की तीन अलग-अलग स्थिति दर्शाई गई हैं, जिसकी छह फलकों पर क्रमशः 1 से 6 तक अंक अंकित किए गए हैं। उस अंक का चयन करें जो '1' अंकित फलक के विपरीत फलक पर होगा।



- Ans**
- ☒ 1. 5
 - ☒ 2. 4
 - ☒ 3. 6
 - ☒ 4. 3

Question ID : **65497839654**
 Status : **Answered**
 Chosen Option : **3**

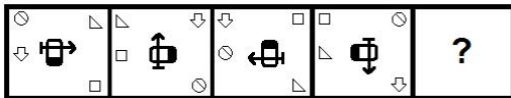
Q.6 उस अक्षर संयोजन का चयन करें जिसे दी गई श्रृंखला के रिक्त स्थानों में क्रमिक रूप से रखे जाने पर श्रृंखला पूर्ण होगी।

G _ _ D O _ K N _ O G K _ D _ G K _ _ O

- Ans**
- ☒ 1. KNGDNOGD
 - ☒ 2. KNGNDOND
 - ☒ 3. KNGDNOND
 - ☒ 4. KNDGNOND

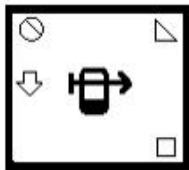
Question ID : **65497839440**
 Status : **Answered**
 Chosen Option : **3**

Q.7 दिए गए विकल्पों में से वह आकृति चुनें जो निम्नांकित श्रृंखला में प्रश्नचिन्ह (?) को प्रतिस्थापित कर सकती है।

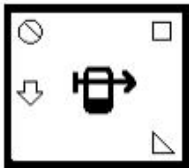


Ans

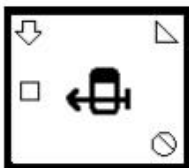
✓ 1.



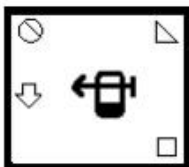
✗ 2.



✗ 3.



✗ 4.

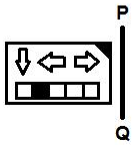


Question ID : 65497839449

Status : Answered

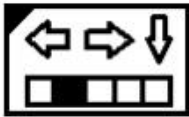
Chosen Option : 1

Q.8 यदि दर्पण को निम्न आकृति के अनुसार रेखा PQ पर रखा जाता है, तो दी गई आकृति का दर्पण में निर्मित सही प्रतिबिम्ब चयन करें।

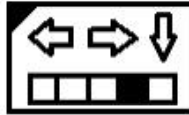


Ans

✗ 1.



✓ 2.



✗ 3.



✗ 4.



Question ID : 65497839554

Status : Answered

Chosen Option : 2

Q.9 उस अक्षर संयोजन का चयन करें जिसे दी गई श्रृंखला के रिक्त स्थानों में क्रमिक रूप से रखे जाने पर श्रृंखला पूर्ण होगी।

b _ c _ d _ k b _ _ a _ e k b b _ a d _ k

Ans ✓ 1. baebcdce

✗ 2. beabcdce

✗ 3. baedcdck

✗ 4. baebcdec

Question ID : 65497839543

Status : Answered

Chosen Option : 1

Q.10 दिए गए कथन और निष्कर्ष सावधानीपूर्वक पढ़ें। कथनों में दी गई जानकारी को सत्य मानते हुए, चाहे यह सामान्यतः ज्ञात तथ्यों से असंगत प्रतीत होती हो, यह निर्धारित करें, कि दिए गए निष्कर्षों में से कौन सा/से निष्कर्ष कथनों का तार्किक रूप से अनुसरण करता है/करते हैं।

कथन:

कुछ रूमाल, प्लास्टिक हैं।
सभी कपड़े, रूमाल हैं।
सभी बर्तन, कपड़े हैं।

निष्कर्ष:

I. कुछ प्लास्टिक, रूमाल हैं।
II. सभी बर्तन, प्लास्टिक हैं।
III. कुछ रूमाल, बर्तन हैं।

- Ans ☒ 1. केवल निष्कर्ष I और III अनुसरण करते हैं।
☒ 2. केवल निष्कर्ष II और III अनुसरण करते हैं।
☒ 3. केवल निष्कर्ष I और II अनुसरण करते हैं।
☒ 4. केवल निष्कर्ष I अनुसरण करता है।

Question ID : 65497839444

Status : Answered

Chosen Option : 1

Q.11 उस सही विकल्प का चयन करें जो दिए गए शब्दों को तार्किक और अर्थपूर्ण क्रम में व्यवस्थित करता है।

1. बाघ
2. कुत्ता
3. चींटी
4. हाथी
5. गौरैया (चिड़िया)
6. कनखजूरा (शतपद)

- Ans ☒ 1. 3, 6, 5, 1, 2, 4
☒ 2. 3, 4, 5, 2, 6, 1
☒ 3. 3, 6, 5, 2, 1, 4
☒ 4. 3, 2, 5, 6, 1, 4

Question ID : 65497839532

Status : Answered

Chosen Option : 3

Q.12 उस विकल्प का चयन करें जो तीसरी संख्या से ठीक उसी प्रकार संबंधित है जैसे दूसरी संख्या, पहली संख्या से संबंधित है और छठी संख्या, पांचवीं संख्या से संबंधित है।

2531 : 121 :: 1446 : ? :: 3506 : 196

- Ans ☒ 1. 225
☒ 2. 144
☒ 3. 258
☒ 4. 256

Question ID : 65497839651

Status : Answered

Chosen Option : 1

Q.13 उस विकल्प का चयन करें जो तीसरे शब्द से ठीक उसी प्रकार से संबंधित है जैसे दूसरा शब्द पहले शब्द से संबंधित है।

प्राध्यापक : शिक्षा :: सैनिक : ?

- Ans
- ✓ 1. रक्षा
 - ✗ 2. वर्दी
 - ✗ 3. देशभक्ति
 - ✗ 4. देश

Question ID : 65497839534

Status : Answered

Chosen Option : 1

Q.14 किसी कूट भाषा में, FORK को JKVG और COARSE को GKENWA के रूप में लिखा जाता है। उसी भाषा में TERMITES को किस प्रकार से लिखा जाएगा?

- Ans
- ✗ 1. PIVIMPIW
 - ✗ 2. XAVIMXAO
 - ✗ 3. YANIMPIO
 - ✓ 4. XAVIMPIO

Question ID : 65497839639

Status : Answered

Chosen Option : 4

Q.15 उस सही विकल्प का चयन करें जो दिए गए शब्दों का वह व्यवस्थित क्रम दर्शाता है जिसमें वे एक अंग्रेजी शब्दकोश में दिखाई देते हैं।

1. Letter
2. Lexicon
3. Latitude
4. Leverage
5. Lovable
6. Levy
7. Latent

- Ans
- ✓ 1. 7, 3, 1, 4, 6, 2, 5
 - ✗ 2. 7, 3, 1, 2, 6, 4, 5
 - ✗ 3. 7, 3, 1, 4, 2, 6, 5
 - ✗ 4. 7, 3, 1, 6, 4, 2, 5

Question ID : 65497839635

Status : Answered

Chosen Option : 1

Q.16 वह विकल्प चुनें जो तीसरे पद से उसी प्रकार संबंधित है जिस प्रकार दूसरा पद, पहले पद से संबंधित है।

DANIEL : NLIEDA :: BROTHER : ?

- Ans
- ✗ 1. TORRHEB
 - ✓ 2. TRROHEB
 - ✗ 3. TRROEHB
 - ✗ 4. TQOOHEB

Question ID : 65497839742

Status : Answered

Chosen Option : 2

Q.17 उस विकल्प का चयन करें जो तीसरे अक्षर-समूह से ठीक उसी प्रकार से संबंधित है जैसे दूसरा अक्षर-समूह पहले अक्षर-समूह से संबंधित है।

PUZKR : TPFDD :: KRTOD : ?

- Ans
- ☒ 1. OMZHM
 - ☒ 2. OMYIL
 - ☒ 3. OMZHL
 - ☒ 4. PNZHL

Question ID : 65497839531

Status : Answered

Chosen Option : 3

Q.18 एक निश्चित कूट भाषा में, 'BROTHER' को CSQUIGS के रूप में लिखा जाता है और 'MAGIC' को NCHKD के रूप में लिखा जाता है। उसी भाषा में 'SWEATING' को कैसे लिखा जाएगा?

- Ans
- ☒ 1. TXFCUJOH
 - ☒ 2. TXGBUKOI
 - ☒ 3. TXGCUKOH
 - ☒ 4. TYGCVKOH

Question ID : 65497839436

Status : Answered

Chosen Option : 3

Q.19 एक लड़की की ओर संकेत करते हुए विशाखा ने कहा कि, "वह मेरे भाई की पत्नी की सास के पुत्र की पुत्री है।" उस लड़की के पिता, विशाखा से किस प्रकार संबंधित है?

- Ans
- ☒ 1. पिता
 - ☒ 2. भतीजा
 - ☒ 3. भाई
 - ☒ 4. पति

Question ID : 65497839735

Status : Answered

Chosen Option : 3

Q.20 उस विकल्प का चयन करें जो तीसरे शब्द से ठीक उसी प्रकार से संबंधित है जैसे दूसरा शब्द पहले शब्द से संबंधित है।

पल्मोनोलॉजिस्ट : फेफड़े :: नेफ्रोलॉजिस्ट : ?

- Ans
- ☒ 1. हड्डियाँ
 - ☒ 2. वृक्क
 - ☒ 3. वृषण
 - ☒ 4. यकृत

Question ID : 65497839637

Status : Answered

Chosen Option : 2

Q.21 एक निश्चित कूट भाषा में, 'DIVINE' को 63 के रूप में कूटबद्ध किया जाता है और 'FEAST' को 51 के रूप में कूटबद्ध किया जाता है। उसी भाषा में 'MEAGRE' को कैसे कूटबद्ध किया जाएगा?

- Ans
- ☒ 1. 51
 - ☐ 2. 45
 - ☐ 3. 57
 - ☒ 4. 49

Question ID : 65497839437

Status : Answered

Chosen Option : 4

Q.22 दिए गए विकल्पों में से उस संख्या का चयन कीजिए जो दी गई श्रेणी में प्रश्न चिह्न (?) के स्थान पर आ सकती है।

31, 35, 51, 87, 151, ?, 395

- Ans
- ☐ 1. 215
 - ☒ 2. 251
 - ☐ 3. 262
 - ☐ 4. 187

Question ID : 65497839548

Status : Answered

Chosen Option : 2

Q.23 किसी कूट भाषा में, SICK को 168 और TAR को 117 के रूप में लिखा जाता है। उसी भाषा में NOMAD को किस प्रकार से लिखा जाएगा?

- Ans
- ☒ 1. 235
 - ☐ 2. 245
 - ☐ 3. 290
 - ☐ 4. 321

Question ID : 65497839540

Status : Answered

Chosen Option : 1

Q.24 एक परिवार में, N की पत्नी H, G की इकलौती पुत्री है। D और R भाई हैं। J के पिता का विवाह P की पुत्री से हुआ है। V की इकलौती बहन G, P से विवाहित है। R, P का पुत्र है। निम्नलिखित में से कौन-सा कथन सही है?

- Ans
- ☐ 1. V, H की बुआ है।
 - ☐ 2. D, N का पुत्र है।
 - ☐ 3. G, N के पिता है।
 - ☒ 4. P, J के नानाजी है।

Question ID : 65497839545

Status : Answered

Chosen Option : 4

Q.25 गणितीय संकेतों के उस सही संयोजन का चयन करें जिसे क्रमिक रूप से * संकेतों के स्थान पर रखने से दिया गया समीकरण संतुलित हो जाएगा।

$$54 * 27 * 9 * 18 * 36 * 72$$

- Ans
- ☒ 1. -, +, ×, ÷, =
 - ☒ 2. -, ×, +, ÷, =
 - ☒ 3. +, ÷, ×, -, =
 - ☒ 4. +, -, ×, ÷, =

Question ID : 65497839550

Status : Answered

Chosen Option : 3

Section : English Language

Q.1 Select the most appropriate ANTONYM of the given word.

Illicit

- Ans
- ☒ 1. Prohibited
 - ☒ 2. Ethical
 - ☒ 3. Furtive
 - ☒ 4. Unlawful

Question ID : 65497839668

Status : Answered

Chosen Option : 2

Q.2 Select the most appropriate synonym of the given word.

Implacable

- Ans
- ☒ 1. Magnanimous
 - ☒ 2. Remorseful
 - ☒ 3. Compassionate
 - ☒ 4. Relentless

Question ID : 65497839565

Status : Not Answered

Chosen Option : --

Q.3 Select the option that will improve the underlined part of the given sentence. In case no improvement is needed, select 'No improvement required'.

The tin-roofed house **gave up** during the terrible storm.

- Ans
- ☒ 1. gave over
 - ☒ 2. No improvement required
 - ☒ 3. gave way
 - ☒ 4. gave away

Question ID : 65497839459

Status : Not Answered

Chosen Option : --

Q.4 Select the most appropriate option to fill in the blank.

No _____ than fifty trees were uprooted in the storm.

- Ans ☒ 1. much
☒ 2. fewer
☒ 3. few
☒ 4. moreover

Question ID : 65497839665
 Status : Answered
 Chosen Option : 2

Q.5 Sentences of a paragraph are given below in jumbled order. Arrange the sentences in the correct order to form a meaningful and coherent paragraph.

- A. "So, no good coming here with highfalutin ideas," he continued.
 B. "There's one thing you must understand," said Edward to the housekeeper.
 C. The housekeeper bowed and simply nodded in agreement.
 D. "Just because we live in a big house doesn't mean we're rich!"

- Ans ☒ 1. BDAC
☒ 2. CADB
☒ 3. BACD
☒ 4. DBCA

Question ID : 65497839564
 Status : Answered
 Chosen Option : 1

Q.6 Select the option that expresses the given sentence in indirect speech.

The police officer said to him, "Why were you out till late last night?"

- Ans ☒ 1. The police officer asked him why he had been out till late the previous night.
☒ 2. The police officer asked him that why he were out till late the previous night.
☒ 3. The police officer asked him why had he been out till late last night.
☒ 4. The police officer asked him why was he out till late last night.

Question ID : 65497839661
 Status : Answered
 Chosen Option : 1

Q.7 Select the option that expresses the given sentence in active voice.

He has been given a notice to vacate the house.

- Ans ☒ 1. We are giving him a notice to vacate the house.
☒ 2. We gave him a notice to vacate the house.
☒ 3. We have given him a notice to vacate the house.
☒ 4. We had given him a notice to vacate the house.

Question ID : 65497839454
 Status : Answered
 Chosen Option : 3

Q.8 Select the INCORRECTLY spelt word.

- Ans ☒ 1. Feign
☒ 2. Forfeit
☒ 3. Fascinate
☒ 4. Forlon

Question ID : 65497839467
 Status : Answered
 Chosen Option : 4

Q.9 Select the option that can be used as a one-word substitute for the given group of words.

Following or occurring after death

- Ans ☒ 1. Postponed
☒ 2. Anointed
☒ 3. Posthumous
☒ 4. Anonymous

Question ID : 65497839670
 Status : Answered
 Chosen Option : 3

Q.10 Select the option that will improve the underlined part of the given sentence. In case no improvement is needed, select 'No improvement required'.

He is bent to harm me as much as he can.

- Ans ☒ 1. on harm
☒ 2. No improvement required
☒ 3. upon harming
☒ 4. to harming

Question ID : 65497839560
 Status : Answered
 Chosen Option : 3

Q.11 Select the most appropriate meaning of the given idiom.

Keep one's head

- Ans ☒ 1. Become conceited
☒ 2. Remain calm
☒ 3. Respect oneself
☒ 4. Be honest

Question ID : 65497839567
 Status : Answered
 Chosen Option : 2

Q.12 The following sentence has been split into four segments. Identify the segment that contains a grammatical error.

Nelson left his home / and went / to the sea / at an early age.

- Ans** ☒ 1. to the sea
☒ 2. and went
☒ 3. Nelson left his home
☒ 4. at an early age

Question ID : 65497839555
 Status : Answered
 Chosen Option : 1

Q.13 Select the option that expresses the given sentence in active voice.

A lenient view of her case was taken by the judge.

- Ans** ☒ 1. The judge will take a lenient view of her case.
☒ 2. The judge takes a lenient view of her case.
☒ 3. The judge took a lenient view of her case.
☒ 4. The judge has taken a lenient view of her case.

Question ID : 65497839557
 Status : Answered
 Chosen Option : 3

Q.14 Select the most appropriate option to fill in the blank.

He renounced both, his family _____ his friends.

- Ans** ☒ 1. as well as
☒ 2. with
☒ 3. also
☒ 4. and

Question ID : 65497839562
 Status : Answered
 Chosen Option : 4

Q.15 Select the option that expresses the given sentence in direct speech.

I asked my mother where she kept the grocery.

- Ans** ☒ 1. I said to my mother, "Where have you kept the grocery?"
☒ 2. I said to my mother, "Where does she keeps the grocery?"
☒ 3. I said to my mother, "Where do you keep the grocery?"
☒ 4. I said to my mother, "Where she keeps the grocery?"

Question ID : 65497839558
 Status : Answered
 Chosen Option : 3

Comprehension:

In the following passage, some words have been deleted. Read the passage carefully and select the most appropriate option to fill in each blank.

As the education of girls becomes similar (1)_____ that of boys, their home life will also become similar. Their present greater (2)_____ of domestic affairs will also disappear. After a (3)_____ age, boys and girls should have a share in parental occupations and (4)_____, but not in excess as it would interfere with their education. Yet, (5)_____ of the problems of adult life helps boys and girls understand and appreciate the efforts of their parents.

SubQuestion No : 16

Q.16 Select the most appropriate option to fill in blank no. 1.

- Ans ☒ 1. as
☒ 2. from
☒ 3. than
☒ 4. to

Question ID : 65497839571

Status : Answered

Chosen Option : 4

Comprehension:

In the following passage, some words have been deleted. Read the passage carefully and select the most appropriate option to fill in each blank.

As the education of girls becomes similar (1)_____ that of boys, their home life will also become similar. Their present greater (2)_____ of domestic affairs will also disappear. After a (3)_____ age, boys and girls should have a share in parental occupations and (4)_____, but not in excess as it would interfere with their education. Yet, (5)_____ of the problems of adult life helps boys and girls understand and appreciate the efforts of their parents.

SubQuestion No : 17

Q.17 Select the most appropriate option to fill in blank no. 2.

- Ans ☒ 1. power
☒ 2. instruction
☒ 3. familiarity
☒ 4. knowledge

Question ID : 65497839572

Status : Answered

Chosen Option : 4

Comprehension:

In the following passage, some words have been deleted. Read the passage carefully and select the most appropriate option to fill in each blank.

As the education of girls becomes similar (1)_____ that of boys, their home life will also become similar. Their present greater (2)_____ of domestic affairs will also disappear. After a (3)_____ age, boys and girls should have a share in parental occupations and (4)_____, but not in excess as it would interfere with their education. Yet, (5)_____ of the problems of adult life helps boys and girls understand and appreciate the efforts of their parents.

SubQuestion No : 18

Q.18 Select the most appropriate option to fill in blank no. 3.

Ans ☒ 1. decided

☒ 2. fixed

☒ 3. certain

☒ 4. settled

Question ID : 65497839573

Status : Answered

Chosen Option : 3

Comprehension:

In the following passage, some words have been deleted. Read the passage carefully and select the most appropriate option to fill in each blank.

As the education of girls becomes similar (1)_____ that of boys, their home life will also become similar. Their present greater (2)_____ of domestic affairs will also disappear. After a (3)_____ age, boys and girls should have a share in parental occupations and (4)_____, but not in excess as it would interfere with their education. Yet, (5)_____ of the problems of adult life helps boys and girls understand and appreciate the efforts of their parents.

SubQuestion No : 19

Q.19 Select the most appropriate option to fill in blank no. 4.

Ans ☒ 1. reluctance

☒ 2. hesitation

☒ 3. anxieties

☒ 4. mistrusts

Question ID : 65497839574

Status : Not Answered

Chosen Option : --

Comprehension:

In the following passage, some words have been deleted. Read the passage carefully and select the most appropriate option to fill in each blank.

As the education of girls becomes similar (1)_____ that of boys, their home life will also become similar. Their present greater (2)_____ of domestic affairs will also disappear. After a (3)_____ age, boys and girls should have a share in parental occupations and (4)_____, but not in excess as it would interfere with their education. Yet, (5)_____ of the problems of adult life helps boys and girls understand and appreciate the efforts of their parents.

SubQuestion No : 20

Q.20 Select the most appropriate option to fill in blank no. 5.

- Ans**  1. aloofness
  2. attentiveness
  3. alertness
  4. awareness

Question ID : **65497839575**

Status : **Not Answered**

Chosen Option : --

Comprehension:

Read the given passage and answer the questions that follow.

Floods are not new to India and this sub-continent, but in recent years the problem has received much greater attention perhaps largely because it has led to much greater damage than in the past. Even though information on the impending occurrence of floods is now more accurate and certainly timelier, often there is very little time or support infrastructure in place by which damage can be minimised. This is particularly true in the case of flash floods resulting from sudden and excessively heavy rain.

In the case of India, flooding is very much a function of the seasonal nature of our rainfall. The monsoons are spread over a short period during the year and often bring a concentrated volume of rain, which cannot be absorbed by the earth and finds outlet only in the form of streams that join up with our major river systems. But, flooding is not confined only to the main rivers of the country, often smaller tributaries and streams can cause heavy damage as well. Once these streams spill over their banks they could cause excessive harm, mainly because those living near the banks of these streams particularly in mountain areas do not have easy recourse to moving away quickly.

One major factor that could lead to a higher severity of flooding in the future is the danger of climate change. While the evidence of the nature of impacts resulting from climate change on precipitation and flooding at the regional level is not entirely clear, it could happen that the Indian subcontinent witnesses and suffers the effects of a significantly changed pattern of monsoons. One set of scientists has estimated that the monsoons could be shorter in duration, but far more intensive. In other words, much greater precipitation would take place in a much shorter period of time, thereby increasing the danger of floods. Climate change is the result of human actions through the increased concentration of greenhouse gases in the atmosphere, of which carbon dioxide is the most prominent.

At the local level also human actions have heightened the danger of flood through the cutting of trees in the mountains as well as in the plains. In the case of India, the ecological damage through deforestation of the Himalayas has led to large-scale erosion of the mountain slopes and high levels of siltation. This leads to deposition of silt on the riverbeds in the plains and hence spill-over of water whenever the volume in the river reaches a certain level. With siltation on the river beds, flooding occurs even at very shallow water levels. However, even in cases where forecasts have been timely and generally accurate, people have often been reluctant to move away, because in most cases they lack the means and physical options for moving away from a danger zone to one that is relatively safe. In the case of flash floods, forecasts are difficult to make, and often the time available for relief is very short.

SubQuestion No : 21

Q.21 The problem of floods has recently received attention due to:

- Ans** ☒ 1. the severity of damage caused
☒ 2. the silt deposition on river beds
☒ 3. the danger of climate change
☒ 4. the seasonal nature of floods

Question ID : **65497839475**

Status : **Answered**

Chosen Option : **1**

Comprehension:

Read the given passage and answer the questions that follow.

Floods are not new to India and this sub-continent, but in recent years the problem has received much greater attention perhaps largely because it has led to much greater damage than in the past. Even though information on the impending occurrence of floods is now more accurate and certainly timelier, often there is very little time or support infrastructure in place by which damage can be minimised. This is particularly true in the case of flash floods resulting from sudden and excessively heavy rain.

In the case of India, flooding is very much a function of the seasonal nature of our rainfall. The monsoons are spread over a short period during the year and often bring a concentrated volume of rain, which cannot be absorbed by the earth and finds outlet only in the form of streams that join up with our major river systems. But, flooding is not confined only to the main rivers of the country, often smaller tributaries and streams can cause heavy damage as well. Once these streams spill over their banks they could cause excessive harm, mainly because those living near the banks of these streams particularly in mountain areas do not have easy recourse to moving away quickly.

One major factor that could lead to a higher severity of flooding in the future is the danger of climate change. While the evidence of the nature of impacts resulting from climate change on precipitation and flooding at the regional level is not entirely clear, it could happen that the Indian subcontinent witnesses and suffers the effects of a significantly changed pattern of monsoons. One set of scientists has estimated that the monsoons could be shorter in duration, but far more intensive. In other words, much greater precipitation would take place in a much shorter period of time, thereby increasing the danger of floods. Climate change is the result of human actions through the increased concentration of greenhouse gases in the atmosphere, of which carbon dioxide is the most prominent.

At the local level also human actions have heightened the danger of flood through the cutting of trees in the mountains as well as in the plains. In the case of India, the ecological damage through deforestation of the Himalayas has led to large-scale erosion of the mountain slopes and high levels of siltation. This leads to deposition of silt on the riverbeds in the plains and hence spill-over of water whenever the volume in the river reaches a certain level. With siltation on the river beds, flooding occurs even at very shallow water levels. However, even in cases where forecasts have been timely and generally accurate, people have often been reluctant to move away, because in most cases they lack the means and physical options for moving away from a danger zone to one that is relatively safe. In the case of flash floods, forecasts are difficult to make, and often the time available for relief is very short.

SubQuestion No : 22

Q.22 Which of the following predictions made by certain scientists creates a larger threat of floods in India?

- Ans**
- ☒ 1. Prolonged precipitation
 - ☒ 2. Increased water level in streams
 - ☒ 3. Heavy monsoon over a shorter period than usual
 - ☒ 4. Increase in greenhouse gases

Question ID : **65497839477**

Status : **Not Answered**

Chosen Option : --

Comprehension:

Read the given passage and answer the questions that follow.

Floods are not new to India and this sub-continent, but in recent years the problem has received much greater attention perhaps largely because it has led to much greater damage than in the past. Even though information on the impending occurrence of floods is now more accurate and certainly timelier, often there is very little time or support infrastructure in place by which damage can be minimised. This is particularly true in the case of flash floods resulting from sudden and excessively heavy rain.

In the case of India, flooding is very much a function of the seasonal nature of our rainfall. The monsoons are spread over a short period during the year and often bring a concentrated volume of rain, which cannot be absorbed by the earth and finds outlet only in the form of streams that join up with our major river systems. But, flooding is not confined only to the main rivers of the country, often smaller tributaries and streams can cause heavy damage as well. Once these streams spill over their banks they could cause excessive harm, mainly because those living near the banks of these streams particularly in mountain areas do not have easy recourse to moving away quickly.

One major factor that could lead to a higher severity of flooding in the future is the danger of climate change. While the evidence of the nature of impacts resulting from climate change on precipitation and flooding at the regional level is not entirely clear, it could happen that the Indian subcontinent witnesses and suffers the effects of a significantly changed pattern of monsoons. One set of scientists has estimated that the monsoons could be shorter in duration, but far more intensive. In other words, much greater precipitation would take place in a much shorter period of time, thereby increasing the danger of floods. Climate change is the result of human actions through the increased concentration of greenhouse gases in the atmosphere, of which carbon dioxide is the most prominent.

At the local level also human actions have heightened the danger of flood through the cutting of trees in the mountains as well as in the plains. In the case of India, the ecological damage through deforestation of the Himalayas has led to large-scale erosion of the mountain slopes and high levels of siltation. This leads to deposition of silt on the riverbeds in the plains and hence spill-over of water whenever the volume in the river reaches a certain level. With siltation on the river beds, flooding occurs even at very shallow water levels. However, even in cases where forecasts have been timely and generally accurate, people have often been reluctant to move away, because in most cases they lack the means and physical options for moving away from a danger zone to one that is relatively safe. In the case of flash floods, forecasts are difficult to make, and often the time available for relief is very short.

SubQuestion No : 23

Q.23 Which of the following is a consequence of siltation on river beds?

Ans ✓ 1. Flooding even at shallow water levels

✗ 2. Deforestation of the Himalayas

✗ 3. Relief from water spill-over

✗ 4. Erosion of the mountain slopes

Question ID : 65497839479

Status : Answered

Chosen Option : 4

Comprehension:

Read the given passage and answer the questions that follow.

Floods are not new to India and this sub-continent, but in recent years the problem has received much greater attention perhaps largely because it has led to much greater damage than in the past. Even though information on the impending occurrence of floods is now more accurate and certainly timelier, often there is very little time or support infrastructure in place by which damage can be minimised. This is particularly true in the case of flash floods resulting from sudden and excessively heavy rain.

In the case of India, flooding is very much a function of the seasonal nature of our rainfall. The monsoons are spread over a short period during the year and often bring a concentrated volume of rain, which cannot be absorbed by the earth and finds outlet only in the form of streams that join up with our major river systems. But, flooding is not confined only to the main rivers of the country, often smaller tributaries and streams can cause heavy damage as well. Once these streams spill over their banks they could cause excessive harm, mainly because those living near the banks of these streams particularly in mountain areas do not have easy recourse to moving away quickly.

One major factor that could lead to a higher severity of flooding in the future is the danger of climate change. While the evidence of the nature of impacts resulting from climate change on precipitation and flooding at the regional level is not entirely clear, it could happen that the Indian subcontinent witnesses and suffers the effects of a significantly changed pattern of monsoons. One set of scientists has estimated that the monsoons could be shorter in duration, but far more intensive. In other words, much greater precipitation would take place in a much shorter period of time, thereby increasing the danger of floods. Climate change is the result of human actions through the increased concentration of greenhouse gases in the atmosphere, of which carbon dioxide is the most prominent.

At the local level also human actions have heightened the danger of flood through the cutting of trees in the mountains as well as in the plains. In the case of India, the ecological damage through deforestation of the Himalayas has led to large-scale erosion of the mountain slopes and high levels of siltation. This leads to deposition of silt on the riverbeds in the plains and hence spill-over of water whenever the volume in the river reaches a certain level. With siltation on the river beds, flooding occurs even at very shallow water levels. However, even in cases where forecasts have been timely and generally accurate, people have often been reluctant to move away, because in most cases they lack the means and physical options for moving away from a danger zone to one that is relatively safe. In the case of flash floods, forecasts are difficult to make, and often the time available for relief is very short.

SubQuestion No : 24

Q.24 Which of the following human actions increases the danger of flooding?

Ans

- ☒ 1. Deforestation in plains and mountains
- ☐ 2. Concentration of carbon dioxide in the atmosphere
- ☐ 3. Timely and accurate weather forecasts
- ☐ 4. Lack of means for evacuating people

Question ID : **65497839478**

Status : **Answered**

Chosen Option : **1**

Comprehension:

Read the given passage and answer the questions that follow.

Floods are not new to India and this sub-continent, but in recent years the problem has received much greater attention perhaps largely because it has led to much greater damage than in the past. Even though information on the impending occurrence of floods is now more accurate and certainly timelier, often there is very little time or support infrastructure in place by which damage can be minimised. This is particularly true in the case of flash floods resulting from sudden and excessively heavy rain.

In the case of India, flooding is very much a function of the seasonal nature of our rainfall. The monsoons are spread over a short period during the year and often bring a concentrated volume of rain, which cannot be absorbed by the earth and finds outlet only in the form of streams that join up with our major river systems. But, flooding is not confined only to the main rivers of the country, often smaller tributaries and streams can cause heavy damage as well. Once these streams spill over their banks they could cause excessive harm, mainly because those living near the banks of these streams particularly in mountain areas do not have easy recourse to moving away quickly.

One major factor that could lead to a higher severity of flooding in the future is the danger of climate change. While the evidence of the nature of impacts resulting from climate change on precipitation and flooding at the regional level is not entirely clear, it could happen that the Indian subcontinent witnesses and suffers the effects of a significantly changed pattern of monsoons. One set of scientists has estimated that the monsoons could be shorter in duration, but far more intensive. In other words, much greater precipitation would take place in a much shorter period of time, thereby increasing the danger of floods. Climate change is the result of human actions through the increased concentration of greenhouse gases in the atmosphere, of which carbon dioxide is the most prominent.

At the local level also human actions have heightened the danger of flood through the cutting of trees in the mountains as well as in the plains. In the case of India, the ecological damage through deforestation of the Himalayas has led to large-scale erosion of the mountain slopes and high levels of siltation. This leads to deposition of silt on the riverbeds in the plains and hence spill-over of water whenever the volume in the river reaches a certain level. With siltation on the river beds, flooding occurs even at very shallow water levels. However, even in cases where forecasts have been timely and generally accurate, people have often been reluctant to move away, because in most cases they lack the means and physical options for moving away from a danger zone to one that is relatively safe. In the case of flash floods, forecasts are difficult to make, and often the time available for relief is very short.

SubQuestion No : 25**Q.25 What causes flash floods?**

Ans ✓ 1. Sudden excessive downpour

✗ 2. A short monsoon

✗ 3. Sudden light rain

✗ 4. A continual drizzle

Question ID : **65497839476**

Status : **Answered**

Chosen Option : **1**

Section : **Quantitative Aptitude**

Q.1 यदि $x - y = \frac{7}{9}$ और $\frac{1}{x} - \frac{1}{y} = 10\frac{1}{2}$ है, तो $(x^3 - y^3)$ का मान क्या होगा?

- Ans
- ☒ 1. $\frac{455}{729}$
 - ☒ 2. $\frac{217}{729}$
 - ☐ 3. $\frac{26}{81}$
 - ☐ 4. $\frac{8}{27}$

Question ID : 65497839597
Status : Answered
Chosen Option : 2

Q.2 जब किसी सामग्री की कीमत 23% बढ़ जाती है, तो एक परिवार इस सामग्री के उपभोग को इस प्रकार कम करता है कि इस सामग्री पर किए जाने वाले व्यय में केवल 5% की बढ़ोतरी होती है। परिवार ने सामग्री की खपत में कितने प्रतिशत की कमी की है (दशमलव के एक स्थान तक सही)?

- Ans
- ☐ 1. 15.8%
 - ☒ 2. 14.6%
 - ☐ 3. 14.2%
 - ☐ 4. 15.2%

Question ID : 65497839587
Status : Answered
Chosen Option : 2

Q.3 एक व्यक्ति का मासिक व्यय, उसकी मासिक बचत से 40% अधिक है। यदि उसकी मासिक आय में 40% की वृद्धि होती है और मासिक व्यय में 60% की वृद्धि होती है, तो वह एक महीने में ₹2,070 अधिक की बचत करता है। उसका प्रारंभिक मासिक व्यय (₹ में) क्या है?

- Ans
- ☒ 1. 24,150
 - ☐ 2. 22,425
 - ☐ 3. 19,320
 - ☐ 4. 20,250

Question ID : 65497839690
Status : Answered
Chosen Option : 1

Q.4 $\triangle PQR$ में, $\angle Q = 90^\circ$, $PQ = 8$ cm और $PR = 17$ cm है। यदि $\angle P$ का द्विभाजक QR से बिंदु S पर मिलता है, तो SR की लंबाई (cm में) क्या होगी?

- Ans** ☒ 1. 10.2
☒ 2. 12.4
☒ 3. 8.4
☒ 4. 9.6

Question ID : 65497839600
 Status : Answered
 Chosen Option : 1

Q.5 28 संख्याओं का औसत 52.5 है। पहली 12 संख्याओं का औसत 48.8 और अगली 13 संख्याओं का औसत 45.8 है। यदि अंतिम 3 संख्याएँ निकाल दी जाएँ, तो शेष संख्याओं का औसत क्या होगा?

- Ans** ☒ 1. 48.64
☒ 2. 51.24
☒ 3. 47.24
☒ 4. 46.42

Question ID : 65497839584
 Status : Answered
 Chosen Option : 3

Q.6 यदि 9 अंकों की संख्या $957x5y6z3$, 33 से विभाज्य है, तो $(x + y + z)$ का अधिकतम मान क्या होगा?

- Ans** ☒ 1. 27
☒ 2. 26
☒ 3. 24
☒ 4. 25

Question ID : 65497839583
 Status : Answered
 Chosen Option : 4

Q.7 यदि $6\cos^2\theta + \cos\theta = 2$, $0^\circ < \theta < 90^\circ$ है, तो $(\operatorname{cosec}\theta + \cot\theta + \tan\theta)$ का मान ज्ञात करें।

- Ans** ☒ 1. $2\sqrt{3}$
☒ 2. $4\sqrt{3}$
☒ 3. $6\sqrt{3}$
☒ 4. $3\sqrt{3}$

Question ID : 65497839500
 Status : Answered
 Chosen Option : 1

Q.8 $\triangle ABC$ में, $AB = 20$ cm, $BC = 7$ cm और $AC = 15$ cm है। भुजा BC को D तक इस प्रकार बढ़ाया जाता है कि $\triangle DAB \sim \triangle DCA$ है। CD की लंबाई ज्ञात करें।

- Ans**
- ✓ 1. 9 cm
 - ✗ 2. 10 cm
 - ✗ 3. 12 cm
 - ✗ 4. 8 cm

Question ID : 65497839703

Status : Not Answered

Chosen Option : --

Q.9 ₹2,310 की एक राशि A, B और C के बीच इस प्रकार वितरित की गई है कि B और C के हिस्सों का अनुपात 3 : 5 तथा C और A के हिस्सों का अनुपात 4 : 9 है। A और C के हिस्सों का अंतर (₹ में) क्या है?

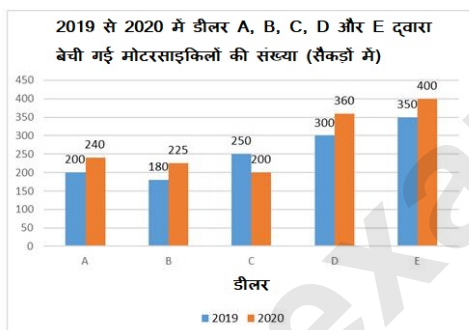
- Ans**
- ✗ 1. 450
 - ✓ 2. 750
 - ✗ 3. 240
 - ✗ 4. 990

Question ID : 65497839591

Status : Answered

Chosen Option : 4

Q.10 निम्नांकित ग्राफ का अध्ययन करें और उसके बाद दिए गए प्रश्न का उत्तर दें।



डीलर _____ के लिए 2020 में मोटरसाइकिलों की बिक्री में हुई प्रतिशत वृद्धि, 2019 की तुलना में 15% से कम है।

- Ans**
- ✗ 1. A
 - ✗ 2. D
 - ✓ 3. E
 - ✗ 4. B

Question ID : 65497839504

Status : Not Answered

Chosen Option : --

Q.11 दो वस्तुओं A और B के क्रय मूल्य समान हैं। वस्तु A को 24% हानि पर और वस्तु B को A के विक्रय मूल्य से ₹270 अधिक में बेचा गया। यदि दोनों वस्तुओं को बेचने पर निवल लाभ 12% है, तो वस्तु B का विक्रय मूल्य (₹ में) क्या है?

- Ans**
- ✓ 1. 555
 - ✗ 2. 610
 - ✗ 3. 645
 - ✗ 4. 575

Question ID : 65497839488
Status : Not Answered
Chosen Option : --

Q.12 यदि $x^4 + y^4 + x^2 y^2 = 21$ और $x^2 + y^2 - xy = 7$ है, तो $\frac{1}{x^2} + \frac{1}{y^2}$ का मान क्या है?

- Ans**
- ✗ 1. $\frac{5}{2}$
 - ✓ 2. $\frac{5}{4}$
 - ✗ 3. $\frac{3}{2}$
 - ✗ 4. $\frac{3}{4}$

Question ID : 65497839701
Status : Answered
Chosen Option : 2

Q.13 एक डीलर एक वस्तु का अंकित मूल्य क्रय मूल्य से 40% अधिक रखता है, और इसे अंकित मूल्य पर दो क्रमागत छूटों (डिस्काउंट) 15% और 25% के साथ बेचता है। यदि उसे ₹43 की हानि होती है, तो वस्तु का अंकित मूल्य (₹ में) क्या है?

- Ans**
- ✓ 1. 560
 - ✗ 2. 420
 - ✗ 3. 480
 - ✗ 4. 700

Question ID : 65497839586
Status : Answered
Chosen Option : 1

Q.14 दोड़ के एक बलयाकार मैदान (रेस ट्रैक) की आंतरिक और बाहरी परिधियाँ क्रमशः 880 m और 1,012 m हैं। मैदान का क्षेत्रफल (m^2 में) ज्ञात करें। (दिया है, $\pi = \frac{22}{7}$)

- Ans**
- ✗ 1. 26488
 - ✗ 2. 13244
 - ✓ 3. 19866
 - ✗ 4. 25284

Question ID : 65497839596
Status : Answered
Chosen Option : 3

Q.15 यदि $\frac{\sec\theta + \tan\theta}{\sec\theta - \tan\theta} = \frac{5}{3}$, $0^\circ < \theta < 90^\circ$ है, तो $(\operatorname{cosec} \theta + \cos \theta + \cot \theta)$ का मान क्या होगा?

Ans

- ☒ 1. $\frac{8+3\sqrt{15}}{4}$
☒ 2. $\frac{8+5\sqrt{15}}{4}$
☒ 3. $\frac{16+5\sqrt{15}}{4}$
☒ 4. $\frac{4+5\sqrt{15}}{2}$

Question ID : 65497839603

Status : Answered

Chosen Option : 3

Q.16 3 अंकीय संख्याओं abc, bca और cab का योग सदैव _____ से विभाज्य होगा।

Ans

- ☒ 1. 35
☒ 2. 41
☒ 3. 31
☒ 4. 37

Question ID : 65497839480

Status : Answered

Chosen Option : 4

Q.17 एक राशि 10% वार्षिक ब्याज दर पर 4 वर्ष में ₹14,641 हो जाती है, जबकि ब्याज वार्षिक रूप से चक्रवृद्धि किया जाता है। वही राशि साधारण ब्याज की समान दर पर $3\frac{2}{5}$ वर्ष में कितनी (₹ में) हो जाएगी?

Ans

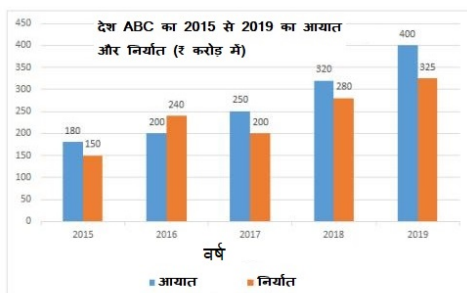
- ☒ 1. 13,400
☒ 2. 13,200
☒ 3. 14,000
☒ 4. 13,600

Question ID : 65497839491

Status : Answered

Chosen Option : 1

Q.18 निम्नांकित ग्राफ का अध्ययन करें और उसके बाद दिए गए प्रश्न का उत्तर दें।



2015, 2017 और 2018 में देश ABC का औसत निर्यात, 2015 से 2018 तक के कुल आयात का कितना प्रतिशत है (दशमलव के एक स्थान तक सही)?

- Ans**
- ✓ 1. 22.1%
 - ✗ 2. 22.8%
 - ✗ 3. 24.4%
 - ✗ 4. 20.6%

Question ID : 65497839605

Status : Not Answered

Chosen Option : --

Q.19 एक निश्चित कार्य करने के लिए, A, B से 40% अधिक कुशल है। एक साथ मिलकर कार्य करते हुए, वे उसी कार्य को 15 दिनों में कर सकते हैं। A ने कार्य शुरू किया और 15 दिनों के बाद छोड़ दिया। B और C मिलकर शेष कार्य को अगले 10 दिनों में पूरा करते हैं। C अकेले मूल कार्य का एक-तिहाई भाग कितने समय में पूरा कर सकता है?

- Ans**
- ✗ 1. 21 दिन
 - ✗ 2. 30 दिन
 - ✓ 3. 24 दिन
 - ✗ 4. 36 दिन

Question ID : 65497839696

Status : Answered

Chosen Option : 3

Q.20 एक समूह में कुछ व्यक्तियों का औसत वजन 76 kg है। यदि 72 kg औसत वजन वाले 15 व्यक्ति समूह में शामिल होते हैं या 84 kg औसत वजन वाले 5 व्यक्ति समूह छोड़ देते हैं, तो दोनों मामलों में समूह में व्यक्तियों का औसत वजन समान रहता है। प्रारंभ में समूह में कितने व्यक्ति थे?

- Ans**
- ✗ 1. 50
 - ✗ 2. 30
 - ✗ 3. 25
 - ✓ 4. 45

Question ID : 65497839687

Status : Not Answered

Chosen Option : --

Q.21 A और B, 1200 m परिमाण वाले एक वृत्ताकार पथ पर भिन्न-भिन्न चाल से दौड़ते हैं। यदि वे एक ही समय और एक ही स्थान से प्रारंभ करते हैं, लेकिन विपरीत दिशाओं में दौड़ते हैं, तो वे पहली बार 3 मिनट में मिलते हैं। यदि B की चाल 10.8 km/h है, तो A की चाल (km/h में) क्या है?

- Ans
- ✗ 1. 13.5
 - ✗ 2. 12.5
 - ✓ 3. 13.2
 - ✗ 4. 12.8

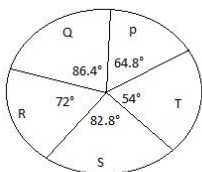
Question ID : 65497839595

Status : Not Answered

Chosen Option : --

Q.22 निम्नांकित पाई चार्ट का अध्ययन करें और उसके बाद दिए गए प्रश्न का उत्तर दें।

पाई चार्ट, 2020 में संस्थान P, Q, R, S और T से वार्षिक परीक्षा में उपस्थित होने वाले छात्रों के वितरण (डिग्री-वार) को दर्शाता है। उपस्थित छात्रों की कुल संख्या 3000 है।



संस्थान Q, S और T से परीक्षा में उपस्थित होने वाले छात्रों की औसत संख्या, संस्थान R से उपस्थित होने वाले छात्रों की संख्या से x अधिक है। x का मान _____ के मध्य है।

- Ans
- ✗ 1. 23 से 27
 - ✓ 2. 18 से 22
 - ✗ 3. 9 से 14
 - ✗ 4. 14 से 18

Question ID : 65497839706

Status : Not Answered

Chosen Option : --

Q.23 ₹6,300 की राशि को A, B, C और D में इस प्रकार विभाजित किया जाता है कि A और D के संयुक्त हिस्से का B और C के संयुक्त हिस्से से अनुपात 11 : 10 है और B और D के हिस्सों का अनुपात 8 : 9 है। यदि C को ₹1,560 मिलते हैं, तो A और B के हिस्सों में कितना अंतर (₹ में) है?

- Ans
- ✗ 1. 180
 - ✓ 2. 240
 - ✗ 3. 160
 - ✗ 4. 120

Question ID : 65497839694

Status : Answered

Chosen Option : 2

Q.24 यदि $x^2 + 9y^2 = 40$ और $xy = 4$ है, जहाँ $x > 0, y > 0$ है, तो $(x^3 + 27y^3)$ का मान क्या होगा?

- Ans
- ☒ 1. 800
 - ☒ 2. 224
 - ☒ 3. 440
 - ☒ 4. 416

Question ID : 65497839748

Status : Answered

Chosen Option : 2

Q.25 एक दुकानदार एक वस्तु का अंकित मूल्य उसके क्रय मूल्य से 20% अधिक रखता है। यदि क्रय मूल्य में 20% की वृद्धि हो जाए और दुकानदार अंकित मूल्य में 16% की वृद्धि कर दे, तो उसका लाभ प्रतिशत (बढ़े हुए मूल्य पर) क्या होगा?

- Ans
- ☒ 1. 16%
 - ☒ 2. 20%
 - ☒ 3. 15%
 - ☒ 4. 24%

Question ID : 65497839589

Status : Answered

Chosen Option : 1

Section : General awareness

Q.1 एक नई केंद्रीय क्षेत्र योजना, अर्थात् प्रधान मंत्री किसान सम्मान निधि (PM-KISAN) के आरंभ की प्रथम वर्षगांठ _____ में थी।

- Ans
- ☒ 1. फ़रवरी 2020
 - ☒ 2. फ़रवरी 2021
 - ☒ 3. फ़रवरी 2019
 - ☒ 4. फ़रवरी 2018

Question ID : 65497839610

Status : Not Answered

Chosen Option : --

Q.2 मुस्लिम लीग ने _____ 1946 को 'सीधी कार्रवाई दिवस' ('direct action day') के रूप में घोषित किया था।

- Ans
- ☒ 1. 21 सितंबर
 - ☒ 2. 18 अगस्त
 - ☒ 3. 16 अगस्त
 - ☒ 4. 28 अगस्त

Question ID : 65497839623

Status : Answered

Chosen Option : 3

Q.3 भारत और इंग्लैंड की पुरुष क्रिकेट टीम के बीच खेली गई टेस्ट श्रृंखला (फ़रवरी-मार्च 2021) का परिणाम क्या रहा था?

- Ans
- ☒ 1. इंग्लैंड 2-1 से विजयी रहा
 - ☒ 2. 2-2 से अनिर्णीत रही
 - ☒ 3. भारत 3-1 से विजयी रहा
 - ☒ 4. भारत 2-1 से विजयी रहा

Question ID : 65497839529

Status : Answered

Chosen Option : 2

Q.4 _____ प्रदर्शन केलिकोट्ट के साथ आरंभ होता है, जो दर्शकों का ध्यान आकर्षित करता है और उसके बाद थोड़ा यम होता है।

- Ans
- ☒ 1. कथकली
 - ☒ 2. कथक
 - ☒ 3. कुचिपुड़ी
 - ☒ 4. सत्रीया

Question ID : 65497839505

Status : Answered

Chosen Option : 1

Q.5 निम्नलिखित में से कौन सा राज्य बांग्लादेश के साथ अपनी सीमा साझा नहीं करता है?

- Ans
- ☒ 1. त्रिपुरा
 - ☒ 2. असम
 - ☒ 3. मेघालय
 - ☒ 4. नागालैंड

Question ID : 65497839620

Status : Answered

Chosen Option : 4

Q.6 केंद्रीय प्रशासनिक न्यायाधिकरण अधिनियम की उत्पत्ति भारत के संविधान के अनुच्छेद _____ के कारण हुई है।

- Ans
- ☒ 1. 324
 - ☒ 2. 323-A
 - ☒ 3. 325-A
 - ☒ 4. 322

Question ID : 65497839730

Status : Not Answered

Chosen Option : --

Q.7 निम्नलिखित में से कौन सा/से कथन गलत है/हैं?

- A: कुट्टनाड कर्नाटक राज्य में है।
 B: कुट्टनाड कृषि प्रणाली समुद्र तल से नीचे चावल की खेती में लाभकारी होती है।
 C: कुट्टनाड एक रामसर स्थल है और जल पर्यटन के लिए एक प्रख्यात गंतव्य है।

Ans ☒ 1. केवल A और B
☒ 2. केवल C
☒ 3. A, B और C
☒ 4. केवल A

Question ID : 65497839720
 Status : Answered
 Chosen Option : 3

Q.8 केंद्रीय बजट 2021 ने आगामी वित्तीय वर्ष 2021-22 में _____ सार्वजनिक क्षेत्र के बैंकों और एक सामान्य बीमा कंपनी के निजीकरण की घोषणा की है।

Ans ☒ 1. पाँच
☒ 2. दो
☒ 3. चार
☒ 4. तीन

Question ID : 65497839612
 Status : Not Answered
 Chosen Option : --

Q.9 2011 की जनगणना के अनुसार, भारत में दूसरी सर्वाधिक साक्षरता दर निम्नलिखित में से किसकी है?

Ans ☒ 1. केरल
☒ 2. पुडुचेरी
☒ 3. लक्षद्वीप
☒ 4. गोवा

Question ID : 65497839517
 Status : Not Answered
 Chosen Option : --

Q.10 मकबरा चीनी का रोजा _____ में स्थित है।

Ans ☒ 1. औरंगाबाद
☒ 2. भोपाल
☒ 3. आगरा
☒ 4. सीकरी

Question ID : 65497839711
 Status : Not Answered
 Chosen Option : --

Q.11 निम्नलिखित में से कौन सी योजना पर्यटन मंत्रालय द्वारा आरंभ की गई थी?

- Ans ☒ 1. अमृत (AMRUT)
☒ 2. संग्रहालय अनुदान
☒ 3. स्वदेश दर्शन
☒ 4. हृदय (HRIDAY)

Question ID : 65497839509

Status : Answered

Chosen Option : 3

Q.12 वातावरण में उपस्थित कुछ प्रतिजनों (antigens) के प्रति _____ प्रणाली की अतिरंजित प्रतिक्रिया को प्रत्यूजता (एलर्जी) कहा जाता है।

- Ans ☒ 1. हृद्वाहिनी (कार्डियोवैस्कुलर)
☒ 2. पाचक
☒ 3. प्रतिरक्षा
☒ 4. तंत्रिकीय

Question ID : 65497839616

Status : Answered

Chosen Option : 3

Q.13 प्राचीन भारत की साहित्यिक कृतियों के संदर्भ में निम्नलिखित में से कौन-सा युग्म सही है?

- Ans ☒ 1. मालविकाग्निमित्रम् - विष्णु शर्मा
☒ 2. मुद्राराक्षस - विशाखदत्त
☒ 3. कादंबरी - कौटिल्य
☒ 4. मृच्छकटिक - पाणिनि

Question ID : 65497839723

Status : Answered

Chosen Option : 2

Q.14 निम्नलिखित में से कौन सा उत्सव पूर्णिमा के दिन नहीं मनाया जाता है?

- Ans ☒ 1. रक्षाबंधन
☒ 2. ईद-उल-फ़ित्र
☒ 3. शब-ए-बारात
☒ 4. बुद्ध जयंती

Question ID : 65497839608

Status : Answered

Chosen Option : 2

Q.15 दिए गए कथनों में से कौन-सा/से कथन सही है/हैं?

- (a) नियंत्रक और महालेखा परीक्षक (CAG) की नियुक्ति भारत के राष्ट्रपति द्वारा की जाती है।
 (b) CAG को पद से केवल सर्वोच्च न्यायालय के न्यायाधीश के रूप में उसी तरह और समान आधार पर पद से हटाया जाएगा।
 (c) CAG अपना पद छोड़ने के बाद भारत सरकार या किसी राज्य की सरकार के अधीन आगे के पद के लिए पात्र नहीं होगा।

- Ans ☒ 1. (a) और (b), लेकिन (c) नहीं
☒ 2. (a), (b) और (c)
☒ 3. (a) और (c), लेकिन (b) नहीं
☒ 4. केवल (a)

Question ID : 65497839629
 Status : Answered
 Chosen Option : 2

Q.16 निम्नलिखित में से कौन सी वैज्ञानिक गन्ना और बैंगन पर अपने उल्लेखनीय कार्य के लिए प्रसिद्ध हैं?

- Ans ☒ 1. कमला सोहोनी
☒ 2. असीमा चटर्जी
☒ 3. जानकी अम्माल
☒ 4. सौम्या स्वामीनाथन

Question ID : 65497839524
 Status : Not Answered
 Chosen Option : --

Q.17 1887 में कांग्रेस को अध्यक्ष के रूप में किसने संबोधित किया कि - "यह कांग्रेस भारत के किसी एक वर्ग या समुदाय के नहीं, बल्कि भारत के सभी विभिन्न समुदायों के प्रतिनिधियों से बनी है"?

- Ans ☒ 1. बदरुद्दीन तैयबजी
☒ 2. सुरेंद्रनाथ बनर्जी
☒ 3. दादाभाई नौरोजी
☒ 4. गोपाल कृष्ण गोखले

Question ID : 65497839624
 Status : Not Answered
 Chosen Option : --

Q.18 भारत के संविधान का 42वां संशोधन वर्ष _____ में पारित किया गया था।

- Ans ☒ 1. 1978
☒ 2. 1977
☒ 3. 1975
☒ 4. 1976

Question ID : 65497839630
 Status : Answered
 Chosen Option : 4

Q.19 पर्यावरण और विकास पर संयुक्त राष्ट्र सम्मेलन (UNCED) जिसने 'एजेंडा 21' को अपनाया था, कहाँ आयोजित किया गया था?

- Ans
- ☐ 1. स्टॉकहोम (Stockholm)
 - ☐ 2. नई दिल्ली (New Delhi)
 - ☐ 3. पेरिस (Paris)
 - ☒ 4. रियो डे जैनेरो (Rio de Janeiro)

Question ID : 65497839513
Status : Not Answered
Chosen Option : --

Q.20 'बाई गॉड्स डिक्री' ('By God's Decree') पुस्तक किसकी आत्मकथा है?

- Ans
- ☐ 1. अलीक पदमसी
 - ☒ 2. कपिल देव
 - ☐ 3. राज कपूर
 - ☐ 4. मोहिंदर अमरनाथ

Question ID : 65497839625
Status : Not Answered
Chosen Option : --

Q.21 अंतरदेशीय धाराएं/नदियां (Inland streams) जो समुद्र में नहीं मिलती हैं, सामान्यतः भारत के किस राज्य में पाई जाती हैं?

- Ans
- ☐ 1. पंजाब
 - ☐ 2. मध्य प्रदेश
 - ☒ 3. राजस्थान
 - ☐ 4. बिहार

Question ID : 65497839617
Status : Answered
Chosen Option : 4

Q.22 51वें दादासाहेब फाल्के पुरस्कार प्राप्तकर्ता _____ हैं।

- Ans
- ☐ 1. गुलज़ार
 - ☐ 2. अमिताभ बच्चन
 - ☐ 3. श्याम बेनेगल
 - ☒ 4. रजनीकांत

Question ID : 65497839729
Status : Answered
Chosen Option : 4

Q.23 शैवाल आमतौर पर इनमें से किसमें नहीं पाए जाते हैं?

- Ans
- ☒ 1. अलवण जल
 - ☐ 2. शुष्क पत्थर
 - ☒ 3. काष्ठ
 - ☒ 4. मृदा

Question ID : 65497839716
Status : Not Answered
Chosen Option : --

Q.24 अल बिरूनी की किताब-उल-हिंद _____ में लिखी गई थी।

- Ans
- ☒ 1. अरबी
 - ☒ 2. तुर्की
 - ☒ 3. उर्दू
 - ☒ 4. फ़ारसी

Question ID : 65497839520
Status : Answered
Chosen Option : 4

Q.25 निम्नलिखित में से कौन सी ऊर्जा की इकाई है?

- Ans
- ☒ 1. वोल्ट (volt)
 - ☒ 2. जूल/सेकंड (joule/sec)
 - ☒ 3. पास्कल (Pascal)
 - ☐ 4. किलोवॉट-घंटा (kilowatt-hour)

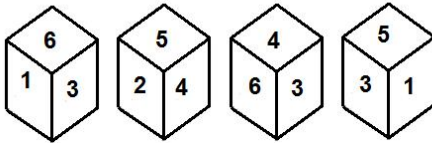
Question ID : 65497839613
Status : Answered
Chosen Option : 4

Selection Post Phase IX 2021 Graduate level

Roll Number	examstocks.com
Candidate Name	examstocks.com
Venue Name	Jaipur Engineering College
Exam Date	09/02/2022
Exam Time	3:00 PM - 4:00 PM
Subject	Selection Post Graduate Level

Section : General Intelligence

Q.1 एक ही पासे की चार विभिन्न स्थितियां प्रदर्शित हैं, जिसके छह फलकों पर 1 से 6 तक की संख्याएं अंकित हैं। वह संख्या चुनें जो '1' वाले फलक के विपरीत फलक पर होगी।



Ans ☒ 1. 4

☒ 2. 5

☒ 3. 2

☒ 4. 3

Question ID : 65497839450

Status : Answered

Chosen Option : 1

Q.2 वह सही विकल्प चुनें जो दिए गए शब्दों का वही क्रम विन्यास प्रदर्शित करता है जिस क्रम में वे अंग्रेजी शब्दकोश में आते हैं।

1. Manicurist
2. Manipulator
3. Manifest
4. Manageable
5. Mandible
6. Manifesto
7. Mandate

Ans ☒ 1. 4, 7, 1, 5, 3, 6, 2

☒ 2. 4, 7, 5, 1, 6, 3, 2

☒ 3. 4, 7, 5, 1, 3, 6, 2

☒ 4. 4, 7, 5, 3, 1, 6, 2

Question ID : 65497839431

Status : Answered

Chosen Option : 3

Q.3 अक्षरों का वह संयोजन चुनें जिसे निम्नांकित श्रृंखला के रिक्त स्थानों पर क्रमबद्ध रूप से रखे जाने पर श्रृंखला पूरी हो जाएगी।

a _ d _ _ b i k a c _ b a b _ k _ c _ b a _ i k

- Ans ☒ 1. cdadiadb
☒ 2. cbadiadb
☒ 3. cbadiabd
☒ 4. cbaidadb

Question ID : 65497839441

Status : Answered

Chosen Option : 2

Q.4 किसी कूट भाषा में, PRESENT को OQDHFOU और FORCE को ENIDF के रूप में लिखा जाता है। उसी भाषा में DORMITORY को किस प्रकार से लिखा जाएगा?

- Ans ☒ 1. UPSZRCNQL
☒ 2. CNQLRUPSZ
☒ 3. CNLQRPUSZ
☒ 4. CNQNQUSZ

Question ID : 65497839538

Status : Answered

Chosen Option : 2

Q.5 W, D का पुत्र है। C, D के पुत्र की पुत्री है। P की बहन N का विवाह W के साथ हुआ है। D, K का पति है। K, C से किस प्रकार संबंधित है?

- Ans ☒ 1. दादी
☒ 2. माता
☒ 3. नानी
☒ 4. चाची

Question ID : 65497839739

Status : Answered

Chosen Option : 1

Q.6 उस सही विकल्प का चयन करें जो दिए गए शब्दों को तार्किक और अर्थपूर्ण क्रम में व्यवस्थित करता है।

1. आंखें
2. नाक
3. उंगलियां
4. बाल
5. हड्डियाँ

- Ans ☒ 1. 2, 1, 3, 5, 4
☒ 2. 3, 1, 2, 5, 4
☒ 3. 2, 1, 3, 4, 5
☒ 4. 2, 1, 5, 4, 3

Question ID : 65497839634

Status : Answered

Chosen Option : 1

Q.7 दिए गए कथन और निष्कर्ष सावधानीपूर्वक पढ़ें। कथनों में दी गई जानकारी को सत्य मानते हुए, चाहे यह सामान्यतः ज्ञात तथ्यों से असंगत प्रतीत होती हो, यह निर्धारित करें, कि दिए गए निष्कर्षों में से कौन सा/से निष्कर्ष कथनों का तार्किक रूप से अनुसरण करता है/करते हैं।

कथन:

कुछ जग, बोतलें हैं।
कोई बोतल, कैडी नहीं है।
सभी चम्मच, बोतलें हैं।

निष्कर्ष:

- I. कुछ जग, चम्मच हैं।
- II. कोई चम्मच, कैडी नहीं है।
- III. कोई जग, चम्मच नहीं है।
- IV. कोई जग, कैडी नहीं है।

- Ans ☒ 1. या तो निष्कर्ष I या IV और II अनुसरण करते हैं।
☒ 2. या तो निष्कर्ष I या III और II अनुसरण करते हैं।
☒ 3. केवल निष्कर्ष II और III अनुसरण करते हैं।
☒ 4. केवल निष्कर्ष I, II और IV अनुसरण करते हैं।

Question ID : 65497839445

Status : Answered

Chosen Option : 2

Q.8 एक निश्चित कूट भाषा में, 'EMPTY' को AVROG के रूप में लिखा जाता है और 'PUSH' को JUWR के रूप में लिखा जाता है। उसी भाषा में 'ASPIRE' को कैसे लिखा जाएगा?

- Ans ☒ 1. CTKURG
☒ 2. GTKSUD
☒ 3. GTKRUC
☒ 4. GTLRVC

Question ID : 65497839435

Status : Answered

Chosen Option : 3

Q.9 दिए गए कथनों और निष्कर्षों को ध्यानपूर्वक पढ़ें। यह मानते हुए कि कथनों में दी गई सूचना सही है, भले ही वह सामान्य रूप से ज्ञात तथ्यों से भिन्न प्रतीत होती हो, और यह निर्धारित करें कि दिए गए निष्कर्षों में से कौन-सा/से निष्कर्ष कथनों का तार्किक रूप से अनुसरण करता है/करते हैं।

कथन:

सभी लकड़ियां कुर्सियाँ हैं।
सभी कुर्सियाँ बेंच हैं।
सभी प्लास्टिक लकड़ियाँ हैं।

निष्कर्ष:

- I. सभी लकड़ियाँ बेंच हैं।
- II. सभी प्लास्टिक कुर्सियाँ हैं।
- III. कोई बेंच प्लास्टिक नहीं है।

- Ans ☒ 1. केवल निष्कर्ष I और II अनुसरण करते हैं।
☒ 2. केवल निष्कर्ष I अनुसरण करता है।
☒ 3. केवल निष्कर्ष II अनुसरण करता है।
☒ 4. केवल निष्कर्ष I और III अनुसरण करते हैं।

Question ID : 65497839546

Status : Answered

Chosen Option : 1

Q.10 एक निश्चित कूट भाषा में, 'he was invited' को 'nu vu du' के रूप में लिखा जाता है 'she invited them' को 'hu du ru' के रूप में लिखा जाता है, और 'she was there' को 'tu vu ru' के रूप में लिखा जाता है। उसी भाषा में 'there' को कैसे लिखा जाएगा?

- Ans ☒ 1. ru
☒ 2. tu
☒ 3. du
☒ 4. vu

Question ID : 65497839434
 Status : Answered
 Chosen Option : 2

Q.11 वह विकल्प चुनें जो तीसरे पद से उसी प्रकार संबंधित है जिस प्रकार दूसरा पद, पहले पद से संबंधित है।

FREQUENT : RFSGUOFV :: NOMINATE : ?

- Ans ☒ 1. JNPOUFOB
☒ 2. JNPOFUBO
☒ 3. JNQOFBUO
☒ 4. NJPOGUBO

Question ID : 65497839734
 Status : Not Answered
 Chosen Option : --

Q.12 दिए गए संयोजन का सही दर्पण प्रतिबिंब चुनें, जब दर्पण को दिखाए गए अनुसार रेखा PQ पर रखा गया है।

e f q w G Z 4 R

P
|
Q

- Ans ☒ 1. R 4 Z G w p f e
☒ 2. R 4 Z G w p f e
☒ 3. R 4 Z G w p f e
☒ 4. R 4 Z G w p f e

Question ID : 65497839452
 Status : Answered
 Chosen Option : 2

Q.13 वह विकल्प चुनें जो तीसरे शब्द से उसी प्रकार संबंधित है जिस प्रकार दूसरा शब्द, पहले शब्द से संबंधित है।

बांभी : चींटियां :: पक्षि : ?

- Ans ☒ 1. ईंटें
☒ 2. पशु
☒ 3. अस्थियां
☒ 4. पंख

Question ID : 65497839433
 Status : Not Answered
 Chosen Option : --

Q.14 उस विकल्प का चयन करें जो तीसरे शब्द से ठीक उसी प्रकार से संबंधित है जैसे दूसरा शब्द पहले शब्द से संबंधित है।

ध्यान : शांति :: उपचार : ?

- Ans ☒ 1. स्वास्थ्य लाभ
☒ 2. अस्पताल
☒ 3. रोग
☒ 4. चिकित्सक

Question ID : 65497839636

Status : Answered

Chosen Option : 1

Q.15 उस आकृति का चयन करें जो निम्नलिखित श्रृंखला में प्रश्न चिह्न (?) के स्थान पर आ सकती है।



Ans

- ☒ 1.
- ☒ 2.
- ☒ 3.
- ☒ 4.

Question ID : 65497839551

Status : Answered

Chosen Option : 3

Q.16 एक निश्चित कूट भाषा में, 'JURY' को 1397 के रूप में कूटबद्ध किया जाता है और 'DOCK' को 4632 के रूप में कूटबद्ध किया जाता है। उसी भाषा में 'FACTORIAL' को कैसे कूटबद्ध किया जाएगा?

- Ans ☒ 1. 613269913
☒ 2. 613368913
☒ 3. 614269912
☒ 4. 612368813

Question ID : 65497839438

Status : Answered

Chosen Option : 1

Q.17 किसी कूट भाषा में, UNDER को 61323229 के रूप में लिखा जाता है। उसी भाषा में FLORINA को किस प्रकार से लिखा जाएगा?

- Ans ☒ 1. 2115129181326
☒ 2. 2015121891301
☒ 3. 2112159161326
☒ 4. 2015129181426

Question ID : 65497839539

Status : Not Answered

Chosen Option : --

Q.18 'A @ B' का अर्थ है कि 'A, B की बहन है।'
 'A & B' का अर्थ है कि 'A, B का भाई है।'
 'A # B' का अर्थ है कि 'A, B की पत्नी है।'
 'A ^ B' का अर्थ है कि 'A, B की माँ है।'
 'A + B' का अर्थ है कि 'A, B का पिता है।'

'यदि 'L ^ U @ R ^ P # J + N & D @ S', तो निम्नलिखित में से कौन सा कथन सही नहीं है।

- Ans ☒ 1. U, J की नानी है।
☒ 2. D, P की पुत्री है।
☒ 3. R, S की नानी है।
☒ 4. L, P की नानी है।

Question ID : 65497839443

Status : Not Answered

Chosen Option : --

Q.19 उस विकल्प का चयन करें जो तीसरे अक्षर-समूह से ठीक उसी प्रकार से संबंधित है जैसे दूसरा अक्षर-समूह पहले अक्षर-समूह से संबंधित है।

RENAME : GTCPGO :: CLOSED : ?

- Ans ☒ 1. MEURFG
☒ 2. NEUQGH
☒ 3. NDVQFG
☒ 4. NEUQFG

Question ID : 65497839633

Status : Not Answered

Chosen Option : --

Q.20 किसी कूट भाषा में, DEAF को 4-10-3-24 और MAGIC को 13-2-21-36-15 के रूप में लिखा जाता है। उसी भाषा में CLOSET को किस प्रकार से लिखा जाएगा?

- Ans ☒ 1. 3-24-45-57-20-100
☒ 2. 3-12-45-76-20-120
☒ 3. 3-24-45-76-25-120
☒ 4. 3-24-30-76-25-120

Question ID : 65497839643

Status : Answered

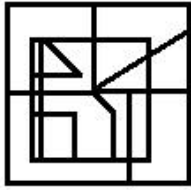
Chosen Option : 4

Q.21 उस विकल्प का चयन करें जिसमें दी गई आकृति सन्निहित है (घुमाने की अनुमति नहीं है)।

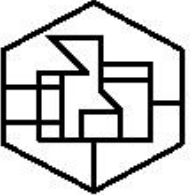


Ans

✓ 1.



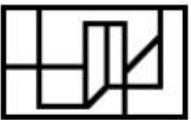
✗ 2.



✗ 3.



✗ 4.



Question ID : 65497839655

Status : Answered

Chosen Option : 1

Q.22 वह विकल्प चुनें जो तीसरी संख्या से उसी प्रकार संबंधित है जिस प्रकार दूसरी संख्या, पहली संख्या से संबंधित है और छठी संख्या, पाँचवीं संख्या से संबंधित है।

22 : 528 :: 24 : ? :: 25 : 675

Ans ✗ 1. 480

✗ 2. 752

✗ 3. 521

✓ 4. 624

Question ID : 65497839447

Status : Answered

Chosen Option : 4

Q.23 किन दो संख्याओं (अंकों को नहीं) और दो चिन्हों को आपस में बदलने से निम्नांकित दिया गया समीकरण सही हो जाएगा?

$240 \div 20 - 16 \times 14 + 120 = 175$

Ans ✗ 1. 240 और 16, + और +

✗ 2. 240 और 120, + और -

✓ 3. 16 और 20, - और +

✗ 4. 14 और 16, + और -

Question ID : 65497839448

Status : Not Answered

Chosen Option : --

Q.24 दिए गए विकल्पों में से उस संख्या का चयन कीजिए जो दी गई श्रृंखला में प्रश्न चिह्न (?) के स्थान पर आ सकती है।

23, 25, 75, 79, 395, 401, ?

Ans ☒ 1. 1203

☒ 2. 408

☒ 3. 802

☒ 4. 2807

Question ID : 65497839650

Status : Answered

Chosen Option : 4

Q.25 उस अक्षर संयोजन का चयन करें जिसे दी गई श्रृंखला के रिक्त स्थानों में क्रमिक रूप से रखे जाने पर श्रृंखला पूर्ण होगी।

T _ O _ M K _ H O G _ _ T H _ _ M K

Ans ☒ 1. H G T M K G O

☒ 2. H G T M K O G

☒ 3. H G H M K O G

☒ 4. H G K M K O G

Question ID : 65497839542

Status : Answered

Chosen Option : 2

Section : English Language

Q.1 Select the option that will improve the underlined part of the given sentence. In case no improvement is needed, select 'No improvement required'.

At present, the examination system in India are characterised with heterogeneity.

Ans ☒ 1. has characterised with

☒ 2. is characterised by

☒ 3. No improvement required

☒ 4. are characteristic by

Question ID : 65497839458

Status : Answered

Chosen Option : 2

Q.2 Select the most appropriate option to fill in the blank.

If I _____ you, I would take the feedback positively.

Ans ☒ 1. was

☒ 2. am

☒ 3. is

☒ 4. were

Question ID : 65497839460

Status : Answered

Chosen Option : 4

Q.3 Select the most appropriate synonym of the given word.

Mitigate

- Ans ☒ 1. Incite
☒ 2. Intensify
☒ 3. Alleviate
☒ 4. Aggravate

Question ID : 65497839667

Status : Answered

Chosen Option : 3

Q.4 The following sentence has been split into four segments. Identify the segment that contains a grammatical error.

She was thinking / of marrying Sanjay / when she discovered / he has already married.

- Ans ☒ 1. She was thinking
☒ 2. he has already married
☒ 3. of marrying Sanjay
☒ 4. when she discovered

Question ID : 65497839657

Status : Answered

Chosen Option : 2

Q.5 Select the INCORECTLY spelt word.

- Ans ☒ 1. Maintainence
☒ 2. Occasion
☒ 3. Motivate
☒ 4. Tendency

Question ID : 65497839569

Status : Answered

Chosen Option : 1

Q.6 Sentences of a paragraph are given below in jumbled order. Arrange the sentences in the correct order to form a meaningful and coherent paragraph.

- A. She was busy with preparations for lunch when Bryan walked in.
 B. Lucy went straight to the kitchen on getting back home.
 C. Lucy gave him a quick, slightly preoccupied glance.
 D. "Can I give you a hand in any way?" he asked Lucy.

- Ans ☒ 1. BADC
☒ 2. CDAB
☒ 3. BDCA
☒ 4. CBDA

Question ID : 65497839666

Status : Answered

Chosen Option : 1

Q.7 Select the option that expresses the given sentence in passive voice.

She sings songs in several languages.

- Ans ☒ 1. Songs in several languages are being sung by her.
☒ 2. Songs in several languages are sung by her.
☒ 3. Songs in several languages were sung by her.
☒ 4. Songs in several languages have been sung by her.

Question ID : 65497839556

Status : Answered

Chosen Option : 2

Q.8 Select the most appropriate option to fill in the blank.

We will have to atone _____ our misdeeds.

- Ans ☒ 1. for
☒ 2. on
☒ 3. from
☒ 4. in

Question ID : 65497839461

Status : Not Answered

Chosen Option : --

Q.9 Select the option that expresses the given sentence in direct speech.

My supplier told me that he could see sincerity in my eyes.

- Ans ☒ 1. My supplier said to me, "I could see sincerity in my eyes."
☒ 2. My supplier said to me, "He can see sincerity in my eyes."
☒ 3. My supplier said to me, "I can see sincerity in your eyes."
☒ 4. My supplier said to me, "I could see sincerity in his eyes."

Question ID : 65497839660

Status : Answered

Chosen Option : 3

Q.10 Select the most appropriate ANTONYM of the given word.

Equanimity

- Ans ☒ 1. Agitation
☒ 2. Calmness
☒ 3. Serenity
☒ 4. Assurance

Question ID : 65497839464

Status : Answered

Chosen Option : 1

Q.11 Select the most appropriate meaning of the given idiom.

To draw a blank

- Ans
- ☒ 1. To win a lottery
 - ☒ 2. To become unconscious
 - ☒ 3. To get no results
 - ☒ 4. To forget someone close

Question ID : 65497839465

Status : Answered

Chosen Option : 3

Q.12 Select the option that will improve the underlined part of the given sentence. In case no improvement is needed, select 'No improvement required'.

We yet have time for catching the flight.

- Ans
- ☒ 1. have yet time to catch
 - ☒ 2. have time still for catching
 - ☒ 3. still have time to catch
 - ☒ 4. No improvement required

Question ID : 65497839561

Status : Answered

Chosen Option : 3

Q.13 Select the option that expresses the given sentence in indirect speech.

The teacher said to the students, "Can you distinguish between these two words?"

- Ans
- ☒ 1. The teacher asked the students if they could distinguish between those two words.
 - ☒ 2. The teacher asked the students if they can distinguish between these two words.
 - ☒ 3. The teacher asked the students that if they could distinguish between these two words.
 - ☒ 4. The teacher asked the students could they distinguish between those two words.

Question ID : 65497839457

Status : Answered

Chosen Option : 1

Q.14 Select the option that can be used as a one-word substitute for the given group of words.

An original model from which later forms are developed

- Ans
- ☒ 1. Prototype
 - ☒ 2. Descendent
 - ☒ 3. Ancestor
 - ☒ 4. Manuscript

Question ID : 65497839466

Status : Answered

Chosen Option : 1

Q.15 Select the option that expresses the given sentence in passive voice.

The audience was making fun of the speaker.

- Ans ☒ 1. The speaker has been made fun of by the audience.
- ☒ 2. The speaker was being made fun of by the audience.
- ☒ 3. The speaker is being made fun of by the audience.
- ☒ 4. The speaker was made fun of by the audience.

Question ID : 65497839455

Status : Answered

Chosen Option : 2

Comprehension:

Read the given passage and answer the questions that follow.

According to legend, ancient Rome was founded by the two brothers, and demigods Romulus and Remus on 21 April 753 BCE. The legend claims that in an argument over who would rule the city (or, in another version, where the city would be located) Romulus killed Remus and named the city after himself. This story of the founding of Rome is the best known but it is not the only one.

Other legends claim the city was named after a woman, Roma who travelled with Aeneas and the other survivors from Troy after that city fell. Upon landing on the banks of the Tiber River, Roma and the other women objected when the men wanted to move on. She led the women in the burning of the Trojan ships and so effectively stranded the Trojan survivors at the site which would eventually become Rome. Aeneas of Troy is featured in this legend and also, famously, in Virgil's Aeneid, as a founder of Rome and the ancestor of Romulus and Remus, thus linking Rome with the grandeur and might which was once Troy.

Still other theories concerning the name of the famous city suggest it came from Rumon, the ancient name for the Tiber River, and was simply a name given to the small trading centre established on its banks or that the name was derived from an Etruscan word, which could have designated one of their settlements.

Originally a small town on the banks of the Tiber, Rome grew in size and strength, early on, through trade. The location of the city provided merchants with an easily navigable waterway on which to traffic their goods. The city was ruled by seven kings, from Romulus to Tarquin, as it grew in size and power. Greek culture and civilisation, which came to Rome via Greek colonies to the south, provided the early Romans with a model on which to build their own culture. From the Greeks they borrowed literacy and religion as well as the fundamentals of architecture.

The Etruscans, to the north, provided a model for trade and urban luxury. Etruria was also well situated for trade and the early Romans either learned the skills of trade from Etruscan example or were taught directly by the Etruscans who made incursions into the area around Rome sometime between 650 and 600 BCE (although their influence was felt much earlier). The extent of the role the Etruscan civilisation played in the development of Roman culture and society is debated but there seems little doubt they had a significant impact at an early stage.

SubQuestion No : 16

Q.16 Etruscans taught the early Romans:

- Ans ☒ 1. The skills of trade
- ☒ 2. Literacy and religion
- ☒ 3. How to build waterways
- ☒ 4. The fundamentals of architecture

Question ID : 65497839580

Status : Answered

Chosen Option : 1

Comprehension:

Read the given passage and answer the questions that follow.

According to legend, ancient Rome was founded by the two brothers, and demigods Romulus and Remus on 21 April 753 BCE. The legend claims that in an argument over who would rule the city (or, in another version, where the city would be located) Romulus killed Remus and named the city after himself. This story of the founding of Rome is the best known but it is not the only one.

Other legends claim the city was named after a woman, Roma who travelled with Aeneas and the other survivors from Troy after that city fell. Upon landing on the banks of the Tiber River, Roma and the other women objected when the men wanted to move on. She led the women in the burning of the Trojan ships and so effectively stranded the Trojan survivors at the site which would eventually become Rome. Aeneas of Troy is featured in this legend and also, famously, in Virgil's Aeneid, as a founder of Rome and the ancestor of Romulus and Remus, thus linking Rome with the grandeur and might which was once Troy.

Still other theories concerning the name of the famous city suggest it came from Rumon, the ancient name for the Tiber River, and was simply a name given to the small trading centre established on its banks or that the name was derived from an Etruscan word, which could have designated one of their settlements.

Originally a small town on the banks of the Tiber, Rome grew in size and strength, early on, through trade. The location of the city provided merchants with an easily navigable waterway on which to traffic their goods. The city was ruled by seven kings, from Romulus to Tarquin, as it grew in size and power. Greek culture and civilisation, which came to Rome via Greek colonies to the south, provided the early Romans with a model on which to build their own culture. From the Greeks they borrowed literacy and religion as well as the fundamentals of architecture.

The Etruscans, to the north, provided a model for trade and urban luxury. Etruria was also well situated for trade and the early Romans either learned the skills of trade from Etruscan example or were taught directly by the Etruscans who made incursions into the area around Rome sometime between 650 and 600 BCE (although their influence was felt much earlier). The extent of the role the Etruscan civilisation played in the development of Roman culture and society is debated but there seems little doubt they had a significant impact at an early stage.

SubQuestion No : 17

Q.17 Who among the following is NOT believed to be one of the founders of Rome?

- Ans ✓ 1. Tarquin
 ✗ 2. Remus
 ✗ 3. Aeneas
 ✗ 4. Romulus

Question ID : 65497839577

Status : Answered

Chosen Option : 2

Comprehension:

Read the given passage and answer the questions that follow.

According to legend, ancient Rome was founded by the two brothers, and demigods Romulus and Remus on 21 April 753 BCE. The legend claims that in an argument over who would rule the city (or, in another version, where the city would be located) Romulus killed Remus and named the city after himself. This story of the founding of Rome is the best known but it is not the only one.

Other legends claim the city was named after a woman, Roma who travelled with Aeneas and the other survivors from Troy after that city fell. Upon landing on the banks of the Tiber River, Roma and the other women objected when the men wanted to move on. She led the women in the burning of the Trojan ships and so effectively stranded the Trojan survivors at the site which would eventually become Rome. Aeneas of Troy is featured in this legend and also, famously, in Virgil's Aeneid, as a founder of Rome and the ancestor of Romulus and Remus, thus linking Rome with the grandeur and might which was once Troy.

Still other theories concerning the name of the famous city suggest it came from Rumon, the ancient name for the Tiber River, and was simply a name given to the small trading centre established on its banks or that the name was derived from an Etruscan word, which could have designated one of their settlements.

Originally a small town on the banks of the Tiber, Rome grew in size and strength, early on, through trade. The location of the city provided merchants with an easily navigable waterway on which to traffic their goods. The city was ruled by seven kings, from Romulus to Tarquin, as it grew in size and power. Greek culture and civilisation, which came to Rome via Greek colonies to the south, provided the early Romans with a model on which to build their own culture. From the Greeks they borrowed literacy and religion as well as the fundamentals of architecture.

The Etruscans, to the north, provided a model for trade and urban luxury. Etruria was also well situated for trade and the early Romans either learned the skills of trade from Etruscan example or were taught directly by the Etruscans who made incursions into the area around Rome sometime between 650 and 600 BCE (although their influence was felt much earlier). The extent of the role the Etruscan civilisation played in the development of Roman culture and society is debated but there seems little doubt they had a significant impact at an early stage.

SubQuestion No : 18

Q.18 According to legend, what did Roma do to stop the Trojan men at the banks of the Tiber?

- Ans** ☒ 1. She burnt the trojan ships.
- ☐ 2. She destroyed the city of Troy.
- ☐ 3. She established a trading centre.
- ☐ 4. She declared herself as the ruler.

Question ID : **65497839578**

Status : **Answered**

Chosen Option : **1**

Comprehension:

Read the given passage and answer the questions that follow.

According to legend, ancient Rome was founded by the two brothers, and demigods Romulus and Remus on 21 April 753 BCE. The legend claims that in an argument over who would rule the city (or, in another version, where the city would be located) Romulus killed Remus and named the city after himself. This story of the founding of Rome is the best known but it is not the only one.

Other legends claim the city was named after a woman, Roma who travelled with Aeneas and the other survivors from Troy after that city fell. Upon landing on the banks of the Tiber River, Roma and the other women objected when the men wanted to move on. She led the women in the burning of the Trojan ships and so effectively stranded the Trojan survivors at the site which would eventually become Rome. Aeneas of Troy is featured in this legend and also, famously, in Virgil's Aeneid, as a founder of Rome and the ancestor of Romulus and Remus, thus linking Rome with the grandeur and might which was once Troy.

Still other theories concerning the name of the famous city suggest it came from Rumon, the ancient name for the Tiber River, and was simply a name given to the small trading centre established on its banks or that the name was derived from an Etruscan word, which could have designated one of their settlements.

Originally a small town on the banks of the Tiber, Rome grew in size and strength, early on, through trade. The location of the city provided merchants with an easily navigable waterway on which to traffic their goods. The city was ruled by seven kings, from Romulus to Tarquin, as it grew in size and power. Greek culture and civilisation, which came to Rome via Greek colonies to the south, provided the early Romans with a model on which to build their own culture. From the Greeks they borrowed literacy and religion as well as the fundamentals of architecture.

The Etruscans, to the north, provided a model for trade and urban luxury. Etruria was also well situated for trade and the early Romans either learned the skills of trade from Etruscan example or were taught directly by the Etruscans who made incursions into the area around Rome sometime between 650 and 600 BCE (although their influence was felt much earlier). The extent of the role the Etruscan civilisation played in the development of Roman culture and society is debated but there seems little doubt they had a significant impact at an early stage.

SubQuestion No : 19

Q.19 Rome mainly grew and flourished because of:

Ans ☒ 1. Architecture

☒ 2. Trade

☒ 3. Culture

☒ 4. Religion

Question ID : 65497839579

Status : Answered

Chosen Option : 2

Comprehension:

Read the given passage and answer the questions that follow.

According to legend, ancient Rome was founded by the two brothers, and demigods Romulus and Remus on 21 April 753 BCE. The legend claims that in an argument over who would rule the city (or, in another version, where the city would be located) Romulus killed Remus and named the city after himself. This story of the founding of Rome is the best known but it is not the only one.

Other legends claim the city was named after a woman, Roma who travelled with Aeneas and the other survivors from Troy after that city fell. Upon landing on the banks of the Tiber River, Roma and the other women objected when the men wanted to move on. She led the women in the burning of the Trojan ships and so effectively stranded the Trojan survivors at the site which would eventually become Rome. Aeneas of Troy is featured in this legend and also, famously, in Virgil's Aeneid, as a founder of Rome and the ancestor of Romulus and Remus, thus linking Rome with the grandeur and might which was once Troy.

Still other theories concerning the name of the famous city suggest it came from Rumon, the ancient name for the Tiber River, and was simply a name given to the small trading centre established on its banks or that the name was derived from an Etruscan word, which could have designated one of their settlements.

Originally a small town on the banks of the Tiber, Rome grew in size and strength, early on, through trade. The location of the city provided merchants with an easily navigable waterway on which to traffic their goods. The city was ruled by seven kings, from Romulus to Tarquin, as it grew in size and power. Greek culture and civilisation, which came to Rome via Greek colonies to the south, provided the early Romans with a model on which to build their own culture. From the Greeks they borrowed literacy and religion as well as the fundamentals of architecture.

The Etruscans, to the north, provided a model for trade and urban luxury. Etruria was also well situated for trade and the early Romans either learned the skills of trade from Etruscan example or were taught directly by the Etruscans who made incursions into the area around Rome sometime between 650 and 600 BCE (although their influence was felt much earlier). The extent of the role the Etruscan civilisation played in the development of Roman culture and society is debated but there seems little doubt they had a significant impact at an early stage.

SubQuestion No : 20

Q.20 The passage is mainly about:

- Ans ☒ 1. The merging of Greek and Roman civilisations
- ☒ 2. The founding of Rome and early influences
- ☒ 3. River Tiber, the lifeline of Rome
- ☒ 4. The grandeur and fall of Troy

Question ID : 65497839581

Status : Answered

Chosen Option : 2

Comprehension:

In the following passage, some words have been deleted. Read the passage carefully and select the most appropriate option to fill in each blank.

Concerned and responsible Indian citizens can encourage sensible consumption (1)_____. This can be done by shopping less and wasting (2)_____ lesser; by buying local products to keep the cottage industries and (3)_____ crafts alive. In essence, by valuing their rich (4)_____ and living simple and meaningful lives, Indians can set (5)_____ and show the West that India is much more than a well of business opportunities.

SubQuestion No : 21

Q.21 Select the most appropriate option to fill in blank no.1.

- Ans ☒ 1. presence
- ☒ 2. decorum
- ☒ 3. behaviour
- ☒ 4. delivery

Question ID : 65497839673

Status : Answered

Chosen Option : 3

Comprehension:

In the following passage, some words have been deleted. Read the passage carefully and select the most appropriate option to fill in each blank.

Concerned and responsible Indian citizens can encourage sensible consumption (1)_____. This can be done by shopping less and wasting (2)_____ lesser; by buying local products to keep the cottage industries and (3)_____ crafts alive. In essence, by valuing their rich (4)_____ and living simple and meaningful lives, Indians can set (5)_____ and show the West that India is much more than a well of business opportunities.

SubQuestion No : 22

Q.22 Select the most appropriate option to fill in blank no.2.

- Ans ☒ 1. even
☒ 2. rather
☒ 3. further
☒ 4. quite

Question ID : 65497839674

Status : Answered

Chosen Option : 1

Comprehension:

In the following passage, some words have been deleted. Read the passage carefully and select the most appropriate option to fill in each blank.

Concerned and responsible Indian citizens can encourage sensible consumption (1)_____. This can be done by shopping less and wasting (2)_____ lesser; by buying local products to keep the cottage industries and (3)_____ crafts alive. In essence, by valuing their rich (4)_____ and living simple and meaningful lives, Indians can set (5)_____ and show the West that India is much more than a well of business opportunities.

SubQuestion No : 23

Q.23 Select the most appropriate option to fill in blank no.3.

- Ans ☒ 1. traditional
☒ 2. habitual
☒ 3. sanctioned
☒ 4. prescribed

Question ID : 65497839675

Status : Answered

Chosen Option : 1

Comprehension:

In the following passage, some words have been deleted. Read the passage carefully and select the most appropriate option to fill in each blank.

Concerned and responsible Indian citizens can encourage sensible consumption (1)_____. This can be done by shopping less and wasting (2)_____ lesser; by buying local products to keep the cottage industries and (3)_____ crafts alive. In essence, by valuing their rich (4)_____ and living simple and meaningful lives, Indians can set (5)_____ and show the West that India is much more than a well of business opportunities.

SubQuestion No : 24

Q.24 Select the most appropriate option to fill in blank no.4.

- Ans ☒ 1. settlement
☒ 2. heritage
☒ 3. birthright
☒ 4. estate

Question ID : 65497839676

Status : Answered

Chosen Option : 2

Comprehension:

In the following passage, some words have been deleted. Read the passage carefully and select the most appropriate option to fill in each blank.

Concerned and responsible Indian citizens can encourage sensible consumption (1)_____. This can be done by shopping less and wasting (2)_____ lesser; by buying local products to keep the cottage industries and (3)_____ crafts alive. In essence, by valuing their rich (4)_____ and living simple and meaningful lives, Indians can set (5)_____ and show the West that India is much more than a well of business opportunities.

SubQuestion No : 25

Q.25 Select the most appropriate option to fill in blank no.5.

- Ans ☒ 1. an instance
☒ 2. an incentive
☒ 3. a precedent
☒ 4. a citation

Question ID : 65497839677

Status : Answered

Chosen Option : 1

Section : Quantitative Aptitude

Q.1 एक समूह के कुछ लड़कों का औसत वजन 45 kg है। यदि समूह में 39 kg औसत वजन के 10 लड़के शामिल होते हैं या 49 kg औसत वजन के 10 लड़के समूह छोड़ कर चले जाते हैं, तो दोनों मामलों में लड़कों का औसत वजन बराबर हो जाता है। आरंभ में समूह में कितने लड़के थे?

- Ans ☒ 1. 60
☒ 2. 50
☒ 3. 40
☒ 4. 30

Question ID : 65497839483

Status : Marked For Review

Chosen Option : 2

Q.2
$$\frac{\tan^2(22^\circ - \theta) - \tan(\theta + 68^\circ) - \operatorname{cosec}^2(68^\circ + \theta) + \cot(22^\circ - \theta)}{3(\cot^2 52^\circ - \sec^2 38^\circ) + 2(\operatorname{cosec}^2 28^\circ - \tan^2 62^\circ)}$$
 का मान ज्ञात करें।

- Ans ☒ 1. 0
☒ 2. 1
☒ 3. -1
☒ 4. $\frac{1}{5}$

Question ID : 65497839501

Status : Not Answered

Chosen Option : --

Q.3 160 m, 300 m और 340 m लंबी भुजाओं वाले एक त्रिभुजाकार पार्क का क्षेत्रफल, एक वृत्ताकार पार्क के क्षेत्रफल का $4\frac{17}{22}$ है। वृत्ताकार पार्क की परिधि (m में) कितनी है (दशमलव के एक स्थान तक)? (दिया है, $\pi = \frac{22}{7}$)

- Ans
- ☒ 1. 240.2
 - ☒ 2. 251.4
 - ☒ 3. 248.8
 - ☒ 4. 253.2

Question ID : 65497839494

Status : Not Answered

Chosen Option : --

Q.4 $\triangle ABC$ में, $\angle B = 135^\circ$, $AB = 5\sqrt{2}$ cm और $BC = 7$ cm है। AC की लंबाई ज्ञात करें।

- Ans
- ☒ 1. $3\sqrt{11}$ cm
 - ☒ 2. 12 cm
 - ☒ 3. 13 cm
 - ☒ 4. $12\sqrt{2}$ cm

Question ID : 65497839499

Status : Not Answered

Chosen Option : --

Q.5 ₹7,410 की एक राशि A, B और C के बीच इस प्रकार वितरित की गई है कि A के हिस्से और B एवं C के संयुक्त हिस्से का अनुपात 9 : 17 है, तथा C के हिस्से और A एवं B के संयुक्त हिस्से का अनुपात 5 : 8 है। B और C के हिस्सों का अनुपात क्या है?

- Ans
- ☒ 1. 9 : 10
 - ☒ 2. 7 : 10
 - ☒ 3. 13 : 17
 - ☒ 4. 8 : 9

Question ID : 65497839490

Status : Answered

Chosen Option : 2

Q.6 दो वस्तुओं X और Y के क्रय मूल्य समान हैं। वस्तु X को 20% लाभ पर और वस्तु Y को X के विक्रय मूल्य से ₹126 कम में बेचा गया। यदि दोनों वस्तुओं को बेचने पर निवल लाभ 14% है, तो प्रत्येक वस्तु का क्रय मूल्य (₹ में) क्या है?

- Ans
- ☒ 1. 1,050
 - ☒ 2. 1,080
 - ☒ 3. 840
 - ☒ 4. 1,260

Question ID : 65497839590

Status : Not Answered

Chosen Option : --

Q.7 एक संस्थान में, 35% लड़के और शेष लड़कियाँ हैं। यदि परीक्षा में 30% लड़के अनुत्तीर्ण और 60% लड़कियाँ उत्तीर्ण होती हैं, तो परीक्षा में अनुत्तीर्ण होने वाले विद्यार्थियों की संख्या ज्ञात करें।

- Ans
- ✗ 1. 35.5%
 - ✓ 2. 36.5%
 - ✗ 3. 40%
 - ✗ 4. 35%

Question ID : 65497839486

Status : Not Attempted and Marked For Review

Chosen Option : --

Q.8 यदि $14\sin^2\theta + 3\sin\theta - 5 = 0$, $0^\circ < \theta < 90^\circ$ है, तो $\frac{\sec 2\theta + \cot 2\theta}{\operatorname{cosec} 2\theta + \tan 2\theta}$ का मान क्या होगा?

- Ans
- ✗ 1. $\frac{2\sqrt{3}+1}{3}$
 - ✓ 2. $\frac{1+2\sqrt{3}}{5}$
 - ✗ 3. $\frac{2(1+\sqrt{3})}{5}$
 - ✗ 4. $\frac{3\sqrt{3}-1}{3}$

Question ID : 65497839602

Status : Not Answered

Chosen Option : --

Q.9 एक वस्तु को उसके वास्तविक विक्रय मूल्य के $66\frac{2}{3}$ मूल्य पर बेचने पर 25% की हानि होती है। वस्तु को उसके वास्तविक विक्रय मूल्य पर बेचने पर लाभ प्रतिशत क्या होगा?

- Ans
- ✓ 1. 12.5%
 - ✗ 2. 15%
 - ✗ 3. 10%
 - ✗ 4. 10.5%

Question ID : 65497839487

Status : Answered

Chosen Option : 1

Q.10 दो ट्रेनों की लंबाई 380 m और 220 m है। एक ही दिशा में यात्रा करते समय इन दोनों ट्रेनों में से तेज चाल से चलने वाली एक ट्रेन, दूसरी ट्रेन को पार करने में 20 सेकंड का समय लेती है। विपरीत दिशाओं में यात्रा करते समय ट्रेनें एक दूसरे को पार करने में 12 सेकंड का समय लेती हैं। तेज ट्रेन की चाल (km/h में) क्या है?

- Ans
- ✗ 1. 126
 - ✗ 2. 108
 - ✓ 3. 144
 - ✗ 4. 90

Question ID : 65497839697

Status : Answered

Chosen Option : 4

Q.11 यदि 8 अंकों की संख्या $98x423y4$, 72 से विभाज्य है, तो y के अधिकतम मान के लिए $(5x + 3y - xy)$ का मान ज्ञात करें।

- Ans
- ✓ 1. 3
 - ✗ 2. 6
 - ✗ 3. 5
 - ✗ 4. 9

Question ID : 65497839481
Status : Answered
Chosen Option : 1

Q.12 6 अंकों की संख्या $439xy5$, 125 से विभाज्य है। 6 अंकों की ऐसी कितनी संख्याएँ संभव हैं?

- Ans
- ✗ 1. 5
 - ✓ 2. 4
 - ✗ 3. 3
 - ✗ 4. 2

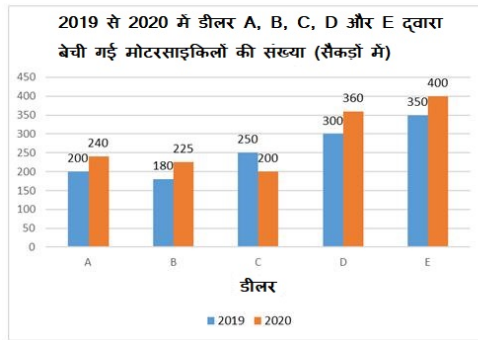
Question ID : 65497839582
Status : Not Answered
Chosen Option : --

Q.13 एक कमीज़ का क्रय मूल्य ₹1,008 है। इस पर कितना मूल्य अंकित किया जाना चाहिए जिससे अंकित मूल्य पर 16% की छूट देने के बाद 18% का लाभ अर्जित हो?

- Ans
- ✗ 1. ₹1,351
 - ✗ 2. ₹1,512
 - ✓ 3. ₹1,416
 - ✗ 4. ₹1,452

Question ID : 65497839688
Status : Not Attempted and Marked For Review
Chosen Option : --

Q.14 निम्नांकित ग्राफ का अध्ययन करें और उसके बाद दिए गए प्रश्न का उत्तर दें।



2020 में डीलर D द्वारा बेची गई मोटरसाइकिलों की संख्या, 2019 में डीलर C द्वारा बेची गई मोटरसाइकिलों की संख्या से कितने प्रतिशत अधिक है?

- Ans
- ✓ 1. 44%
 - ✗ 2. 33.3%
 - ✗ 3. 30.5%
 - ✗ 4. 48%

Question ID : 65497839502

Status : Answered

Chosen Option : 1

Q.15 यदि $a + \frac{1}{a+1} = 3$ है, तो $(a+1)^3 + \frac{1}{(a+1)^3}$ का मान क्या है?

- Ans
- ✗ 1. 2
 - ✓ 2. 52
 - ✗ 3. 8
 - ✗ 4. 62

Question ID : 65497839699

Status : Not Answered

Chosen Option : --

Q.16 यदि $2x - \frac{1}{x} = 3, x \neq 0$ है, तो $8x^6 - 25x^3 - 1$ का मान क्या होगा?

- Ans
- ✗ 1. $34x^3$
 - ✗ 2. $27x^3$
 - ✗ 3. $18x^3$
 - ✓ 4. $20x^3$

Question ID : 65497839751

Status : Not Answered

Chosen Option : --

Q.17 X और Y साथ मिलकर किसी कार्य को 20 दिन में पूरा कर सकते हैं, तथा Y और Z साथ मिलकर उसी कार्य को 24 दिन में पूरा कर सकते हैं। X द्वारा 10 दिन और Y द्वारा 18 दिन कार्य करने के बाद, शेष कार्य को अकेले Z, 13 दिन में पूरा करता है। X और Z मूल कार्य के 75% भाग को _____ में पूरा कर सकते हैं।

Ans

- ☒ 1. 9 दिन
☒ 2. 10 दिन
☒ 3. 12 दिन
☒ 4. 8 दिन

Question ID : 65497839492

Status : Not Answered

Chosen Option : --

Q.18 $\triangle ABC$ में, $\angle B$ का द्विभाजक D पर भुजा AC से मिलता है। यदि $AB = 16$ cm, $BC = 9.6$ cm और $AC = 22.4$ cm है, तो AD की लंबाई (cm में) क्या होगी?

Ans

- ☒ 1. 9.4
☒ 2. 15
☒ 3. 14
☒ 4. 8.4

Question ID : 65497839498

Status : Not Answered

Chosen Option : --

Q.19 ₹25,000 की राशि पर 10% वार्षिक व्याज दर से $3\frac{2}{5}$ वर्षों का चक्रवृद्धि व्याज (₹ में) क्या होगा? व्याज वार्षिक रूप से चक्रवृद्धि किया जाता है।

Ans

- ☒ 1. 8,275
☒ 2. 9,606
☒ 3. 8,425
☒ 4. 9,516

Question ID : 65497839593

Status : Not Answered

Chosen Option : --

Q.20 मिश्र धातुओं A और B में, तांबा और जस्ता क्रमशः 7 : 8 और 4 : 1 के अनुपात में हैं। 2 : 1 के अनुपात में तांबा और जस्ता युक्त एक नई मिश्र धातु C प्राप्त करने के लिए, A और B को किस अनुपात में मिलाया जाना चाहिए?

Ans

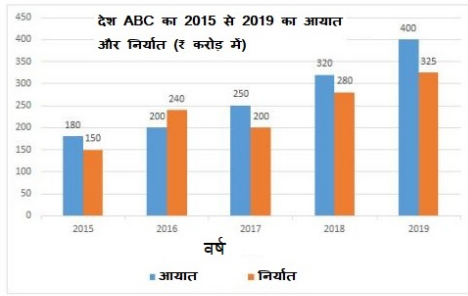
- ☒ 1. 5 : 6
☒ 2. 2 : 3
☒ 3. 3 : 4
☒ 4. 4 : 5

Question ID : 65497839693

Status : Not Answered

Chosen Option : --

Q.21 निम्नांकित ग्राफ का अध्ययन करें और उसके बाद दिए गए प्रश्न का उत्तर दें।



2020 में, यदि 2019 की तुलना में आयात में वृद्धि, 2019 में पिछले वर्ष की तुलना के समान प्रतिशत वृद्धि हुई, तो 2020 में आयात की राशि (₹ करोड़ में) क्या थी?

- Ans
- ☒ 1. 480
 - ☒ 2. 500
 - ☒ 3. 420
 - ☒ 4. 450

Question ID : 65497839606

Status : Answered

Chosen Option : 1

Q.22 X की आय, Y की आय से 42% अधिक है तथा Z की आय, X और Y की आय के योग से 45% कम है। Z की आय, X की आय से कितने प्रतिशत कम है (दशमलव के एक स्थान तक सही)?

- Ans
- ☒ 1. 5.6%
 - ☒ 2. 5.9%
 - ☒ 3. 6.3%
 - ☒ 4. 6.7%

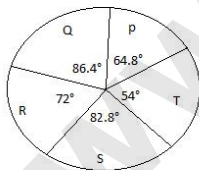
Question ID : 65497839689

Status : Not Answered

Chosen Option : --

Q.23 निम्नांकित पाई चार्ट का अध्ययन करें और उसके बाद दिए गए प्रश्न का उत्तर दें।

पाई चार्ट, 2020 में संस्थान P, Q, R, S और T से वार्षिक परीक्षा में उपस्थित होने वाले छात्रों के वितरण (डिग्री-वार) को दर्शाता है। उपस्थित छात्रों की कुल संख्या 3000 है।



संस्थान P से परीक्षा में उपस्थित होने वाले छात्रों की संख्या, संस्थान Q, R और S से उपस्थित होने वाले छात्रों की कुल संख्या का कितना प्रतिशत है (दशमलव के एक स्थान तक सही)?

- Ans
- ☒ 1. 26.4
 - ☒ 2. 27.2
 - ☒ 3. 25.8
 - ☒ 4. 26.9

Question ID : 65497839707

Status : Answered

Chosen Option : 3

Q.24 52 संख्याओं का औसत 48.5 है। पहली 22 संख्याओं का औसत 59.8 और अंतिम 32 संख्याओं का औसत 41.7 है। यदि 21वीं और 22वीं संख्याएँ निकाल दी जाएँ, तो शेष संख्याओं का औसत क्या होगा?

- Ans
- ☒ 1. 46.48
 - ☒ 2. 51
 - ☒ 3. 47.88
 - ☒ 4. 53

Question ID : 65497839482
Status : Not Answered
Chosen Option : --

Q.25 यदि $2x - \frac{1}{x} = 7$, $x \neq 0$ है, तो $\frac{8x^6 + 5x^3 - 1}{8x^6 - 25x^3 - 1}$ का मान क्या होगा?

- Ans
- ☒ 1. $\frac{39}{37}$
 - ☒ 2. $\frac{19}{18}$
 - ☒ 3. $-\frac{1}{5}$
 - ☒ 4. $\frac{13}{12}$

Question ID : 65497839497
Status : Not Answered
Chosen Option : --

Section : General awareness

Q.1 कोई भी भूमि जो _____ वर्षों से अधिक समय के लिए परती (बिना खेती किए) छोड़ दी जाती है, कृषि योग्य बंजर भूमि की श्रेणी में आती है।

- Ans
- ☒ 1. दस
 - ☒ 2. सात
 - ☒ 3. पाँच
 - ☒ 4. नौ

Question ID : 65497839516
Status : Not Answered
Chosen Option : --

Q.2 आइन-ए-अकबरी _____ पुस्तकों का संकलन है।

- Ans
- ☒ 1. सात
 - ☒ 2. आठ
 - ☒ 3. पाँच
 - ☒ 4. छः

Question ID : 65497839622
Status : Not Answered
Chosen Option : --

Q.3 संविधान के किस संशोधन अधिनियम (2017) में जी.एस.टी. (GST) व्यवस्था के लिए आवश्यक प्रावधान हैं?

- Ans
- ☒ 1. 100वें
 - ☒ 2. 102वें
 - ☒ 3. 103वें
 - ☒ 4. 101वें

Question ID : 65497839527

Status : Not Attempted and Marked For Review

Chosen Option : --

Q.4 कलकत्ता, बॉम्बे और मद्रास विश्वविद्यालयों की स्थापना _____ में की गई थी।

- Ans
- ☒ 1. 1859
 - ☒ 2. 1863
 - ☒ 3. 1861
 - ☒ 4. 1857

Question ID : 65497839521

Status : Not Answered

Chosen Option : --

Q.5 अरुणिमा सिन्हा माउंट एवरेस्ट पर चढ़ाई करने वाली पहली _____ महिला थीं।

- Ans
- ☒ 1. हीमोफिलिक महिला (female haemophilic)
 - ☒ 2. श्रवण बाधित महिला (hearing impaired female)
 - ☒ 3. दिव्यांग महिला (female amputee)
 - ☒ 4. दृष्टि बाधित महिला (visually impaired female)

Question ID : 65497839626

Status : Not Attempted and Marked For Review

Chosen Option : --

Q.6 गौमुख कुंड निम्नलिखित में से किस किले में स्थित एक जलाशय है?

- Ans
- ☒ 1. ग्वालियर
 - ☒ 2. कुंभलगढ़
 - ☒ 3. दतिया
 - ☒ 4. चित्तौड़गढ़

Question ID : 65497839507

Status : Not Answered

Chosen Option : --

Q.7 2011 की जनगणना के अनुसार, निम्नलिखित में से तीसरा सर्वाधिक जनसंख्या वाला शहरी संकुलन (urban agglomeration) कौन सा है?

- Ans
- ☒ 1. कोलकाता
 - ☒ 2. मुंबई
 - ☒ 3. दिल्ली
 - ☒ 4. चेन्नई

Question ID : 65497839619

Status : Not Answered

Chosen Option : --

Q.8 भारतीय संविधान के _____ में मौलिक कर्तव्य सम्मिलित हैं।

- Ans ☒ 1. भाग VI A
☒ 2. भाग IV A
☒ 3. भाग III
☒ 4. भाग V

Question ID : 65497839732
 Status : Answered
 Chosen Option : 2

Q.9 मई 2021 में, भारतीय नौसेना ने _____ नौसैनिक जलपोतों की तैनाती करके ऑपरेशन समुद्र सेतु-II आरंभ किया।

- Ans ☒ 1. 6
☒ 2. 10
☒ 3. 9
☒ 4. 7

Question ID : 65497839714
 Status : Not Answered
 Chosen Option : --

Q.10 भारत और इंग्लैंड की पुरुष क्रिकेट टीम के बीच T20I श्रृंखला (मार्च 2021) का परिणाम क्या रहा?

- Ans ☒ 1. इंग्लैंड 4-1 से विजयी रहा
☒ 2. भारत 4-1 से विजयी रहा
☒ 3. इंग्लैंड 3-2 से विजयी रहा
☒ 4. भारत 3-2 से विजयी रहा

Question ID : 65497839631
 Status : Not Attempted and Marked For Review
 Chosen Option : --

Q.11 बिहारी पुरस्कार 1991 में _____ द्वारा स्थापित तीन साहित्यिक पुरस्कारों में से एक है।

- Ans ☒ 1. विप्रो फ़ाउंडेशन
☒ 2. के.के. बिड़ला फ़ाउंडेशन
☒ 3. इन्फोसिस फ़ाउंडेशन
☒ 4. पिरोजशा गोदरेज फ़ाउंडेशन

Question ID : 65497839525
 Status : Not Answered
 Chosen Option : --

Q.12 सुकन्या समृद्धि खाता योजना के संदर्भ में, निम्नलिखित में से कौन सा कथन गलत है?

- Ans ☒ 1. इस योजना का आरंभ 'बेटी बचाओ बेटी पढ़ाओ' अभियान के एक भाग के रूप में किया गया था।
☒ 2. योजना के अंतर्गत खाता न्यूनतम ₹100 से खोला जा सकता है।
☒ 3. खाता किसी भी डाकघर या वाणिज्यिक बैंकों की अधिकृत शाखाओं में खोला जा सकता है।
☒ 4. योजना जनवरी 2015 में आरंभ की गई थी।

Question ID : 65497839611
 Status : Not Attempted and Marked For Review
 Chosen Option : --

Q.13 'अ पैसेज टू इंडिया' नामक उपन्यास के लेखक कौन हैं?

- Ans ☒ 1. ई.एम. फ़ॉर्स्टर
☒ 2. ए.पी.जे. अब्दुल कलाम
☒ 3. चेतन भगत
☒ 4. अमिताभ घोष

Question ID : 65497839727

Status : Not Answered

Chosen Option : --

Q.14 निम्नलिखित में से कौन-सा जीवाणु द्वारा होने वाला रोग नहीं है?

- Ans ☒ 1. प्लेग
☒ 2. अतिसार
☒ 3. डिप्थीरिया
☒ 4. मलेरिया

Question ID : 65497839514

Status : Not Answered

Chosen Option : --

Q.15 26 नवंबर को औपचारिक रूप से _____ को संविधान दिवस के रूप में घोषित किया गया था।

- Ans ☒ 1. 19 नवंबर 1949
☒ 2. 19 नवंबर 2015
☒ 3. 31 अक्टूबर 2015
☒ 4. 26 नवंबर 1949

Question ID : 65497839526

Status : Answered

Chosen Option : 4

Q.16 प्रधान मंत्री युवा उद्यमिता विकास अभियान योजना (PM-YUVA) किस मंत्रालय की पहल है?

- Ans ☒ 1. कौशल विकास और उद्यमिता
☒ 2. कॉर्पोरेट मामलों
☒ 3. विज्ञान और तकनीक
☒ 4. वाणिज्य और उद्योग

Question ID : 65497839508

Status : Not Attempted and Marked For Review

Chosen Option : --

Q.17 भानु _____ सूर्य भगवान की पूजा के लिए समर्पित एक उत्सव है।

- Ans ☒ 1. एकादशी
☒ 2. सप्तमी
☒ 3. नवमी
☒ 4. अष्टमी

Question ID : 65497839506

Status : Not Answered

Chosen Option : --

Q.18 भारतीय केंद्रीय प्रदूषण नियंत्रण बोर्ड के अनुसार, _____ माइक्रोमीटर के व्यास के कणिकीय आकार मानव स्वास्थ्य को सर्वाधिक हानि पहुँचाने के लिए उत्तरदायी हैं।

- Ans
- ☒ 1. 2.5 से 3.5 के बीच में
 - ☒ 2. 4.5 से 5.5 के बीच में
 - ☒ 3. 3.5 से 4.5 के बीच में
 - ☒ 4. 2.5 के बराबर या उससे कम

Question ID : 65497839615

Status : Not Answered

Chosen Option : --

Q.19 For which of the following media is the absolute refractive index almost equal to one?

- Ans
- ☒ 1. Water
 - ☒ 2. Kerosene
 - ☒ 3. Air
 - ☒ 4. Ice

Question ID : 65497839715

Status : Answered

Chosen Option : 3

Q.20 _____ जम्मू और कश्मीर का एक प्रसिद्ध नृत्य रूप है।

- Ans
- ☒ 1. करमा (Karma)
 - ☒ 2. डमहल (Dumhal)
 - ☒ 3. डेमसा (Dhensa)
 - ☒ 4. बिदेसिया (Bidesia)

Question ID : 65497839607

Status : Answered

Chosen Option : 2

Q.21 सितंबर 1920 में भारतीय राष्ट्रीय कांग्रेस का अधिवेशन निम्नलिखित में से किस स्थान पर आयोजित हुआ था?

- Ans
- ☒ 1. पूना
 - ☒ 2. बॉम्बे
 - ☒ 3. कलकत्ता
 - ☒ 4. नागपुर

Question ID : 65497839726

Status : Not Answered

Chosen Option : --

Q.22 सिकंदर महान (Alexander the Great) ने _____ की लड़ाई में पोरस को हराया था।

- Ans
- ☒ 1. पठानकोट
 - ☒ 2. झेलम
 - ☒ 3. आरकान
 - ☒ 4. पेशावर

Question ID : 65497839519

Status : Not Answered

Chosen Option : --

Q.23 निम्नलिखित में से कौन सा राज्य म्यांमार के साथ अपनी सीमा साझा नहीं करता है?

- Ans
- ☒ 1. मणिपुर
 - ☒ 2. मिज़ोरम
 - ☒ 3. असम
 - ☒ 4. अरुणाचल प्रदेश

Question ID : 65497839722

Status : Answered

Chosen Option : 4

Q.24 किस नदी को 'बिहार का अभिशाप (Sorrow of Bihar)' कहा जाता है?

- Ans
- ☒ 1. सोन
 - ☒ 2. दामोदर
 - ☒ 3. कोसी
 - ☒ 4. पुनपुन

Question ID : 65497839515

Status : Answered

Chosen Option : 3

Q.25 Which of the following does NOT figure among the Five Kingdom Classification proposed by RH Whittaker (1969)?

- Ans
- ☒ 1. Euglena
 - ☒ 2. Monera
 - ☒ 3. Plantae
 - ☒ 4. Protista

Question ID : 65497839512

Status : Not Answered

Chosen Option : --

Selection Post Phase IX 2021 Graduate level

Roll Number	examstocks.com
Candidate Name	examstocks.com
Venue Name	ION DIGITAL ZONE IDZ TUPUDANA
Exam Date	10/02/2022
Exam Time	3:00 PM - 4:00 PM
Subject	Selection Post Graduate Level

Section : General Intelligence

Q.1 किसी कूट भाषा में, MUSICAL को NATODEM और CREATE को DSIEUI के रूप में लिखा जाता है। उसी भाषा में STEROID को किस प्रकार से लिखा जाएगा?

- Ans ☒ 1. TRISAOE
☒ 2. TUFNOE
☒ 3. TUISUOE
☒ 4. TUIQIOE

Question ID : 65497839640

Status : Answered

Chosen Option : 3

Q.2 दिए गए कथनों और निष्कर्षों को ध्यानपूर्वक पढ़ें। यह मानते हुए कि कथनों में दी गई सूचना सही है, भले ही वह सामान्य रूप से ज्ञात तथ्यों से भिन्न प्रतीत होती हो, यह निर्धारित करें कि दिए गए निष्कर्षों में से कौन-सा/से निष्कर्ष कथनों का तार्किक रूप से अनुसरण करता है/करते हैं।

कथन:

कुछ शहर स्मारक हैं।
 सभी स्मारक सभ्यताएं हैं।
 सभी गलियां शहर हैं।

निष्कर्ष:

- I. कोई शहर सभ्यता नहीं है।
 II. कुछ शहर सभ्यता हैं।
 III. कुछ स्मारक शहर हैं।

- Ans ☒ 1. केवल निष्कर्ष I और III अनुसरण करते हैं।
☒ 2. केवल निष्कर्ष I और II अनुसरण करते हैं।
☒ 3. सभी निष्कर्ष अनुसरण करते हैं।
☒ 4. केवल निष्कर्ष II और III अनुसरण करते हैं।

Question ID : 65497839648

Status : Answered

Chosen Option : 4

Q.3 वह विकल्प चुनें जो तीसरे पद से उसी प्रकार संबंधित है जिस प्रकार दूसरा पद, पहले पद से संबंधित है।

LUNCH : KFQXO :: SUPPER : ?

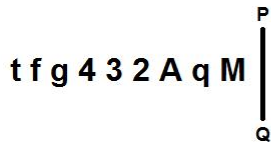
- Ans ☒ 1. RHSSXW
☒ 2. UISSYV
☒ 3. UHSSXV
☒ 4. UHRRXV

Question ID : 65497839738

Status : Answered

Chosen Option : 3

Q.4 यदि दर्पण को निम्न आकृति के अनुसार रेखा PQ पर रखा जाता है, तो दी गई आकृति का दर्पण में निर्मित सही प्रतिबिंब चयन करें।



Ans

- ✗ 1. M p A S E 4 p f f
- ✗ 2. W p A S E 4 p f f
- ✓ 3. M p A S E 4 p f f
- ✗ 4. M p A Z E 4 p f f

Question ID : 65497839656

Status : Answered

Chosen Option : 3

Q.5 उस विकल्प का चयन करें जो तीसरी संख्या से ठीक उसी प्रकार संबंधित है जैसे दूसरी संख्या, पहली संख्या से संबंधित है और छठी संख्या, पांचवीं संख्या से संबंधित है।

124 : 5 :: 342 : ? :: 7 : 2

Ans

- ✗ 1. 4
- ✗ 2. 8
- ✗ 3. 6
- ✓ 4. 7

Question ID : 65497839549

Status : Answered

Chosen Option : 4

Q.6 किसी कूट भाषा में, SIXER को 75 के रूप में लिखा जाता है। उसी भाषा में COLOUR को किस प्रकार से लिखा जाएगा?

Ans

- ✗ 1. 80
- ✗ 2. 89
- ✗ 3. 74
- ✓ 4. 84

Question ID : 65497839641

Status : Answered

Chosen Option : 4

Q.7 यदि 'A @ B' का अर्थ है कि 'A, B की माँ है' और 'A % B' का अर्थ है कि 'A, B का भाई है', तो दिए गए व्यंजक के लिए निम्नलिखित में से कौन सा कथन सही है?

G @ P % U % V @ R

Ans

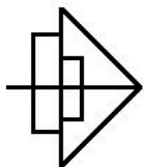
- ✓ 1. G, V की माँ है।
- ✗ 2. U, R का पिता है।
- ✗ 3. U, R की बहन है।
- ✗ 4. R, G की पुत्री है।

Question ID : 65497839743

Status : Answered

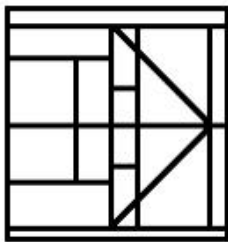
Chosen Option : 1

Q.8 वह विकल्प चुनें जिसमें दी गई आकृति समाविष्ट है (घुमाने की अनुमति नहीं है)।

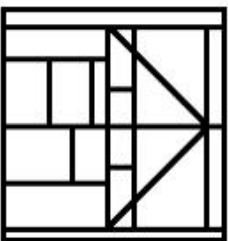


Ans

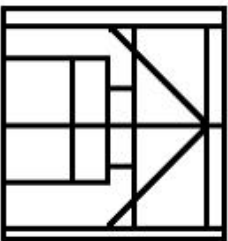
✓ 1.



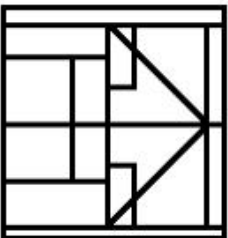
✗ 2.



✗ 3.



✗ 4.



Question ID : 65497839451

Status : Answered

Chosen Option : 1

Q.9 उस सही विकल्प का चयन करें जो दिए गए शब्दों का वह व्यवस्थित क्रम दर्शाता है जिसमें वे एक अंग्रेजी शब्दकोश में दिखाई देते हैं।

1. Cautious
2. Cauliflower
3. Caught
4. Calculate
5. Calcify
6. Callous
7. Cauldron

Ans ✗ 1. 5, 4, 6, 7, 3, 2, 1

✗ 2. 5, 4, 6, 3, 2, 7, 1

✓ 3. 5, 4, 6, 3, 7, 2, 1

✗ 4. 5, 6, 4, 3, 7, 2, 1

Question ID : 65497839533

Status : Answered

Chosen Option : 1

Q.10 'A @ B' का अर्थ है कि 'A, B का पुत्र है'।
 'A & B' का अर्थ है कि 'A, B का भाई है'।
 'A # B' का अर्थ है कि 'A, B की पत्नी है'।
 'A ^ B' का अर्थ है कि 'A, B का पति है'।
 'A + B' का अर्थ है कि 'A, B का पिता है'।

यदि Y + M & T # J @ H # R @ P ^ Q है, तो निम्नलिखित में से कौन-सा कथन सही है?

- Ans ☒ 1. Q, H की माता है।
☒ 2. R, T का पिता है।
☒ 3. P, J के नानाजी है।
☒ 4. Y, J का ससुर है।

Question ID : 65497839647

Status : Answered

Chosen Option : 4

Q.11 किसी कूट भाषा में, PRIEST को AVJMOK और FULL को XYQQ के रूप में लिखा जाता है। उसी भाषा में FLIRT को किस प्रकार से लिखा जाएगा?

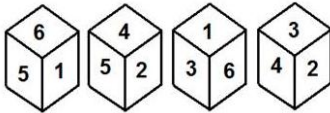
- Ans ☒ 1. RQJVK
☒ 2. XQJYK
☒ 3. XSJVK
☒ 4. XQJVK

Question ID : 65497839638

Status : Answered

Chosen Option : 4

Q.12 एक ही पासे की चार अलग-अलग स्थिति दर्शाई गई हैं, जिसकी छह फलकों पर क्रमशः 1 से 6 तक अंक अंकित किए गए हैं। उस अंक का चयन करें जो '1' अंकित फलक के विपरीत फलक पर होगा।



- Ans ☒ 1. 2
☒ 2. 6
☒ 3. 3
☒ 4. 5

Question ID : 65497839552

Status : Answered

Chosen Option : 1

Q.13 उस विकल्प का चयन करें जो तीसरे शब्द से ठीक उसी प्रकार से संबंधित है जैसे दूसरा शब्द पहले शब्द से संबंधित है।

जराविद्या (Gerontology) : वृद्धावस्था (Old age) :: औतिकी (Histology) : ?

- Ans ☒ 1. भावनाएँ (Emotions)
☒ 2. इतिहास (History)
☒ 3. खाद्य पदार्थ (Food)
☒ 4. ऊतक (Tissues)

Question ID : 65497839535

Status : Answered

Chosen Option : 4

Q.14 अक्षरों के उस संयोजन का चयन कीजिए, जिसे दी गई श्रृंखला के रिक्त स्थानों में क्रमबद्ध रूप से रखने पर श्रृंखला पूर्ण हो जाएगी।

H _ D _ Y _ O _ C _ _ O D _ Y

- Ans
- ☒ 1. OCHDYCH
 - ☒ 2. OCDHYHC
 - ☒ 3. OCHDYHC
 - ☒ 4. OCHYDHC

Question ID : 65497839644

Status : Answered

Chosen Option : 3

Q.15 किसी कूट भाषा में, TORCH को XOVL और LEMON को PEQR के रूप में लिखा जाता है। उसी भाषा में MANDATE को किस प्रकार से लिखा जाएगा?

- Ans
- ☒ 1. QARHAXE
 - ☒ 2. QARHEXI
 - ☒ 3. QERIAXE
 - ☒ 4. RERHAYE

Question ID : 65497839537

Status : Answered

Chosen Option : 1

Q.16 दिए गए विकल्पों में से उस संख्या का चयन कीजिए, जो निम्नलिखित श्रेणी में प्रश्न चिह्न (?) के स्थान पर आ सकती है।

26, 28, ?, 176, 706, 3532

- Ans
- ☒ 1. 120
 - ☒ 2. 52
 - ☒ 3. 125
 - ☒ 4. 58

Question ID : 65497839446

Status : Answered

Chosen Option : 4

Q.17 वह विकल्प चुनें जो तीसरे पद से उसी प्रकार संबंधित है जिस प्रकार दूसरा पद, पहले पद से संबंधित है।

TORPEDO : SPQOFCP :: FACTUAL : ?

- Ans
- ☒ 1. EBBSVZM
 - ☒ 2. EBDSTBK
 - ☒ 3. EZDSXBK
 - ☒ 4. EBDVBM

Question ID : 65497839429

Status : Answered

Chosen Option : 1

Q.18 अक्षरों के उस संयोजन का चयन कीजिए, जिसे दी गई श्रृंखला के रिक्त स्थानों में क्रमबद्ध रूप से रखने पर श्रृंखला पूर्ण हो जाएगी।

kr_tg_p_rtt_m_k_t_g_p

Ans ☒ 1. tmkgprtm

☒ 2. tmkgrrtm

☒ 3. tmgkprtm

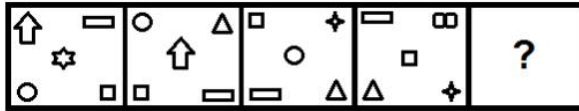
☒ 4. tkmgprtm

Question ID : 65497839645

Status : Answered

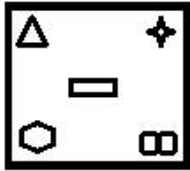
Chosen Option : 1

Q.19 उस आकृति का चयन करें जो निम्नलिखित श्रृंखला में प्रश्न चिह्न (?) के स्थान पर आ सकती है।

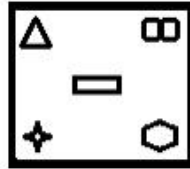


Ans

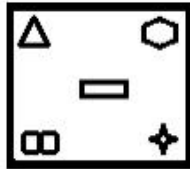
☒ 1.



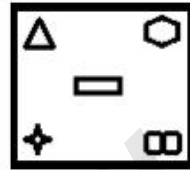
☒ 2.



☒ 3.



☒ 4.



Question ID : 65497839653

Status : Answered

Chosen Option : 4

Q.20 वह विकल्प चुनें जो तीसरे शब्द से उसी प्रकार संबंधित है जिस प्रकार से दूसरा शब्द, पहले शब्द से संबंधित है।

ऑस्टियोलोजी : हड्डियां :: मायोलोजी : ?

Ans ☒ 1. कपाल

☒ 2. पेशियां

☒ 3. कवक

☒ 4. मृदा

Question ID : 65497839432

Status : Answered

Chosen Option : 3

Q.21 यदि संख्या 20 और 28 को आपस में बदल दिया जाए, तो निम्नलिखित में से कौन सा समीकरण सही ढंग से संतुलित किया जा सकता है?

Ans ☒ 1. $20 + 40 \times 28 \div 4 - 14 = 214$

☒ 2. $45 \div 15 + 20 - 28 \times 3 = 39$

☒ 3. $24 \times 3 + 28 - 20 \div 7 = 78$

☒ 4. $36 \div 4 \times 3 + 28 - 20 = 24$

Question ID : 65497839652

Status : Answered

Chosen Option : 1

Q.22 दिए गए कथनों और निष्कर्षों को ध्यानपूर्वक पढ़ें। यह मानते हुए कि कथनों में दी गई सूचना सही है, भले ही वह सामान्य रूप से ज्ञात तथ्यों से भिन्न प्रतीत होती हो, यह निर्धारित करें कि दिए गए निष्कर्षों में से कौन-सा/से निष्कर्ष कथनों का तार्किक रूप से अनुसरण करता है/करते हैं।

कथन:

कोई तीर्थयात्री मुसाफिर नहीं है।

कोई मुसाफिर थका नहीं है।

सभी श्रमिक तीर्थयात्री हैं।

निष्कर्ष:

I. कुछ तीर्थयात्री श्रमिक हैं।

II. कोई श्रमिक थका नहीं है।

III. कोई श्रमिक मुसाफिर नहीं है।

IV. कोई थका तीर्थयात्री नहीं है।

Ans ☒ 1. केवल निष्कर्ष I और III अनुसरण करते हैं।

☒ 2. या तो निष्कर्ष I या निष्कर्ष III अनुसरण करता है।

☒ 3. या तो निष्कर्ष I या निष्कर्ष II अनुसरण करता है।

☒ 4. केवल निष्कर्ष II और IV अनुसरण करते हैं।

Question ID : 65497839649

Status : Answered

Chosen Option : 1

Q.23 उस विकल्प का चयन कीजिए, जो दिए गए शब्दों के व्यवस्थापन को तार्किक और सार्थक क्रम में दर्शाता है।

1. यूरोप

2. जर्मनी

3. फ्रैंकफर्ट

4. ब्रह्मांड

5. विश्व

Ans ☒ 1. 3, 1, 2, 5, 4

☒ 2. 3, 2, 1, 5, 4

☒ 3. 3, 2, 1, 4, 5

☒ 4. 2, 3, 1, 5, 4

Question ID : 65497839430

Status : Answered

Chosen Option : 2

Q.24 एक निश्चित कूट भाषा में, 'GASTRIC' को 7119201833 के रूप में कूटबद्ध किया जाता है और 'FREEDOM' को 618224413 के रूप में कूटबद्ध किया जाता है। उसी भाषा में 'BOARDING' को कैसे कूटबद्ध किया जाएगा?

- Ans ☒ 1. 2411843147
☒ 2. 2611943147
☒ 3. 2411849137
☒ 4. 2411744147

Question ID : 65497839439
 Status : Answered
 Chosen Option : 1

Q.25 किसी कूट भाषा में, MOSAIC को 47-68 और USEFUL को 45-42 के रूप में लिखा जाता है। उसी भाषा में FLYING को किस प्रकार से लिखा जाएगा?

- Ans ☒ 1. 39-46
☒ 2. 43-53
☒ 3. 30-44
☒ 4. 43-51

Question ID : 65497839642
 Status : Answered
 Chosen Option : 4

Section : English Language

Q.1 Select the most suitable ANTONYM of the given word.

Redundant

- Ans ☒ 1. Superfluous
☒ 2. Bombastic
☒ 3. Essential
☒ 4. Excessive

Question ID : 65497839566
 Status : Answered
 Chosen Option : 3

Q.2 Select the most appropriate option to fill in the blank.

_____ he fulfills all the conditions, he should not be given the contract.

- Ans ☒ 1. Unless
☒ 2. Since
☒ 3. Lest
☒ 4. Whether

Question ID : 65497839563
 Status : Answered
 Chosen Option : 1

Q.3 Select the INCORRECTLY spelt word.

- Ans ☒ 1. Tolerent
☒ 2. Catalogue
☒ 3. Hygiene
☒ 4. Schedule

Question ID : 65497839671
Status : Answered
Chosen Option : 1

Q.4 The following sentence has been split into four segments. Identify the segment that contains a grammatical error.

The Home Minister / alluded by the threat / of cross-border terrorism / in his speech.

- Ans ☒ 1. of cross-border terrorism
☒ 2. alluded by the threat
☒ 3. The Home Minister
☒ 4. in his speech

Question ID : 65497839453
Status : Answered
Chosen Option : 2

Q.5 Select the option that expresses the given sentence in active voice.

An anthology of poems on childhood is being written by her.

- Ans ☒ 1. She is writing an anthology of poems on childhood.
☒ 2. She will be writing an anthology of poems on childhood.
☒ 3. She has written an anthology of poems on childhood.
☒ 4. She has been writing an anthology of poems on childhood.

Question ID : 65497839659
Status : Answered
Chosen Option : 1

Q.6 Select the option that expresses the given sentence in passive voice.

Who taught you to play the guitar?

- Ans ☒ 1. By whom were you taught to play the guitar by?
☒ 2. By whom were you taught to play the guitar?
☒ 3. By whom you were taught to play the guitar?
☒ 4. By whom have you been taught to play the guitar?

Question ID : 65497839658
Status : Answered
Chosen Option : 2

Q.7 Select the option that will improve the underlined part of the given sentence. In case no improvement is needed, select 'No improvement required'.

I couldn't understand why he was so angry upon me.

- Ans ☒ 1. so angry with me
☒ 2. so angry upon myself
☒ 3. No improvement required
☒ 4. too angry on me

Question ID : 65497839662
 Status : Answered
 Chosen Option : 1

Q.8 Select the option that expresses the given sentence in indirect speech.

She said to me, "The lady you met at the bakery is my sister-in-law."

- Ans ☒ 1. She told me that the lady I met at the bakery is her sister-in-law.
☒ 2. She told me that the lady I had met at the bakery was her sister-in-law.
☒ 3. She told me that the lady you had met at the bakery was my sister-in-law.
☒ 4. She told me that the lady she met at the bakery was your sister-in-law.

Question ID : 65497839559
 Status : Answered
 Chosen Option : 2

Q.9 Select the option that will improve the underlined part of the given sentence. In case no improvement is needed, select 'No improvement required'.

As long as he completes his work on time, I have no cause for worry.

- Ans ☒ 1. As soon as he
☒ 2. No improvement required
☒ 3. No sooner than he
☒ 4. Such that he

Question ID : 65497839663
 Status : Answered
 Chosen Option : 1

Q.10 Select the option that can be used as a one-word substitute for the given group of words.

The state of being unmarried by choice

- Ans ☒ 1. Isolation
☒ 2. Polygamy
☒ 3. Monogamy
☒ 4. Celibacy

Question ID : 65497839568
 Status : Answered
 Chosen Option : 4

Q.11 Select the most appropriate option to fill in the blank.

_____ of the two contestants was willing to withdraw from the tournament.

- Ans ☒ 1. Neither
☒ 2. Nobody
☒ 3. None
☒ 4. No one

Question ID : 65497839664
 Status : Answered
 Chosen Option : 1

Q.12 Sentences of a paragraph are given below in jumbled order. Arrange the sentences in the correct order to form a meaningful and coherent paragraph.

- A. His hands were around the throat of a woman who faced him.
 B. As Nancy stared terrified, the woman's body went limp and crumpled in the man's hands.
 C. He was slowly and remorselessly strangling her.
 D. Standing with his back to the window and to Nancy, stood a tall man.

- Ans ☒ 1. BCAD
☒ 2. DACB
☒ 3. DCBA
☒ 4. BDCA

Question ID : 65497839462
 Status : Answered
 Chosen Option : 3

Q.13 Select the most appropriate synonym of the given word.

Envisage

- Ans ☒ 1. Imagine
☒ 2. Deceive
☒ 3. Describe
☒ 4. Ridicule

Question ID : 65497839463
 Status : Answered
 Chosen Option : 1

Q.14 Select the option that expresses the given sentence in indirect speech.

The doctor said, "The patient is out of danger now."

- Ans ☒ 1. The doctor said that the patient is out of danger now.
☒ 2. The doctor said that the patient is out of danger then.
☒ 3. The doctor said that the patient was out of danger now.
☒ 4. The doctor said that the patient was out of danger then.

Question ID : 65497839456
 Status : Answered
 Chosen Option : 4

Q.15 Select the most appropriate meaning of the given idiom.

A wet blanket

- Ans
- ☒ 1. A person who is enthusiastic
 - ☒ 2. An unpleasant experience
 - ☒ 3. An unwelcome guest
 - ☒ 4. A person who spoils other people's fun

Question ID : 65497839669

Status : Answered

Chosen Option : 4

Comprehension:

In the following passage, some words have been deleted. Read the passage carefully and select the most appropriate option to fill in each blank.

While the older generation of Indians would buy a new product only when the (1)_____ one's useful life had ended, the young generation (2)_____ to fall for novelty. Young people want the (3)_____ gadgets because they have money and more (4)_____ to such goods. They are made to believe, by (5)_____ publicity, that the new products will enhance their happiness.

SubQuestion No : 16

Q.16 Select the most appropriate option to fill in blank no. 1.

- Ans
- ☒ 1. previous
 - ☒ 2. ancient
 - ☒ 3. elder
 - ☒ 4. olden

Question ID : 65497839469

Status : Answered

Chosen Option : 1

Comprehension:

In the following passage, some words have been deleted. Read the passage carefully and select the most appropriate option to fill in each blank.

While the older generation of Indians would buy a new product only when the (1)_____ one's useful life had ended, the young generation (2)_____ to fall for novelty. Young people want the (3)_____ gadgets because they have money and more (4)_____ to such goods. They are made to believe, by (5)_____ publicity, that the new products will enhance their happiness.

SubQuestion No : 17

Q.17 Select the most appropriate option to fill in blank no. 2.

- Ans
- ☒ 1. bears
 - ☒ 2. feeds
 - ☒ 3. keeps
 - ☒ 4. tends

Question ID : 65497839470

Status : Answered

Chosen Option : 4

Comprehension:

In the following passage, some words have been deleted. Read the passage carefully and select the most appropriate option to fill in each blank.

While the older generation of Indians would buy a new product only when the (1)_____ one's useful life had ended, the young generation (2)_____ to fall for novelty. Young people want the (3)_____ gadgets because they have money and more (4)_____ to such goods. They are made to believe, by (5)_____ publicity, that the new products will enhance their happiness.

SubQuestion No : 18

Q.18 Select the most appropriate option to fill in blank no. 3.

- Ans ☒ 1. latter
☒ 2. last
☒ 3. later
☒ 4. latest

Question ID : 65497839471

Status : Answered

Chosen Option : 4

Comprehension:

In the following passage, some words have been deleted. Read the passage carefully and select the most appropriate option to fill in each blank.

While the older generation of Indians would buy a new product only when the (1)_____ one's useful life had ended, the young generation (2)_____ to fall for novelty. Young people want the (3)_____ gadgets because they have money and more (4)_____ to such goods. They are made to believe, by (5)_____ publicity, that the new products will enhance their happiness.

SubQuestion No : 19

Q.19 Select the most appropriate option to fill in blank no. 4.

- Ans ☒ 1. approach
☒ 2. contact
☒ 3. access
☒ 4. entry

Question ID : 65497839472

Status : Answered

Chosen Option : 3

Comprehension:

In the following passage, some words have been deleted. Read the passage carefully and select the most appropriate option to fill in each blank.

While the older generation of Indians would buy a new product only when the (1)_____ one's useful life had ended, the young generation (2)_____ to fall for novelty. Young people want the (3)_____ gadgets because they have money and more (4)_____ to such goods. They are made to believe, by (5)_____ publicity, that the new products will enhance their happiness.

SubQuestion No : 20

Q.20 Select the most appropriate option to fill in blank no. 5.

- Ans ☒ 1. regressive
☒ 2. squandered
☒ 3. ubiquitous
☒ 4. celestial

Question ID : 65497839473

Status : Answered

Chosen Option : 3

Comprehension:

Read the given passage and answer the questions that follow.

What can you call a hobby which teaches so much—in addition to providing fun and pleasure? Stamp collecting helps instruct the collector in geography, biography, history, culture and art. Stamps are miniature gateways to the world. Stamp collecting has very few rules. You don't have to buy expensive sneakers or rackets to enjoy it. However, there are a few simple things to remember when collecting stamps. First of all, one of the essential rules to remember is that the condition of a stamp is a highly important consideration. Badly torn and mis-handled stamps are not only unpleasant to the eye, but they are worth next to nothing when compared to their undamaged counterparts. Stamps are rated in condition from poor to superb. A stamp which can be called 'superb' is one of the finest qualities. That means it has perfect centring, brilliant colour and perfect gum. A used stamp can also be called superb, if it is perfectly centred, fresh looking, is lightly cancelled and undamaged. A designation of fine means a stamp without flaws, average centring and gum with light hinge marks. Used stamps designated 'fine' are not quite as fresh and cancels are heavier. 'Good' stamps are those which are off-centre, but fairly attractive. There may be minor defects such as disturbed gum, thin areas and heavy hinge marks. Stamps which fall below these standards should be ignored and are not worth acquiring by the serious collector. Because their condition is so important -- and stamps are only bits of paper after all -- when handling them it is essential to remember to use caution. The best way to safely handle stamps is with tongs. Stamp tongs come with differently shaped tips, but they all have smooth ends which you can use to pick up a stamp without damaging it. Because stamps are small, it is often difficult to see all of their minute details with the naked eye. Magnifying glasses help to not only see the design better, but also, in some instances discover small details which can help distinguish one stamp from another. You'll soon learn that there are times when stamps appear to be the same, but are not. Look-alike stamps frequently turn stamp collectors into Sherlock Holmes! One of the first things you will learn through collecting stamps of other countries is geography, so you may want to get an atlas, globe or world map to help you see where the country is located, or to help locate countries which issued stamps you have in your collection. Several stamp atlases have been published for philatelists; they show 'dead' countries that formerly issued stamps, as well as current nations. Sometimes, philatelists decide to collect stamps not by country of issue, but because of something else. There are people who collect stamps that are oddly shaped, or items that aren't technically stamps, such as labels and seals. These are commonly called Cinderellas (because they appear to be something they're not). Some people collect revenue stamps, which are used by the country of issue to tax items. Many more people collect stamps according to topic, such as animals, birds, or fish, people on stamps, such as authors or scientists, or sport scenes, flowers, art or crafts, the list of stamp collections by topics is practically endless.

SubQuestion No : 21

Q.21 Damaged stamps are:

- Ans ☒ 1. Timeless
☒ 2. Flawless
☒ 3. Priceless
☒ 4. Worthless

Question ID : **65497839680**

Status : **Answered**

Chosen Option : **4**

Comprehension:

Read the given passage and answer the questions that follow.

What can you call a hobby which teaches so much—in addition to providing fun and pleasure? Stamp collecting helps instruct the collector in geography, biography, history, culture and art. Stamps are miniature gateways to the world. Stamp collecting has very few rules. You don't have to buy expensive sneakers or rackets to enjoy it. However, there are a few simple things to remember when collecting stamps. First of all, one of the essential rules to remember is that the condition of a stamp is a highly important consideration. Badly torn and mis-handled stamps are not only unpleasant to the eye, but they are worth next to nothing when compared to their undamaged counterparts. Stamps are rated in condition from poor to superb. A stamp which can be called 'superb' is one of the finest qualities. That means it has perfect centring, brilliant colour and perfect gum. A used stamp can also be called superb, if it is perfectly centred, fresh looking, is lightly cancelled and undamaged. A designation of fine means a stamp without flaws, average centring and gum with light hinge marks. Used stamps designated 'fine' are not quite as fresh and cancels are heavier. 'Good' stamps are those which are off-centre, but fairly attractive. There may be minor defects such as disturbed gum, thin areas and heavy hinge marks. Stamps which fall below these standards should be ignored and are not worth acquiring by the serious collector. Because their condition is so important -- and stamps are only bits of paper after all -- when handling them it is essential to remember to use caution. The best way to safely handle stamps is with tongs. Stamp tongs come with differently shaped tips, but they all have smooth ends which you can use to pick up a stamp without damaging it. Because stamps are small, it is often difficult to see all of their minute details with the naked eye. Magnifying glasses help to not only see the design better, but also, in some instances discover small details which can help distinguish one stamp from another. You'll soon learn that there are times when stamps appear to be the same, but are not. Look-alike stamps frequently turn stamp collectors into Sherlock Holmes! One of the first things you will learn through collecting stamps of other countries is geography, so you may want to get an atlas, globe or world map to help you see where the country is located, or to help locate countries which issued stamps you have in your collection. Several stamp atlases have been published for philatelists; they show 'dead' countries that formerly issued stamps, as well as current nations. Sometimes, philatelists decide to collect stamps not by country of issue, but because of something else. There are people who collect stamps that are oddly shaped, or items that aren't technically stamps, such as labels and seals. These are commonly called Cinderellas (because they appear to be something they're not). Some people collect revenue stamps, which are used by the country of issue to tax items. Many more people collect stamps according to topic, such as animals, birds, or fish, people on stamps, such as authors or scientists, or sport scenes, flowers, art or crafts, the list of stamp collections by topics is practically endless.

SubQuestion No : 22

Q.22 Which of the following statements is NOT true?

- Ans ☒ 1. Labels and seals are not technically stamps.
- ☒ 2. A stamp collector is known as Sherlock Holmes.
- ☒ 3. Revenue stamps are used to tax items.
- ☒ 4. All stamps are made of paper.

Question ID : **65497839683**

Status : **Answered**

Chosen Option : **2**

Comprehension:

Read the given passage and answer the questions that follow.

What can you call a hobby which teaches so much—in addition to providing fun and pleasure? Stamp collecting helps instruct the collector in geography, biography, history, culture and art. Stamps are miniature gateways to the world. Stamp collecting has very few rules. You don't have to buy expensive sneakers or rackets to enjoy it. However, there are a few simple things to remember when collecting stamps. First of all, one of the essential rules to remember is that the condition of a stamp is a highly important consideration. Badly torn and mis-handled stamps are not only unpleasant to the eye, but they are worth next to nothing when compared to their undamaged counterparts. Stamps are rated in condition from poor to superb. A stamp which can be called 'superb' is one of the finest qualities. That means it has perfect centring, brilliant colour and perfect gum. A used stamp can also be called superb, if it is perfectly centred, fresh looking, is lightly cancelled and undamaged. A designation of fine means a stamp without flaws, average centring and gum with light hinge marks. Used stamps designated 'fine' are not quite as fresh and cancels are heavier. 'Good' stamps are those which are off-centre, but fairly attractive. There may be minor defects such as disturbed gum, thin areas and heavy hinge marks. Stamps which fall below these standards should be ignored and are not worth acquiring by the serious collector. Because their condition is so important -- and stamps are only bits of paper after all -- when handling them it is essential to remember to use caution. The best way to safely handle stamps is with tongs. Stamp tongs come with differently shaped tips, but they all have smooth ends which you can use to pick up a stamp without damaging it. Because stamps are small, it is often difficult to see all of their minute details with the naked eye. Magnifying glasses help to not only see the design better, but also, in some instances discover small details which can help distinguish one stamp from another. You'll soon learn that there are times when stamps appear to be the same, but are not. Look-alike stamps frequently turn stamp collectors into Sherlock Holmes! One of the first things you will learn through collecting stamps of other countries is geography, so you may want to get an atlas, globe or world map to help you see where the country is located, or to help locate countries which issued stamps you have in your collection. Several stamp atlases have been published for philatelists; they show 'dead' countries that formerly issued stamps, as well as current nations. Sometimes, philatelists decide to collect stamps not by country of issue, but because of something else. There are people who collect stamps that are oddly shaped, or items that aren't technically stamps, such as labels and seals. These are commonly called Cinderellas (because they appear to be something they're not). Some people collect revenue stamps, which are used by the country of issue to tax items. Many more people collect stamps according to topic, such as animals, birds, or fish, people on stamps, such as authors or scientists, or sport scenes, flowers, art or crafts, the list of stamp collections by topics is practically endless.

SubQuestion No : 23

Q.23 Which of the following criteria is NOT essential to qualify as a 'superb' stamp?

- Ans
- ☒ 1. It must have perfect centring
 - ☒ 2. It must have brilliant colours
 - ☒ 3. It must be an unused stamp
 - ☒ 4. It must have perfect gum

Question ID : **65497839679**

Status : **Answered**

Chosen Option : **3**

Comprehension:

Read the given passage and answer the questions that follow.

What can you call a hobby which teaches so much—in addition to providing fun and pleasure? Stamp collecting helps instruct the collector in geography, biography, history, culture and art. Stamps are miniature gateways to the world. Stamp collecting has very few rules. You don't have to buy expensive sneakers or rackets to enjoy it. However, there are a few simple things to remember when collecting stamps. First of all, one of the essential rules to remember is that the condition of a stamp is a highly important consideration. Badly torn and mis-handled stamps are not only unpleasant to the eye, but they are worth next to nothing when compared to their undamaged counterparts. Stamps are rated in condition from poor to superb. A stamp which can be called 'superb' is one of the finest qualities. That means it has perfect centring, brilliant colour and perfect gum. A used stamp can also be called superb, if it is perfectly centred, fresh looking, is lightly cancelled and undamaged. A designation of fine means a stamp without flaws, average centring and gum with light hinge marks. Used stamps designated 'fine' are not quite as fresh and cancels are heavier. 'Good' stamps are those which are off-centre, but fairly attractive. There may be minor defects such as disturbed gum, thin areas and heavy hinge marks. Stamps which fall below these standards should be ignored and are not worth acquiring by the serious collector. Because their condition is so important -- and stamps are only bits of paper after all -- when handling them it is essential to remember to use caution. The best way to safely handle stamps is with tongs. Stamp tongs come with differently shaped tips, but they all have smooth ends which you can use to pick up a stamp without damaging it. Because stamps are small, it is often difficult to see all of their minute details with the naked eye. Magnifying glasses help to not only see the design better, but also, in some instances discover small details which can help distinguish one stamp from another. You'll soon learn that there are times when stamps appear to be the same, but are not. Look-alike stamps frequently turn stamp collectors into Sherlock Holmes! One of the first things you will learn through collecting stamps of other countries is geography, so you may want to get an atlas, globe or world map to help you see where the country is located, or to help locate countries which issued stamps you have in your collection. Several stamp atlases have been published for philatelists; they show 'dead' countries that formerly issued stamps, as well as current nations. Sometimes, philatelists decide to collect stamps not by country of issue, but because of something else. There are people who collect stamps that are oddly shaped, or items that aren't technically stamps, such as labels and seals. These are commonly called Cinderellas (because they appear to be something they're not). Some people collect revenue stamps, which are used by the country of issue to tax items. Many more people collect stamps according to topic, such as animals, birds, or fish, people on stamps, such as authors or scientists, or sport scenes, flowers, art or crafts, the list of stamp collections by topics is practically endless.

SubQuestion No : 24

Q.24 Stamps that are off-centre with heavy cancels and disturbed gum, but that are quite attractive can qualify as:

- Ans ☒ 1. Good
☐ 2. Fine
☐ 3. Poor
☐ 4. Superb

Question ID : 65497839682

Status : Answered

Chosen Option : 1

Comprehension:

Read the given passage and answer the questions that follow.

What can you call a hobby which teaches so much—in addition to providing fun and pleasure? Stamp collecting helps instruct the collector in geography, biography, history, culture and art. Stamps are miniature gateways to the world. Stamp collecting has very few rules. You don't have to buy expensive sneakers or rackets to enjoy it. However, there are a few simple things to remember when collecting stamps. First of all, one of the essential rules to remember is that the condition of a stamp is a highly important consideration. Badly torn and mis-handled stamps are not only unpleasant to the eye, but they are worth next to nothing when compared to their undamaged counterparts. Stamps are rated in condition from poor to superb. A stamp which can be called 'superb' is one of the finest qualities. That means it has perfect centring, brilliant colour and perfect gum. A used stamp can also be called superb, if it is perfectly centred, fresh looking, is lightly cancelled and undamaged. A designation of fine means a stamp without flaws, average centring and gum with light hinge marks. Used stamps designated 'fine' are not quite as fresh and cancels are heavier. 'Good' stamps are those which are off-centre, but fairly attractive. There may be minor defects such as disturbed gum, thin areas and heavy hinge marks. Stamps which fall below these standards should be ignored and are not worth acquiring by the serious collector. Because their condition is so important -- and stamps are only bits of paper after all -- when handling them it is essential to remember to use caution. The best way to safely handle stamps is with tongs. Stamp tongs come with differently shaped tips, but they all have smooth ends which you can use to pick up a stamp without damaging it. Because stamps are small, it is often difficult to see all of their minute details with the naked eye. Magnifying glasses help to not only see the design better, but also, in some instances discover small details which can help distinguish one stamp from another. You'll soon learn that there are times when stamps appear to be the same, but are not. Look-alike stamps frequently turn stamp collectors into Sherlock Holmes! One of the first things you will learn through collecting stamps of other countries is geography, so you may want to get an atlas, globe or world map to help you see where the country is located, or to help locate countries which issued stamps you have in your collection. Several stamp atlases have been published for philatelists; they show 'dead' countries that formerly issued stamps, as well as current nations. Sometimes, philatelists decide to collect stamps not by country of issue, but because of something else. There are people who collect stamps that are oddly shaped, or items that aren't technically stamps, such as labels and seals. These are commonly called Cinderellas (because they appear to be something they're not). Some people collect revenue stamps, which are used by the country of issue to tax items. Many more people collect stamps according to topic, such as animals, birds, or fish, people on stamps, such as authors or scientists, or sport scenes, flowers, art or crafts, the list of stamp collections by topics is practically endless.

SubQuestion No : 25

Q.25 Stamps are miniature gateways to the world because they:

- Ans
- ☐ 1. are small in size and contain secret information
 - ☐ 2. travel from one part of the world to another
 - ☐ 3. are found in every country across the globe
 - ☒ 4. give a lot of information about the place where they are issued

Question ID : 65497839681

Status : Answered

Chosen Option : 4

Section : Quantitative Aptitude

Q.1 यदि 9-अंकों की एक संख्या 609a5b9c9, 99 से विभाज्य है, तो $(a + b + c)$ का मान _____ के बराबर है।

- Ans
- ☒ 1. 16
 - ☐ 2. 25
 - ☐ 3. 7
 - ☐ 4. 26

Question ID : 65497839685

Status : Answered

Chosen Option : 1

Q.2 $\triangle ABC$ की भुजा BC को D तक इस प्रकार बढ़ाया जाता है कि $CD = AC$ है। साथ ही, $AD = BD$ और $AB = AC$ है। $\angle ADB$ का माप क्या है?

- Ans
- ☒ 1. 24°
 - ☒ 2. 36°
 - ☒ 3. 30°
 - ☒ 4. 40°

Question ID : 65497839702

Status : Answered

Chosen Option : 2

Q.3 यदि $x + y = \frac{5}{6}$ और $\frac{1}{x} + \frac{1}{y} = 7\frac{1}{2}$ है, तो $x^3 + y^3$ का मान क्या होगा?

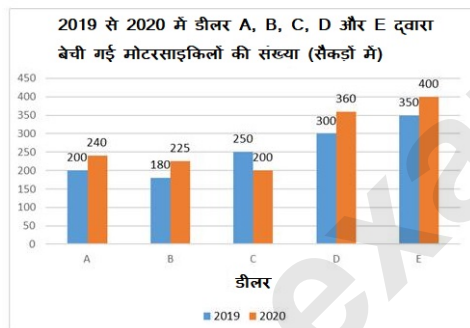
- Ans
- ☒ 1. $\frac{25}{72}$
 - ☒ 2. $\frac{8}{27}$
 - ☒ 3. $\frac{11}{72}$
 - ☒ 4. $\frac{65}{216}$

Question ID : 65497839495

Status : Answered

Chosen Option : 4

Q.4 निम्नांकित ग्राफ का अध्ययन करें और उसके बाद दिए गए प्रश्न का उत्तर दें।



2019 में डीलर B और D द्वारा बेची गई मोटरसाइकिलों की औसत संख्या, 2020 में डीलर A, C और E द्वारा बेची गई मोटरसाइकिलों की औसत संख्या से कितने प्रतिशत कम है (दशमलव के एक स्थान तक सही)?

- Ans
- ☒ 1. 8.1%
 - ☒ 2. 14.8%
 - ☒ 3. 14.3%
 - ☒ 4. 11.1%

Question ID : 65497839503

Status : Answered

Chosen Option : 2

Q.5 27 संख्याओं का औसत 58 है। पहली 14 संख्याओं का औसत 66.6 है और अंतिम 14 संख्याओं का औसत 52.4 है। यदि 14वीं संख्या को हटा दिया जाता है, तो शेष संख्याओं का औसत (दशमलव के एक स्थान तक सही) क्या है?

- Ans
- ☒ 1. 54.3
 - ☒ 2. 60.2
 - ☒ 3. 56.4
 - ☒ 4. 55.2

Question ID : 65497839686
Status : Answered
Chosen Option : 3

Q.6 एक समचतुर्भुज के आकार वाले मैदान का क्षेत्रफल (हेक्टेयर में) क्या है, जिसकी भुजा 146 m है और इसका एक विकर्ण 192 m है?

- Ans
- ☒ 1. 2.012
 - ☒ 2. 2.102
 - ☒ 3. 2.112
 - ☒ 4. 2.121

Question ID : 65497839698
Status : Answered
Chosen Option : 3

Q.7 कार्यालय A और B में कर्मचारियों (पुरुष और महिला) का अनुपात 2 : 3 है। A और B की महिला कर्मचारियों का अनुपात 1 : 2 तथा A की महिला कर्मचारियों का, A के कुल कर्मचारियों से अनुपात 1 : 3 है। A और B के पुरुष कर्मचारियों का अनुपात क्या है?

- Ans
- ☒ 1. 5 : 6
 - ☒ 2. 6 : 7
 - ☒ 3. 4 : 5
 - ☒ 4. 3 : 2

Question ID : 65497839592
Status : Answered
Chosen Option : 3

Q.8
$$\frac{(\tan 25^\circ \cot 65^\circ - \operatorname{cosec}^2 65^\circ) + \cot^2 61^\circ - \sec^2 29^\circ}{\sin^2 5^\circ + \sin^2 7^\circ + \sin^2 9^\circ + \dots + \sin^2 85^\circ}$$
 का मान ज्ञात करें।

- Ans
- ☒ 1. $-\frac{4}{41}$
 - ☒ 2. $-\frac{2}{41}$
 - ☒ 3. $\frac{4}{45}$
 - ☒ 4. $\frac{2}{45}$

Question ID : 65497839705
Status : Answered
Chosen Option : 1

Q.9 ट्रेन P और Q समान दिशा में, समानांतर पटरियों पर क्रमशः x km/h और 90 km/h की चाल से चल रही हैं जहां $(90 > x)$ है। तेज चाल से चलने वाली ट्रेन, धीमी चाल से चलने वाली ट्रेन में बैठे एक व्यक्ति को 30 सेकंड में पार करती है। यदि ट्रेन Q की लंबाई 225 m है, तो x का मान क्या होगा?

- Ans
- ☒ 1. 65
 - ☒ 2. 68
 - ☒ 3. 63
 - ☒ 4. 60

Question ID : 65497839493

Status : Answered

Chosen Option : 3

Q.10 समान धारिता की तीन बोतलें क्रमशः 30%, 40% और 25% संतरे के जूस से भरी हुई हैं। सेब का जूस मिलाकर बोतलों को पूरी तरह भर दिया गया। तीनों बोतलों की सामग्रियों को एक अन्य पात्र में उड़ेल दिया गया। इस मिश्रण में सेब के जूस का प्रतिशत ज्ञात करें।

- Ans
- ☒ 1. $51\frac{2}{3}\%$
 - ☒ 2. 65%
 - ☒ 3. 72%
 - ☒ 4. $68\frac{1}{3}\%$

Question ID : 65497839588

Status : Answered

Chosen Option : 4

Q.11 एक क्लब के कुछ सदस्यों का औसत वजन 70 kg है। यदि क्लब में 60 kg औसत वजन के 15 सदस्य शामिल होते हैं या 90 kg औसत वजन के 5 सदस्य क्लब छोड़ कर चले जाते हैं, तो दोनों मामलों में सदस्यों का औसत वजन बराबर होता है। आरंभ में क्लब में कितने सदस्य थे?

- Ans
- ☒ 1. 35
 - ☒ 2. 45
 - ☒ 3. 40
 - ☒ 4. 50

Question ID : 65497839585

Status : Answered

Chosen Option : 2

Q.12 4-अंकीय संख्या $x92x$, 36 से विभाज्य है और 7-अंकीय संख्या $y569z04$, 11 से विभाज्य है। $(y + z)$ के अधिकतम मान के लिए, $(2x + y + z)$ का मान क्या है?

- Ans
- ☒ 1. 22
 - ☒ 2. 31
 - ☒ 3. 33
 - ☒ 4. 26

Question ID : 65497839684

Status : Answered

Chosen Option : 2

Q.13 $\triangle ABC$ में, $\angle B = 87^\circ$ और $\angle C = 60^\circ$ है। बिंदु D और E क्रमशः भुजाओं AB और AC पर इस प्रकार स्थित हैं कि $\angle DEC = 93^\circ$ और $DE : BC = 5 : 9$ है। यदि $AB = 14.4$ cm है, तो AE की लंबाई क्या है?

- Ans
- ☒ 1. 8.4 cm
 - ☒ 2. 9 cm
 - ☒ 3. 8 cm
 - ☒ 4. 7.2 cm

Question ID : 65497839601

Status : Answered

Chosen Option : 3

Q.14 A और B की आयु का अनुपात 3 : 4 है। चार वर्ष पूर्व, उनकी आयु का अनुपात 5 : 7 था। आज से चार वर्ष बाद A और B की आयु का अनुपात क्या होगा?

- Ans
- ☒ 1. 5 : 6
 - ☒ 2. 4 : 5
 - ☒ 3. 7 : 9
 - ☒ 4. 6 : 7

Question ID : 65497839489

Status : Answered

Chosen Option : 3

Q.15 यदि $x - \frac{1}{x} = \sqrt{2}$ है, तो $\frac{x^4 - \frac{1}{x^2}}{x^2 - 1}$ का मान क्या होगा?

- Ans
- ☒ 1. 5
 - ☒ 2. -1
 - ☒ 3. 6
 - ☒ 4. $5\sqrt{2}$

Question ID : 65497839754

Status : Answered

Chosen Option : 1

Q.16 एक व्यापारी एक वस्तु को बेचकर 29% लाभ अर्जित करता है। यदि वह विक्रय मूल्य में ₹90 की वृद्धि करता है, तो उसका लाभ प्रतिशत बढ़कर 37% हो जाता है। यदि वह इस वस्तु को 20% लाभ पर बेचता है, तो वस्तु का विक्रय मूल्य (₹ में) क्या है?

- Ans
- ☒ 1. 1,350
 - ☒ 2. 1,125
 - ☒ 3. 1,380
 - ☒ 4. 1,260

Question ID : 65497839691

Status : Answered

Chosen Option : 1

Q.17 A की आय B की आय से 40% कम है, तथा C की आय A और B की संयुक्त आय के 30% से 40% अधिक है।
C की आय A की आय से कितने प्रतिशत अधिक है?

- Ans
- ✓ 1. 12%
 - ✗ 2. 15%
 - ✗ 3. 10.7%
 - ✗ 4. 12.4%

Question ID : 65497839485
Status : Answered
Chosen Option : 1

Q.18 एक निश्चित धनराशि साधारण ब्याज की वार्षिक 15% की दर पर 4 वर्षों में ₹11,520 हो जाती है। यदि ब्याज को हर 8 माह में चक्रवृद्धि किया जाए, तो 2 वर्षों में वही धनराशि, उसी वार्षिक ब्याज दर पर (₹ के निकटतम) कितनी हो जाएगी?

- Ans
- ✗ 1. ₹9,338
 - ✗ 2. ₹9,853
 - ✗ 3. ₹9,538
 - ✓ 4. ₹9,583

Question ID : 65497839695
Status : Answered
Chosen Option : 4

Q.19 A एक वस्तु, B को 20% लाभ पर बेचता है। B इसे 15% हानि पर C को बेचता है। C इसे 25% लाभ पर D को बेचता है। यदि A और C के लाभ के बीच का अंतर ₹132 है और B ने ₹x में वस्तु खरीदी, तो x का मान क्या है?

- Ans
- ✗ 1. 2,820
 - ✓ 2. 2,880
 - ✗ 3. 3,060
 - ✗ 4. 2,940

Question ID : 65497839692
Status : Answered
Chosen Option : 2

Q.20 यदि $x^2 - 4x - 3 = 0$ है, तो $\frac{(x^4 - \frac{27}{x^2})}{(x^2 + 4x - 3)}$ का मान क्या होगा?

- Ans
- ✗ 1. $10\frac{1}{2}$
 - ✗ 2. $9\frac{1}{4}$
 - ✗ 3. $9\frac{1}{8}$
 - ✓ 4. $12\frac{1}{2}$

Question ID : 65497839599
Status : Answered
Chosen Option : 4

Q.21 पाइप A और B एक टंकी को क्रमशः 20 घंटे और 30 घंटे में भरते हैं, और पाइप C निकास (आउटलेट) पाइप है। यदि तीनों पाइपों को एक साथ खोल दिया जाए, तो टंकी को भरने में, एक साथ A और B द्वारा लिए गए समय से $1\frac{1}{3}$ घंटा का अधिक समय लगता है। A और B को एक साथ 7 घंटों के लिए खोला गया, और फिर दोनों को बंद करके C को खोला गया। अब पाइप C टंकी को कितने समय में खाली कर सकता है?

- Ans
- ✗ 1. 64 घंटे
 - ✗ 2. 60 घंटे
 - ✓ 3. 70 घंटे
 - ✗ 4. 72 घंटे

Question ID : 65497839594

Status : Answered

Chosen Option : 3

Q.22 एक वस्तु का अंकित मूल्य ₹1,000 है। इसे तीन क्रमागत डिस्काउंट (छूट) के बाद ₹712.89 में बेचा गया। पहला डिस्काउंट 10% और अन्य दो डिस्काउंट में से प्रत्येक $x\%$ है। x का मान क्या है?

- Ans
- ✗ 1. 15
 - ✓ 2. 11
 - ✗ 3. 12
 - ✗ 4. 13

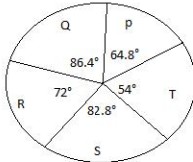
Question ID : 65497839484

Status : Answered

Chosen Option : 3

Q.23 निम्नांकित पाई चार्ट का अध्ययन करें और उसके बाद दिए गए प्रश्न का उत्तर दें।

पाई चार्ट, 2020 में संस्थान P, Q, R, S और T से वार्षिक परीक्षा में उपस्थित होने वाले छात्रों के वितरण (डिग्री-वार) को दर्शाता है। उपस्थित छात्रों की कुल संख्या 3000 है।



संस्थान S और T से परीक्षा में उपस्थित लड़कों और लड़कियों की संख्या का अनुपात क्रमशः 11 : 12 और 5 : 4 है। संस्थान S और T से उपस्थित लड़कों की कुल संख्या और इन दोनों संस्थानों से उपस्थित लड़कियों की कुल संख्या के बीच का अंतर कितना है?

- Ans
- ✗ 1. 24
 - ✗ 2. 17
 - ✗ 3. 23
 - ✓ 4. 20

Question ID : 65497839708

Status : Answered

Chosen Option : 4

Q.24 यदि $8 \cos^2 \theta - 2 \cos \theta - 3 = 0$, $0^\circ < \theta < 90^\circ$ है, तो $3 \tan \theta + \operatorname{cosec} \theta + \cot \theta$ का मान क्या है?

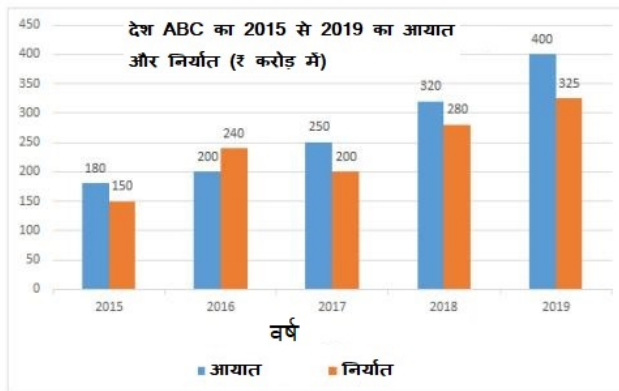
- Ans
- ✗ 1. $\frac{4}{3}\sqrt{7}$
- ✗ 2. $\frac{3}{4}\sqrt{7}$
- ✗ 3. $4\sqrt{7}$
- ✓ 4. $2\sqrt{7}$

Question ID : 65497839704

Status : Answered

Chosen Option : 4

Q.25 निम्नांकित ग्राफ का अध्ययन करें और उसके बाद दिए गए प्रश्न का उत्तर दें।



2019 में देश ABC का निर्यात, 2017 में उसके आयात से कितने प्रतिशत अधिक है?

- Ans
- ✗ 1. 40%
- ✓ 2. 30%
- ✗ 3. 28%
- ✗ 4. 12%

Question ID : 65497839604

Status : Answered

Chosen Option : 2

Section : General awareness

Q.1 "समानता, स्वतंत्रता और बंधुत्व" शब्द, जो भारत के संविधान की प्रस्तावना में दृष्टव्य होते हैं, _____ संविधान से लिए गए हैं।

- Ans
- ✗ 1. ऑस्ट्रेलियाई
- ✓ 2. फ्रांसीसी
- ✗ 3. कनाडाई
- ✗ 4. स्पेनी

Question ID : 65497839628

Status : Answered

Chosen Option : 3

Q.2 गीता गोपीनाथ निम्नलिखित में से किस संगठन में मुख्य अर्थशास्त्री बनने वाली पहली भारतीय-अमेरिकी महिला हैं?

- Ans
- ☒ 1. ऊद्युश बैंक
 - ☒ 2. फ़ोर्ब्स इंडिया
 - ☒ 3. अंतर्राष्ट्रीय पुनर्निर्माण और विकास बैंक
 - ☒ 4. अंतर्राष्ट्रीय मुद्रा कोष

Question ID : 65497839728

Status : Answered

Chosen Option : 4

Q.3 "मुझे गैर-निगमित, गैर-कृषि लघु/सूक्ष्म उद्यमों को ₹10 लाख तक का ऋण प्रदान करने के लिए 2015 में आरंभ किया गया था। मेरा एक उत्पाद तरुण (Tarun) है"। मुझे पहचानो।

- Ans
- ☒ 1. प्रधान मंत्री आवास योजना
 - ☒ 2. प्रधान मंत्री मुद्रा (MUDRA) योजना
 - ☒ 3. प्रधान मंत्री जन धन योजना
 - ☒ 4. संसद आदर्श ग्राम योजना

Question ID : 65497839712

Status : Answered

Chosen Option : 2

Q.4 1924 में, महात्मा गांधी _____ में भारतीय राष्ट्रीय कांग्रेस के अध्यक्ष के रूप में चुने गए थे।

- Ans
- ☒ 1. बेलगाम
 - ☒ 2. नागपुर
 - ☒ 3. कोल्हापुर
 - ☒ 4. मैसूर

Question ID : 65497839522

Status : Answered

Chosen Option : 1

Q.5 संचारी रोग अप्रत्यक्ष रूप से '5 Fs' के रूप में जाने जाते हैं। निम्नलिखित में से कौन सा उनमें नियोजित नहीं है?

- Ans
- ☒ 1. द्रव (Fluid)
 - ☒ 2. संक्रमणी पदार्थ (Fomites)
 - ☒ 3. अंगुलियाँ (Fingers)
 - ☒ 4. कवक (Fungi)

Question ID : 65497839718

Status : Answered

Chosen Option : 3

Q.6 विरुपाक्ष मंदिर _____ में स्थित है।

- Ans
- ☒ 1. हंपी
 - ☒ 2. मामल्लपुरम
 - ☒ 3. चिदंबरम
 - ☒ 4. कन्याकुमारी

Question ID : 65497839609

Status : Answered

Chosen Option : 1

Q.7 राष्ट्रीय बागवानी बोर्ड द्वारा जारी 2017-18 के आंकड़ों के अनुसार, निम्नलिखित में से कौन सा राज्य भारत में तूर (अरहर की दाल) का सबसे बड़ा उत्पादक है?

- Ans
- ☒ 1. छत्तीसगढ़
 - ☒ 2. ओडिशा
 - ☒ 3. तमिलनाडु
 - ☒ 4. महाराष्ट्र

Question ID : 65497839618

Status : Not Answered

Chosen Option : --

Q.8 निम्नलिखित में से कौन सी नदी अपना जल अरब सागर में विसर्जित करती है?

- Ans
- ☒ 1. गोदावरी
 - ☒ 2. तापी
 - ☒ 3. महानदी
 - ☒ 4. सुवर्णरेखा

Question ID : 65497839719

Status : Answered

Chosen Option : 2

Q.9 भारत के सर्वोच्च न्यायालय को शासित करने वाले कानून और 'कानून द्वारा स्थापित प्रक्रियाओं' की अवधारणा को _____ के संविधान से अपनाया गया था।

- Ans
- ☒ 1. न्यूज़ीलैंड
 - ☒ 2. ताईवान
 - ☒ 3. जापान
 - ☒ 4. ऑस्ट्रेलिया

Question ID : 65497839731

Status : Answered

Chosen Option : 3

Q.10 383 ईसा पूर्व में द्वितीय बौद्ध परिषद् का आयोजन कहाँ हुआ था?

- Ans
- ☒ 1. नालंदा
 - ☒ 2. कन्नौज
 - ☒ 3. वैशाली
 - ☒ 4. लुंबिनी

Question ID : 65497839621

Status : Answered

Chosen Option : 3

Q.11 मार्च 2021 के दौरान भारत और इंग्लैंड की पुरुष क्रिकेट टीमों के बीच तीनों एकदिवसीय मैचों का आयोजन स्थल कौन सा शहर था?

- Ans
- ☒ 1. मुंबई
 - ☒ 2. अहमदाबाद
 - ☒ 3. चेन्नई
 - ☒ 4. पुणे

Question ID : 65497839733

Status : Answered

Chosen Option : 2

Q.12 स्पॉन्जिला _____ जल के स्पंज का एक उदाहरण है।

- Ans ☒ 1. क्लोरीनयुक्त (chlorinated)
☒ 2. समुद्री (sea)
☒ 3. अलवण (fresh)
☒ 4. मिष्ट (sweet)

Question ID : 65497839614
 Status : Answered
 Chosen Option : 2

Q.13 निम्नलिखित में से कौन भारत रत्न से सम्मानित नहीं है?

- Ans ☒ 1. जहाँगीर रतनजी दादाभाई टाटा
☒ 2. महात्मा गांधी
☒ 3. सत्यजित रे
☒ 4. नेल्सन मंडेला

Question ID : 65497839627
 Status : Answered
 Chosen Option : 2

Q.14 निम्नलिखित को निर्माण के आरोही कालानुक्रमिक क्रम में व्यवस्थित करें।

- A: ताजमहल
 B: कोणार्क सूर्य मंदिर
 C: स्वर्ण मंदिर
 D: बृहदीश्वर मंदिर

- Ans ☒ 1. B, C, A, D
☒ 2. C, A, D, B
☒ 3. D, B, C, A
☒ 4. A, B, C, D

Question ID : 65497839724
 Status : Answered
 Chosen Option : 3

Q.15 पी.एम. वाणी (PM WANI) योजना का उद्देश्य क्या है?

- Ans ☒ 1. 2022 तक सभी गांवों में ब्रॉडबैंड उपागम प्रदान करना
☒ 2. डिजिटल अवसंरचना की मरम्मत के लिए ग्रामीण युवाओं में कौशल विकसित करना
☒ 3. सार्वजनिक वाई-फाई संजाल (network) का प्रसार
☒ 4. ग्रामीण लोगों को वहनीय जीवन बीमा सेवाएँ देना

Question ID : 65497839713
 Status : Answered
 Chosen Option : 2

Q.16 निम्नलिखित में से कौन सा पाकिस्तान का एक समुद्री बंदरगाह है?

- Ans ☒ 1. केटा
☒ 2. रावलपिंडी
☒ 3. खादर
☒ 4. सियालकोट

Question ID : 65497839518
 Status : Answered
 Chosen Option : 3

Q.17 निम्नलिखित में से कौन सा यूनेस्को (UNESCO) में एक अमूर्त सांस्कृतिक विरासत के रूप में अंकित है?

- Ans
- ☒ 1. वैशाखी
 - ☒ 2. दशहरा
 - ☒ 3. गुड़ी पाड़वा
 - ☒ 4. नौरोज़

Question ID : 65497839710

Status : Answered

Chosen Option : 2

Q.18 बहुराष्ट्रीय सैन्य अभ्यास शांतिर ओग्रोशेना 2021 (शांति का अग्रणी दूत - SHANTIR OGROSHENA 2021) 4 अप्रैल 2021 को कहाँ आरंभ हुआ था?

- Ans
- ☒ 1. भारत
 - ☒ 2. मालदीव
 - ☒ 3. बांग्लादेश
 - ☒ 4. कुवैत

Question ID : 65497839510

Status : Answered

Chosen Option : 3

Q.19 निम्नलिखित में से कौन सा भारतीय संसदीय कार्यवाही से संबंधित प्रश्न का एक प्रकार नहीं है?

- Ans
- ☒ 1. अल्प सूचना प्रश्न
 - ☒ 2. अ-तारांकित प्रश्न
 - ☒ 3. तारांकित प्रश्न
 - ☒ 4. वार्षिक प्रश्न

Question ID : 65497839528

Status : Answered

Chosen Option : 2

Q.20 इनमें से कौन उपन्यास 'द इनसाइडर' का लेखक है?

- Ans
- ☒ 1. आई.के. गुजराल
 - ☒ 2. पी.वी. नरसिम्हा राव
 - ☒ 3. फ़ख़रुद्दीन अली अहमद
 - ☒ 4. ज़ाकिर हुसैन

Question ID : 65497839523

Status : Answered

Chosen Option : 2

Q.21 निम्नलिखित में से कौन सा एक प्राकृतिक कीटनाशक का उदाहरण है?

- Ans
- ☒ 1. रोटेनॉन (Rotenone)
 - ☒ 2. क्लोरडेन (Chlordane)
 - ☒ 3. हेप्टाक्लोर (Heptachlor)
 - ☒ 4. डी.डी.टी. (DDT)

Question ID : 65497839717

Status : Not Answered

Chosen Option : --

Q.22 2011 की जनगणना के अनुसार भारत में गांवों की संख्या निम्न के बीच (10,000 के गुणकों में) है।

Ans ☒ 1. 590000 और 600000,

62 और 63

☒ 2. 570000 और 580000,

59 और 60

☒ 3. 620000 और 630000,

57 और 58

☒ 4. 640000 और 650000,

64 और 65

Question ID : 65497839721

Status : Not Answered

Chosen Option : --

Q.23 निम्नलिखित में से किसकी विमा दाब के समान होती है?

Ans ☒ 1. बल

☒ 2. प्रतिबल

☒ 3. कार्य

☒ 4. विकृति

Question ID : 65497839511

Status : Answered

Chosen Option : 3

Q.24 मुदियेट्टु केरल का एक अनुष्ठान नृत्य नाटक है जो देवी _____ और दानव दारिका के बीच युद्ध की पौराणिक कथा पर आधारित है।

Ans ☒ 1. सरस्वती

☒ 2. लक्ष्मी

☒ 3. काली

☒ 4. शारदा

Question ID : 65497839709

Status : Answered

Chosen Option : 3

Q.25 'बंगाल गज़ट' पहला _____ था।

Ans ☒ 1. भारत की अंग्रेज़ी पत्रिका

☒ 2. भारत की अंग्रेज़ी आवधिक पत्रिका

☒ 3. भारत का अंग्रेज़ी समाचार-पत्र

☒ 4. भारत का अंग्रेज़ी नाटक

Question ID : 65497839725

Status : Answered

Chosen Option : 3

Selection Post Phase IX 2021 Graduate level

Roll Number	examstocks.com
Candidate Name	examstocks.com
Venue Name	iON Digital Zone iDZ Dohna
Exam Date	14/03/2022
Exam Time	3:00 PM - 4:00 PM
Subject	Selection Post Graduate Level

Section : General Intelligence

Q.1 एक निश्चित कूट भाषा में, 'GLOBE' को 'HYRIJ' और 'CODES' को 'VBGLF' लिखा जाता है। उसी भाषा में 'SMART' को क्या लिखा जाएगा?

- Ans
- ☒ 1. WDOVJ
 - ☒ 2. VDKWO
 - ☒ 3. VKDOW
 - ☒ 4. WODJV

Question ID : 65497840498

Status : Answered

Chosen Option : 4

Q.2 निशाल और सुमन भाई हैं। प्रीति का पुत्र विप्लव संजना का भाई है। श्रीनिवास निशाल के पिता हैं। सुमन और प्रीति विवाहित युगल हैं और उनका एक पुत्र एवं एक पुत्री है। संजना का श्रीनिवास के साथ क्या संबंध है?

- Ans
- ☒ 1. पोता
 - ☒ 2. पोती
 - ☒ 3. भांजी
 - ☒ 4. पुत्रवधू

Question ID : 65497840505

Status : Answered

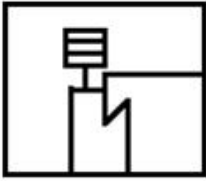
Chosen Option : 2

Q.3 उस विकल्प का चयन करें जिसमें दी गई आकृति अंतर्निहित है। (आकृति को घुमाने की अनुमति नहीं है)।

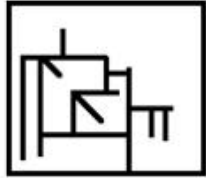


Ans

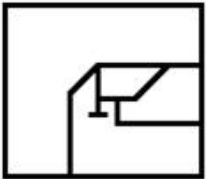
✗ 1.



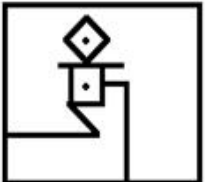
✓ 2.



✗ 3.



✗ 4.



Question ID : 65497840718

Status : Answered

Chosen Option : 2

Q.4 सक्रिय' का 'निष्क्रिय' से वही संबंध है, जो 'संक्षिप्त' का '_____ ' से है।

Ans

✗ 1. केस

✗ 2. परिचय

✓ 3. विस्तृत

✗ 4. छोटा

Question ID : 65497840598

Status : Answered

Chosen Option : 3

Q.5 दर्पण को PQ पर रखे जाने पर, जैसा कि दर्शाया गया है, दिए गए संयोजन की सही दर्पण छवि का चयन करें।

GEOMETRY

P
Q

Ans

✗ 1. YЯETMOEƆ

✗ 2. GEOMLEKλ

✓ 3. YЯETMOEƆ

✗ 4. GEOMLEKλ

Question ID : 65497840515

Status : Answered

Chosen Option : 3

Q.6 उस विकल्प का चयन करें जो तीसरे पद से उसी प्रकार संबंधित है, जिस प्रकार दूसरा पद पहले पद से संबंधित है।

REGARD : GODDHO :: SQUARE : ?

- Ans ☒ 1. HODRTP
☒ 2. VNXNDI
☒ 3. VNXDNI
☒ 4. HDOTRP

Question ID : 65497840594

Status : Answered

Chosen Option : 1

Q.7 एक निश्चित कूट भाषा में, 'YEARS' को 'AERSY' लिखा जाता है। उसी भाषा में 'SPRING' को क्या लिखा जाएगा?

- Ans ☒ 1. GINPRS
☒ 2. NIRSGP
☒ 3. GINRPS
☒ 4. INSRGP

Question ID : 65497840599

Status : Answered

Chosen Option : 1

Q.8 एक निश्चित कूट भाषा में, 'SPIRIT' को '65' और 'DENSE' को '83' के रूप में कूटबद्ध किया जाता है। उसी कूट भाषा में 'LOGICAL' को किस रूप में कूटबद्ध किया जाएगा?

- Ans ☒ 1. 213
☒ 2. 132
☒ 3. 231
☒ 4. 123

Question ID : 65497840706

Status : Not Attempted and Marked For Review

Chosen Option : --

Q.9 अक्षरों के उस संयोजन का चयन करें, जिसे दी गई अक्षर श्रृंखला के रिक्त स्थानों में क्रमिक रूप से रखने पर यह श्रृंखला पूर्ण हो जाएगी।

Q _ L _ P _ P _ BPQ _ LB _ Q _ L _ P

- Ans ☒ 1. P, Q, P, L, P, B, P, B
☒ 2. P, B, Q, L, P, P, P, B
☒ 3. P, Q, B, P, L, P, B, P
☒ 4. P, P, P, P, B, B, L, Q

Question ID : 65497840708

Status : Answered

Chosen Option : 2

Q.10 दिए गए विकल्पों में से उस संख्या का चयन करें, जो निम्नलिखित श्रेणी में प्रश्नवाचक चिह्न (?) के स्थान पर आ सकती है।

8, 15, 46, 91, 274, ?

Ans ☒ 1. 574

☒ 2. 547

☒ 3. 545

☒ 4. 554

Question ID : 65497840611

Status : Answered

Chosen Option : 2

Q.11 अक्षरों के उस संयोजन का चयन करें जिसे दी गई श्रृंखला के रिक्त स्थानों में क्रमिक रूप से रखने पर श्रृंखला पूरी हो जाएगी।

P_NDVPL_DV_LND_P_N_V

Ans ☒ 1. L, N, L, P, D, V

☒ 2. L, N, P, V, L, D

☒ 3. L, P, N, L, V, D

☒ 4. L, L, D, N, P, V

Question ID : 65497840503

Status : Answered

Chosen Option : 2

Q.12 उस सही विकल्प का चयन करें जो दिए गए शब्दों की व्यवस्था को उसी क्रम में इंगित करता है, जिस क्रम में वे अंग्रेज़ी शब्दकोश में दिखाई देते हैं।

1. President
2. Permutation
3. Perform
4. Proverb
5. Perturb

Ans ☒ 1. 3, 2, 5, 1, 4

☒ 2. 3, 5, 2, 1, 4

☒ 3. 3, 5, 1, 2, 4

☒ 4. 3, 2, 5, 4, 1

Question ID : 65497840493

Status : Answered

Chosen Option : 1

Q.13 दिए गए पत्रक (शीट) को मोड़कर एक घन बनाया जाता है। इस प्रकार बने घन में अक्षरों का निम्नलिखित में से कौन सा युग्म विपरीत दिशा में होगा?

	E		
A	I	J	O
			U

Ans ☒ 1. I और U

☒ 2. I और O

☒ 3. J और U

☒ 4. E और J

Question ID : 65497840513

Status : Answered

Chosen Option : 2

Q.14 उस विकल्प का चयन करें जो तीसरे शब्द से उसी प्रकार संबंधित है, जिस प्रकार दूसरा शब्द पहले शब्द से संबंधित है।

माली : हैरो :: मोची : ?

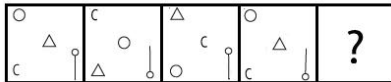
- Ans ☒ 1. सूआ
☒ 2. हल
☒ 3. आरी
☒ 4. छेनी

Question ID : 65497840495

Status : Answered

Chosen Option : 1

Q.15 दिए गए विकल्पों में से उस आकृति का चयन करें जो निम्नलिखित शृंखला में प्रश्न चिह्न (?) को प्रतिस्थापित कर सकती है।



Ans

- ☒ 1.
- ☒ 2.
- ☒ 3.
- ☒ 4.

Question ID : 65497840614

Status : Answered

Chosen Option : 2

Q.16 उस विकल्प का चयन करें जो चौथी संख्या से उसी प्रकार संबंधित है, जिस प्रकार पहली संख्या दूसरी संख्या से और पाँचवीं संख्या छठी संख्या से संबंधित है।

11 : 91 :: ? : 154 :: 15 : 127

- Ans ☒ 1. 16
☒ 2. 24
☒ 3. 18
☒ 4. 14

Question ID : 65497840714

Status : Answered

Chosen Option : 3

Q.17 एक निश्चित कूट भाषा में, 'CRIME' को '24918422' के रूप में कोडित किया जाता है। उसी भाषा में 'TABLE' को किस रूप में कोडित किया जाएगा?

- Ans
- ☒ 1. 22526232
 - ☒ 2. 25362222
 - ☒ 3. 25222236
 - ☒ 4. 22625322

Question ID : 65497840501

Status : Answered

Chosen Option : 4

Q.18 एक निश्चित कूट भाषा में, 'ACUTE' को 'EXAYI' के रूप में लिखा जाता है, और 'SPEND' को 'XUISW' के रूप में लिखा जाता है। उसी भाषा में 'BLAME' को किस रूप में लिखा जाएगा?

- Ans
- ☒ 1. GOARI
 - ☒ 2. GQFRJ
 - ☒ 3. YQERI
 - ☒ 4. YPEQA

Question ID : 65497840703

Status : Marked For Review

Chosen Option : 2

Q.19 दिए गए समीकरण को सही करने के लिए किन दो चिह्नों को आपस में बदला जाना चाहिए?

$$12 + 156 \div 13 \times 6 - 100 = 50$$

- Ans
- ☒ 1. \div और $-$
 - ☒ 2. $+$ और \times
 - ☒ 3. $-$ और \times
 - ☒ 4. \div और \times

Question ID : 65497840511

Status : Answered

Chosen Option : 2

Q.20 उस सही विकल्प का चयन करें जो दिए गए शब्दों की व्यवस्था को उसी क्रम में इंगित करता है, जिस क्रम में वे अंग्रेज़ी शब्दकोश में दिखाई देते हैं।

1. Marathon
2. Manuscript
3. Marvellous
4. Manipulation
5. Management
6. Mandatory

- Ans
- ☒ 1. 5, 4, 6, 1, 2, 3
 - ☒ 2. 5, 6, 4, 2, 1, 3
 - ☒ 3. 4, 5, 1, 6, 3, 2
 - ☒ 4. 6, 5, 2, 4, 3, 1

Question ID : 65497840596

Status : Answered

Chosen Option : 2

Q.21 उस विकल्प का चयन करें जो तीसरे पद से उसी प्रकार संबंधित है, जिस प्रकार दूसरा पद पहले पद से संबंधित है।

BLOCK : LBPKC :: MARGIN : ?

- Ans ☒ 1. OBHQHL
☒ 2. OHHQBL
☒ 3. OHBQHL
☒ 4. OHQHBL

Question ID : 65497840695

Status : Marked For Review

Chosen Option : 2

Q.22 'D \equiv G' का अर्थ है 'D, G की बहन है'।
'D Δ G' का अर्थ है 'D, G का पति है'।
'D ∇ G' का अर्थ है 'D, G की बेटी है'।
'D \exists G' का अर्थ है 'D, G की माँ है'।
'D ∞ G' का अर्थ है 'D, G का भाई है'।

निम्नलिखित में से कौन सा व्यंजक दर्शाता है कि 'S, M का पति है'?

- Ans ☒ 1. $S \infty H \equiv L \equiv Q \exists M$
☒ 2. $Q \nabla M \exists H \equiv L \exists S$
☒ 3. $M \exists Q \Delta L \equiv H \exists S$
☒ 4. $M \exists Q \equiv L \infty H \nabla S$

Question ID : 65497840710

Status : Not Attempted and Marked For Review

Chosen Option : --

Q.23 दिए गए कथनों और निष्कर्षों को ध्यानपूर्वक पढ़ें। यह मानते हुए कि कथनों में दी गई जानकारी सत्य है, भले ही वह सामान्य रूप से ज्ञात तथ्यों से भिन्न प्रतीत होती हो, तय करें कि दिए गए निष्कर्षों में से कौन से निष्कर्ष कथनों का तार्किक रूप से अनुसरण करते हैं।

कथन:
कुछ सिंगारदान टेप हैं।
कुछ टेप सैशे हैं।

निष्कर्ष:
I. कोई सैशे सिंगारदान नहीं है।
II. कोई टेप सिंगारदान नहीं है।
III. कुछ सैशे सिंगारदान हैं।

- Ans ☒ 1. सभी निष्कर्ष अनुसरण करते हैं।
☒ 2. निष्कर्ष I और II दोनों अनुसरण करते हैं।
☒ 3. निष्कर्ष II और III दोनों अनुसरण करते हैं।
☒ 4. या तो निष्कर्ष I या III अनुसरण करता है।

Question ID : 65497840711

Status : Answered

Chosen Option : 4

Q.24 दिए गए कथनों और निष्कर्षों को ध्यानपूर्वक पढ़ें। यह मानते हुए कि कथनों में दी गई जानकारी सत्य है, भले ही वह सामान्य रूप से ज्ञात तथ्यों से भिन्न प्रतीत होती हो, तय करें कि दिए गए निष्कर्षों में से कौन सा/से निष्कर्ष कथनों का तार्किक रूप से अनुसरण करता/ते है/हैं।

कथन:

कुछ दंत-चिकित्सक कलाकार हैं।

कुछ कलाकार वैज्ञानिक हैं।

कोई भी वैज्ञानिक जादूगर नहीं है।

निष्कर्ष:

I. कुछ वैज्ञानिकों के दंत-चिकित्सक होने की संभावना है।

II. कुछ जादूगरों के कलाकार न होने की संभावना है।

- Ans ☒ 1. न तो निष्कर्ष I और न ही निष्कर्ष II अनुसरण करता है।
- ☒ 2. निष्कर्ष I और निष्कर्ष II, दोनों अनुसरण करते हैं।
- ☒ 3. केवल निष्कर्ष II अनुसरण करता है।
- ☒ 4. केवल निष्कर्ष I अनुसरण करता है।

Question ID : 65497840610

Status : Marked For Review

Chosen Option : 2

Q.25 एक निश्चित कूट भाषा में, 'NODES' को '38642' के रूप में कोडित किया जाता है, और 'STOVE' को '21854' के रूप में कोडित किया जाता है। उसी भाषा में 'SEVEN' को किस रूप में कोडित किया जाएगा?

- Ans ☒ 1. 25344
- ☒ 2. 25434
- ☒ 3. 24543
- ☒ 4. 23445

Question ID : 65497840602

Status : Answered

Chosen Option : 3

Section : English Language

Q.1 Select the option that expresses the given sentence in reported speech.

She said, "The organisation was established a year ago."

- Ans ☒ 1. She said that the organisation had been established a year before.
- ☒ 2. She said that the organisation has been established a year ago.
- ☒ 3. She told that the organisation was established a year before.
- ☒ 4. She said that the organisation was established a year ago.

Question ID : 65497840622

Status : Marked For Review

Chosen Option : 1

Q.2 Select the most appropriate ANTONYM of the given word.

Resilience

- Ans ☒ 1. Flexibility
- ☒ 2. Rigidity
- ☒ 3. Elasticity
- ☒ 4. Courage

Question ID : 65497840527

Status : Answered

Chosen Option : 2

Q.3 Select the option that expresses the given sentence in passive voice.

The Managing Director of the company launched the latest phone before the press.

- Ans ☒ 1. The Managing Director was launched by the latest phone of the company before the press.
- ☒ 2. The latest phone was launched by the press before the Managing Director of the company.
- ☒ 3. The latest phone has been launched by the Managing Director of the company before the press.
- ☒ 4. The latest phone was launched by the Managing Director of the company before the press.

Question ID : 65497840517

Status : Answered

Chosen Option : 4

Q.4 Sentences of a paragraph are given below in jumbled order. Arrange the sentences in the correct order to form a meaningful and coherent paragraph.

- A. Then they gave me an injection to counteract inflammation.
 B. They used a special medicine to clear out all the worms from my body.
 C. It had a small dispensary where I was washed and my wounds treated.
 D. Tournavista was an agricultural colony.

- Ans ☒ 1. BDCA
- ☒ 2. BADC
- ☒ 3. DCBA
- ☒ 4. DBAC

Question ID : 65497840525

Status : Answered

Chosen Option : 3

Q.5 Select the option that will improve the underlined part of the given sentence. In case no improvement is needed, select 'No improvement required'.

Only by his prudence, he would have incurred a heavy loss.

- Ans ☒ 1. If not
- ☒ 2. No improvement required
- ☒ 3. But for
- ☒ 4. Owing to

Question ID : 65497840726

Status : Marked For Review

Chosen Option : 3

Q.6 Select the most appropriate option to fill in the blank.

He did not provide _____ his brother in his will.

- Ans ☒ 1. for
- ☒ 2. to
- ☒ 3. by
- ☒ 4. from

Question ID : 65497840626

Status : Answered

Chosen Option : 2

Q.7 Select the option that will improve the underlined part of the given sentence. In case no improvement is needed, select 'No improvement required'.

This antique vase is good piece of work.

- Ans ☒ 1. is a fine
☐ 2. is best
☐ 3. is nice
☐ 4. No improvement required

Question ID : 65497840623
Status : Answered
Chosen Option : 1

Q.8 Select the INCORRECTLY spelt word.

- Ans ☐ 1. Thrive
☐ 2. Relish
☐ 3. Caution
☒ 4. Guage

Question ID : 65497840632
Status : Marked For Review
Chosen Option : 2

Q.9 The following sentence has been split into four segments. Identify the segment that contains a grammatical error.

He did not forgot / to consult his parents / before accepting / the job offer.

- Ans ☐ 1. to consult his parents
☐ 2. before accepting
☐ 3. the job offer
☒ 4. He did not forgot

Question ID : 65497840618
Status : Answered
Chosen Option : 4

Q.10 Select the option that can be used as a one-word substitute for the given group of words.

Capable of bending easily without breaking

- Ans ☐ 1. Brittle
☐ 2. Durable
☒ 3. Pliable
☐ 4. Rigid

Question ID : 65497840733
Status : Marked For Review
Chosen Option : 3

Q.11 Select the most appropriate synonym of the given word.

Appraise

- Ans ☒ 1. Amend
☒ 2. Revolt
☒ 3. Assess
☒ 4. Neglect

Question ID : 65497840628
 Status : Answered
 Chosen Option : 3

Q.12 Select the option that expresses the given sentence in active voice.

What were you taught at the creative writing workshop?

- Ans ☒ 1. What do they teach you at the creative writing workshop?
☒ 2. What have they taught you at the creative writing workshop?
☒ 3. What did they teach you at the creative writing workshop?
☒ 4. What are they teaching you at the creative writing workshop?

Question ID : 65497840722
 Status : Answered
 Chosen Option : 3

Q.13 Select the most appropriate meaning of the given idiom.

Losing ground

- Ans ☒ 1. Becoming deeply engraved
☒ 2. Acquiring power
☒ 3. Continuing as before
☒ 4. Becoming less acceptable

Question ID : 65497840528
 Status : Marked For Review
 Chosen Option : 4

Q.14 Select the most appropriate option to fill in the blank.

The audience was requested to refrain _____ smoking during the show.

- Ans ☒ 1. for
☒ 2. in
☒ 3. from
☒ 4. by

Question ID : 65497840727
 Status : Answered
 Chosen Option : 3

Q.15 Select the option that expresses the given sentence in reported speech.

She said, "I did not enjoy the trip to Goa due to continuous rains."

- Ans ☒ 1. She said that she had not enjoyed the trip to Goa due to continuous rains.
- ☐ 2. She said that she did not enjoy the trip to Goa due to continuous rains.
- ☐ 3. She said that I did not enjoy the trip to Goa due to continuous rains.
- ☐ 4. She said that I had not enjoyed the trip to Goa due to continuous rains.

Question ID : 65497840723

Status : Answered

Chosen Option : 1

Comprehension:

Read the given passage and answer the questions that follow.

Agriculture during this modern era is highly susceptible to climate change, land degradation and shrinkage of resources. In this context, the incorporation of sustainable development and technology advancement in agriculture is a necessity. One of the technological advancements in modern agriculture during recent times is drone technology. Drones or unmanned aerial vehicles (UAVs) are remotely controlled air crafts with no human pilot on board. Use of drone technology in agriculture is having a revolutionary impact. Generally, drones consist of a navigation system, GPS, multiple sensors, high quality cameras etc. They enable evidence-based planning and spatial data collection. Major applications of drones in agriculture include: (a) Soil and field analysis: Potential soil quality, nutrient status, soil moisture status can be mapped by obtaining 3D images of field soil. This enables understanding of the heterogeneity of fields, planting patterns to follow and soil management strategies. (b) Crop spraying or spot spraying: This is the most important application of drones. The plant protection spraying is generally done manually or mechanically. The drone facilitated sprays are comparatively cheaper and more effective than the aforementioned methods. It is the best method for spraying operations over a large area especially when handling hazardous chemicals. It is reported that by using drones there was a reduction in herbicide use by 52% in soybean fields.

(c) Crop mapping and surveying: Near infrared (NIR) equipped drones can assess plant health. The overall mapping of field helps to understand how well the crop is established in various parts of the field. It can also tell at what stage the crop is. The GPS equipped drones can be a part of precision agriculture. (d) Irrigation monitoring and management: The thermal sensor facility in drones helps to track moisture status of the field. Real-time monitoring of field moisture status helps to take immediate irrigation or drainage actions. The areas that are deficit in moisture can be identified and area specific or need-based management can be done (e) Seed planting: Some drone manufactures are in experimentation to shoot seed material into prepared soil. If it is proven experimentally, then it would be a giant leap in modern agriculture. (f) Crop management assessment: The extent and nature of damage caused by pests, diseases and weeds can be understood by analysing multispectral images captured using drones.

SubQuestion No : 16

Q.16 3D images of field soil help in knowing about:

- Ans ☒ 1. soil quality, nutrient status and soil moisture status
- ☐ 2. seeds to be planted in various parts of the field
- ☐ 3. the extent and nature of damage caused by pests, diseases and weeds
- ☐ 4. the plant health and the stage of the crop

Question ID : 65497840540

Status : Answered

Chosen Option : 1

Comprehension:

Read the given passage and answer the questions that follow.

Agriculture during this modern era is highly susceptible to climate change, land degradation and shrinkage of resources. In this context, the incorporation of sustainable development and technology advancement in agriculture is a necessity. One of the technological advancements in modern agriculture during recent times is drone technology. Drones or unmanned aerial vehicles (UAVs) are remotely controlled air crafts with no human pilot on board. Use of drone technology in agriculture is having a revolutionary impact. Generally, drones consist of a navigation system, GPS, multiple sensors, high quality cameras etc. They enable evidence-based planning and spatial data collection. Major applications of drones in agriculture include:

(a) Soil and field analysis: Potential soil quality, nutrient status, soil moisture status can be mapped by obtaining 3D images of field soil. This enables understanding of the heterogeneity of fields, planting patterns to follow and soil management strategies. (b) Crop spraying or spot spraying: This is the most important application of drones. The plant protection spraying is generally done manually or mechanically. The drone facilitated sprays are comparatively cheaper and more effective than the aforementioned methods. It is the best method for spraying operations over a large area especially when handling hazardous chemicals. It is reported that by using drones there was a reduction in herbicide use by 52% in soybean fields.

(c) Crop mapping and surveying: Near infrared (NIR) equipped drones can assess plant health. The overall mapping of field helps to understand how well the crop is established in various parts of the field. It can also tell at what stage the crop is. The GPS equipped drones can be a part of precision agriculture. (d) Irrigation monitoring and management: The thermal sensor facility in drones helps to track moisture status of the field. Real-time monitoring of field moisture status helps to take immediate irrigation or drainage actions. The areas that are deficit in moisture can be identified and area specific or need-based management can be done (e) Seed planting: Some drone manufactures are in experimentation to shoot seed material into prepared soil. If it is proven experimentally, then it would be a giant leap in modern agriculture. (f) Crop management assessment: The extent and nature of damage caused by pests, diseases and weeds can be understood by analysing multispectral images captured using drones.

SubQuestion No : 17

Q.17 What kind of a passage is this?

Ans ☒ 1. Discursive

☒ 2. Literary

☒ 3. Informative

☒ 4. Narrative

Question ID : **65497840538**

Status : **Marked For Review**

Chosen Option : **3**

Comprehension:

Read the given passage and answer the questions that follow.

Agriculture during this modern era is highly susceptible to climate change, land degradation and shrinkage of resources. In this context, the incorporation of sustainable development and technology advancement in agriculture is a necessity. One of the technological advancements in modern agriculture during recent times is drone technology. Drones or unmanned aerial vehicles (UAVs) are remotely controlled air crafts with no human pilot on board. Use of drone technology in agriculture is having a revolutionary impact. Generally, drones consist of a navigation system, GPS, multiple sensors, high quality cameras etc. They enable evidence-based planning and spatial data collection. Major applications of drones in agriculture include:

(a) Soil and field analysis: Potential soil quality, nutrient status, soil moisture status can be mapped by obtaining 3D images of field soil. This enables understanding of the heterogeneity of fields, planting patterns to follow and soil management strategies. (b) Crop spraying or spot spraying: This is the most important application of drones. The plant protection spraying is generally done manually or mechanically. The drone facilitated sprays are comparatively cheaper and more effective than the aforementioned methods. It is the best method for spraying operations over a large area especially when handling hazardous chemicals. It is reported that by using drones there was a reduction in herbicide use by 52% in soybean fields.

(c) Crop mapping and surveying: Near infrared (NIR) equipped drones can assess plant health. The overall mapping of field helps to understand how well the crop is established in various parts of the field. It can also tell at what stage the crop is. The GPS equipped drones can be a part of precision agriculture. (d) Irrigation monitoring and management: The thermal sensor facility in drones helps to track moisture status of the field. Real-time monitoring of field moisture status helps to take immediate irrigation or drainage actions. The areas that are deficit in moisture can be identified and area specific or need-based management can be done (e) Seed planting: Some drone manufactures are in experimentation to shoot seed material into prepared soil. If it is proven experimentally, then it would be a giant leap in modern agriculture. (f) Crop management assessment: The extent and nature of damage caused by pests, diseases and weeds can be understood by analysing multispectral images captured using drones.

SubQuestion No : 18

Q.18 The drones used for assessing the health of plants need to be:

Ans

- ☒ 1. near infrared equipped
- ☐ 2. equipped with 3D cameras
- ☐ 3. equipped with spraying facility
- ☐ 4. GPS equipped

Question ID : **65497840541**

Status : **Answered**

Chosen Option : **4**

Comprehension:

Read the given passage and answer the questions that follow.

Agriculture during this modern era is highly susceptible to climate change, land degradation and shrinkage of resources. In this context, the incorporation of sustainable development and technology advancement in agriculture is a necessity. One of the technological advancements in modern agriculture during recent times is drone technology. Drones or unmanned aerial vehicles (UAVs) are remotely controlled air crafts with no human pilot on board. Use of drone technology in agriculture is having a revolutionary impact. Generally, drones consist of a navigation system, GPS, multiple sensors, high quality cameras etc. They enable evidence-based planning and spatial data collection. Major applications of drones in agriculture include:

(a) Soil and field analysis: Potential soil quality, nutrient status, soil moisture status can be mapped by obtaining 3D images of field soil. This enables understanding of the heterogeneity of fields, planting patterns to follow and soil management strategies. (b) Crop spraying or spot spraying: This is the most important application of drones. The plant protection spraying is generally done manually or mechanically. The drone facilitated sprays are comparatively cheaper and more effective than the aforementioned methods. It is the best method for spraying operations over a large area especially when handling hazardous chemicals. It is reported that by using drones there was a reduction in herbicide use by 52% in soybean fields.

(c) Crop mapping and surveying: Near infrared (NIR) equipped drones can assess plant health. The overall mapping of field helps to understand how well the crop is established in various parts of the field. It can also tell at what stage the crop is. The GPS equipped drones can be a part of precision agriculture. (d) Irrigation monitoring and management: The thermal sensor facility in drones helps to track moisture status of the field. Real-time monitoring of field moisture status helps to take immediate irrigation or drainage actions. The areas that are deficit in moisture can be identified and area specific or need-based management can be done (e) Seed planting: Some drone manufactures are in experimentation to shoot seed material into prepared soil. If it is proven experimentally, then it would be a giant leap in modern agriculture. (f) Crop management assessment: The extent and nature of damage caused by pests, diseases and weeds can be understood by analysing multispectral images captured using drones.

SubQuestion No : 19

Q.19 Field analysis and knowing about the soil is very important in agriculture for all the following reasons EXCEPT:

- Ans ☒ 1. deciding about immediate irrigation or drainage actions
- ☒ 2. undertaking spraying of herbicides over a large area
- ☒ 3. understanding the heterogeneity of fields
- ☒ 4. planning planting patterns to follow

Question ID : 65497840542

Status : Marked For Review

Chosen Option : 3

Comprehension:

Read the given passage and answer the questions that follow.

Agriculture during this modern era is highly susceptible to climate change, land degradation and shrinkage of resources. In this context, the incorporation of sustainable development and technology advancement in agriculture is a necessity. One of the technological advancements in modern agriculture during recent times is drone technology. Drones or unmanned aerial vehicles (UAVs) are remotely controlled air crafts with no human pilot on board. Use of drone technology in agriculture is having a revolutionary impact. Generally, drones consist of a navigation system, GPS, multiple sensors, high quality cameras etc. They enable evidence-based planning and spatial data collection. Major applications of drones in agriculture include:

(a) Soil and field analysis: Potential soil quality, nutrient status, soil moisture status can be mapped by obtaining 3D images of field soil. This enables understanding of the heterogeneity of fields, planting patterns to follow and soil management strategies. (b) Crop spraying or spot spraying: This is the most important application of drones. The plant protection spraying is generally done manually or mechanically. The drone facilitated sprays are comparatively cheaper and more effective than the aforementioned methods. It is the best method for spraying operations over a large area especially when handling hazardous chemicals. It is reported that by using drones there was a reduction in herbicide use by 52% in soybean fields.

(c) Crop mapping and surveying: Near infrared (NIR) equipped drones can assess plant health. The overall mapping of field helps to understand how well the crop is established in various parts of the field. It can also tell at what stage the crop is. The GPS equipped drones can be a part of precision agriculture. (d) Irrigation monitoring and management: The thermal sensor facility in drones helps to track moisture status of the field. Real-time monitoring of field moisture status helps to take immediate irrigation or drainage actions. The areas that are deficit in moisture can be identified and area specific or need-based management can be done (e) Seed planting: Some drone manufactures are in experimentation to shoot seed material into prepared soil. If it is proven experimentally, then it would be a giant leap in modern agriculture. (f) Crop management assessment: The extent and nature of damage caused by pests, diseases and weeds can be understood by analysing multispectral images captured using drones.

SubQuestion No : 20

Q.20 The passage mainly talks about:

- Ans ☐ 1. sustainable development in agriculture
☐ 2. different types of drones
☒ 3. the application of drones in agriculture
☐ 4. the equipment used in drones

Question ID : 65497840539

Status : Answered

Chosen Option : 3

Comprehension:

In the following passage, some words have been deleted. Read the passage carefully and select the most appropriate option to fill in each blank.

During my first year of teaching, I was quite (1) _____ to find that the school principal, supervisor and teachers (2) _____ to be unaware of their professional responsibilities and (3) _____ in executing their duties. For example, my principal's main (4) _____ were that all window shades be at the same (5) _____, the classrooms be quiet and the rose beds should not be stepped upon.

SubQuestion No : 21

Q.21 Select the most appropriate option to fill in blank no. 1.

- Ans ☐ 1. content
☐ 2. calm
☐ 3. keen
☒ 4. upset

Question ID : 65497840736

Status : Answered

Chosen Option : 4

Comprehension:

In the following passage, some words have been deleted. Read the passage carefully and select the most appropriate option to fill in each blank.

During my first year of teaching, I was quite (1) _____ to find that the school principal, supervisor and teachers (2) _____ to be unaware of their professional responsibilities and (3) _____ in executing their duties. For example, my principal's main (4) _____ were that all window shades be at the same (5) _____, the classrooms be quiet and the rose beds should not be stepped upon.

SubQuestion No : 22

Q.22 Select the most appropriate option to fill in blank no. 2.

- Ans ☒ 1. appear
☒ 2. have appeared
☒ 3. appeared
☒ 4. appearing

Question ID : 65497840737

Status : Answered

Chosen Option : 3

Comprehension:

In the following passage, some words have been deleted. Read the passage carefully and select the most appropriate option to fill in each blank.

During my first year of teaching, I was quite (1) _____ to find that the school principal, supervisor and teachers (2) _____ to be unaware of their professional responsibilities and (3) _____ in executing their duties. For example, my principal's main (4) _____ were that all window shades be at the same (5) _____, the classrooms be quiet and the rose beds should not be stepped upon.

SubQuestion No : 23

Q.23 Select the most appropriate option to fill in blank no. 3.

- Ans ☒ 1. incompetent
☒ 2. incorrigible
☒ 3. incredible
☒ 4. inconvenient

Question ID : 65497840738

Status : Marked For Review

Chosen Option : 4

Comprehension:

In the following passage, some words have been deleted. Read the passage carefully and select the most appropriate option to fill in each blank.

During my first year of teaching, I was quite (1) _____ to find that the school principal, supervisor and teachers (2) _____ to be unaware of their professional responsibilities and (3) _____ in executing their duties. For example, my principal's main (4) _____ were that all window shades be at the same (5) _____, the classrooms be quiet and the rose beds should not be stepped upon.

SubQuestion No : 24

Q.24 Select the most appropriate option to fill in blank no. 4.

- Ans ☒ 1. benefits
☒ 2. options
☒ 3. choices
☒ 4. concerns

Question ID : 65497840739

Status : Answered

Chosen Option : 4

Comprehension:

In the following passage, some words have been deleted. Read the passage carefully and select the most appropriate option to fill in each blank.

During my first year of teaching, I was quite (1) _____ to find that the school principal, supervisor and teachers (2) _____ to be unaware of their professional responsibilities and (3) _____ in executing their duties. For example, my principal's main (4) _____ were that all window shades be at the same (5) _____, the classrooms be quiet and the rose beds should not be stepped upon.

SubQuestion No : 25

Q.25 Select the most appropriate option to fill in blank no. 5.

- Ans ☒ 1. layer
☒ 2. level
☒ 3. stage
☒ 4. grade

Question ID : 65497840740

Status : **Marked For Review**

Chosen Option : 1

Section : Quantitative Aptitude

Q.1 5 वस्तुओं का विक्रय मूल्य, क्रय मूल्य के 6 गुना के बराबर है। हानि/लाभ प्रतिशत क्या है?

- Ans ☒ 1. 18% का लाभ
☒ 2. 15% की हानि
☒ 3. 25% की हानि
☒ 4. 20% का लाभ

Question ID : 65497840652

Status : **Answered**

Chosen Option : 4

Q.2 निम्नांकित तालिका का अध्ययन करें और उसके बाद दिए गए प्रश्न का उत्तर दें। तालिका 2015 से 2019 तक कंपनियों A और B की आय और व्यय (₹ करोड़ में) को दर्शाती है।

वर्ष	कंपनी A		कंपनी B	
	आय	व्यय	आय	व्यय
2015	110	90	160	120
2016	150	125	180	125
2017	200	140	225	140
2018	240	175	320	275
2019	300	220	360	300

2015 से 2019 तक कंपनी B के कुल व्यय का 40%, 2015 से 2018 तक कंपनी A की कुल आय के 65% से कितने प्रतिशत कम है? (दशमलव के एक अंक तक सही)

- Ans ☒ 1. 14.7%
☒ 2. 15.6%
☒ 3. 13.5%
☒ 4. 18.5%

Question ID : 65497840771

Status : **Answered**

Chosen Option : 2

Q.3 एक कक्षा में लड़कों की संख्या का लड़कियों की संख्या से अनुपात 4 : 5 है। सभी लड़कों और लड़कियों के गणित में औसत प्राप्तांक 70 है। यदि लड़कियों के औसत प्राप्तांक लड़कों की तुलना में 30% अधिक है, तो लड़कों के औसत प्राप्तांक क्या है?

- Ans
- ✓ 1. 60
 - ✗ 2. 54
 - ✗ 3. 68
 - ✗ 4. 64

Question ID : 65497840750
Status : Answered
Chosen Option : 1

Q.4 यदि 7 अंकों की संख्या $612x97y$, 72 से विभाज्य है, और 6 अंकों की संख्या $34z178$, 11 से विभाज्य है, तो $(x - 2y + 3z)$ का मान है:

- Ans
- ✓ 1. 2
 - ✗ 2. 6
 - ✗ 3. 7
 - ✗ 4. 5

Question ID : 65497840544
Status : Answered
Chosen Option : 4

Q.5 ₹2,485 की धन-राशि को A, B और C के बीच इस प्रकार विभाजित किया जाता है कि A और B के हिस्सों का अनुपात 8 : 5 है तथा C और A के हिस्सों का अनुपात 4 : 3 है। B का हिस्सा (₹ में) कितना है?

- Ans
- ✗ 1. 1,120
 - ✓ 2. 525
 - ✗ 3. 630
 - ✗ 4. 840

Question ID : 65497840756
Status : Answered
Chosen Option : 2

Q.6 एक निश्चित धनराशि ₹P पर $r\%$ प्रति वर्ष की दर से 3 वर्षों के लिए साधारण ब्याज ₹11,250 है, और उसी धनराशि पर 2 वर्षों के लिए समान वार्षिक दर पर चक्रवृद्धि ब्याज ₹7,650 है। क्रमशः P और r का मान क्या है?

- Ans
- ✗ 1. ₹93,750 और 5%
 - ✓ 2. ₹93,750 और 4%
 - ✗ 3. ₹92,500 और 7%
 - ✗ 4. ₹92,500 और 6%

Question ID : 65497840554
Status : Answered
Chosen Option : 2

Q.7 एक समकोण त्रिभुज में, यदि कर्ण 101 cm है और इसकी एक भुजा 20 cm के बराबर है, तो इसका क्षेत्रफल (cm^2 में) क्या है?

- Ans
- ☒ 1. 1010
 - ☒ 2. 990
 - ☐ 3. 1980
 - ☐ 4. 2020

Question ID : 65497840663
Status : Answered
Chosen Option : 2

Q.8 एक वस्तु पर उसके क्रय मूल्य से ₹224 अधिक अंकित है। इसे इसके अंकित मूल्य पर 15% की छूट देकर 20% के लाभ पर बेचा गया। वस्तु का विक्रय मूल्य (₹ में) क्या है?

- Ans
- ☐ 1. 625.75
 - ☐ 2. 672.30
 - ☒ 3. 652.80
 - ☐ 4. 615.45

Question ID : 65497840649
Status : Answered
Chosen Option : 3

Q.9 एक समचतुर्भुज के आकार के मैदान का परिमाप 800 m है और इसका एक विकर्ण 240 m है। मैदान का क्षेत्रफल (m^2 में) क्या होगा?

- Ans
- ☐ 1. 28,800
 - ☐ 2. 57,600
 - ☒ 3. 38,400
 - ☐ 4. 19,200

Question ID : 65497840761
Status : Answered
Chosen Option : 3

Q.10 एक ट्रेन दो स्टेशनों P और Q के बीच यात्रा करने में 1 h 20 min का समय लेती है। यदि यह अपनी सामान्य चाल के $\frac{2}{7}$ की चाल से यात्रा करती है, तो P और Q के बीच यात्रा करने में इसे कितना समय लगेगा?

- Ans
- ☒ 1. 4 h 40 min
 - ☐ 2. 3 h 30 min
 - ☐ 3. 5 h 20 min
 - ☐ 4. 4 h 10 min

Question ID : 65497840658
Status : Answered
Chosen Option : 1

Q.11 यदि $7 \cos^2 \theta + 5 \sin^2 \theta - 6 = 0, (0^\circ < \theta < 90^\circ)$ है, तो $\sqrt{\frac{\operatorname{cosec} \theta + \cot \theta}{\operatorname{cosec} \theta - \cot \theta}}$ का मान क्या है?

- Ans
- ☒ 1. $2\sqrt{2} - 3$
 - ☒ 2. $\sqrt{2} + 1$
 - ☐ 3. $\sqrt{2} + 3$
 - ☐ 4. $2\sqrt{2} + 1$

Question ID : 65497840563
Status : Answered
Chosen Option : 2

Q.12 एक महिला श्रमिक की मजदूरी दर में प्रति घंटे $12\frac{1}{2}\%$ की वृद्धि होती है लेकिन प्रति सप्ताह काम किए गए घंटों की संख्या में 10% की गिरावट होती है। यदि 40 घंटे के एक सप्ताह के लिए उसकी मूल साप्ताहिक मजदूरी ₹38,400 है, तो उसके कुल साप्ताहिक वेतन में प्रतिशत वृद्धि है:

- Ans
- ☒ 1. 1.25%
 - ☐ 2. 1.5%
 - ☐ 3. 2%
 - ☐ 4. 2.25%

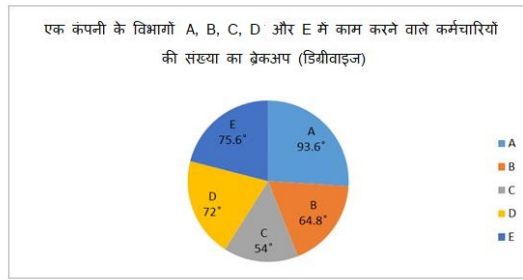
Question ID : 65497840548
Status : Answered
Chosen Option : 1

Q.13 $\triangle ABC$ में, B पर समकोणित, यदि $\cot C = 3$ है, तो $\frac{\cos C(\sin C + \sin A)}{\sin A(\cos C - \cos A)}$ का मान इनमें से किसके बराबर होगा?

- Ans
- ☐ 1. 3
 - ☒ 2. 2
 - ☐ 3. 1
 - ☐ 4. $\frac{1}{2}$

Question ID : 65497840768
Status : Answered
Chosen Option : 3

Q.14 दिए गए ग्राफ का अध्ययन करें और नीचे दिए गए प्रश्न का उत्तर दें।



विभाग B में कर्मचारियों की संख्या = 432

कार्यालय A और E में कार्यरत कर्मचारियों की कुल संख्या, कार्यालय B और C में कार्यरत कर्मचारियों की कुल संख्या से कितने प्रतिशत अधिक है?

Ans

✗ 1. $40\frac{14}{33}\%$

✗ 2. $41\frac{14}{33}\%$

✓ 3. $42\frac{14}{33}\%$

✗ 4. $45\frac{14}{33}\%$

Question ID : 65497840566

Status : Answered

Chosen Option : 3

Q.15 यदि $(x + y)^3 + 27(x - y)^3 = (Ax - 2y)(Bx^2 + Cxy + 13y^2)$ है, तो $(2A + B + C)$ का मान है:

Ans

✗ 1. 2

✗ 2. -2

✓ 3. -1

✗ 4. 1

Question ID : 65497840661

Status : Answered

Chosen Option : 3

Q.16 अनूप ने कुछ कलम ₹9,500 में खरीदे। उसने 40% कलमों को 12% की हानि पर और शेष कलमों के एक-तिहाई को 25% के लाभ पर बेचा। पूरे सौदे में 10% का लाभ अर्जित करने के लिए उसे शेष कलमों को कितने प्रतिशत लाभ पर बेचना चाहिए?

Ans

✗ 1. 25.8%

✓ 2. 24.5%

✗ 3. 20%

✗ 4. 24%

Question ID : 65497840755

Status : Answered

Chosen Option : 2

Q.17 यदि $\sqrt{x} - \frac{1}{\sqrt{x}} = \sqrt{14}$ है, तो $\sqrt{x^2 + \frac{1}{x^2}}$ का मान है (दशमलव के बाद एक स्थान तक सही):

- Ans
- ☒ 1. 14.7
 - ☒ 2. 17.8
 - ☒ 3. 16.6
 - ☒ 4. 15.9

Question ID : 65497840560

Status : Answered

Chosen Option : 4

Q.18 यदि $16x^2 + y^2 = \frac{65}{36}$ और $xy = \frac{1}{18}, x, y > 0$ है, तो $(64x^3 + y^3)$ का मान क्या होगा?

- Ans
- ☒ 1. $\frac{19}{8}$
 - ☒ 2. $\frac{27}{4}$
 - ☒ 3. $\frac{27}{8}$
 - ☒ 4. $\frac{19}{4}$

Question ID : 65497840762

Status : Answered

Chosen Option : 1

Q.19 जब चावल की कीमत में 25% की वृद्धि होती है, तो एक व्यक्ति चावल पर अपने व्यय में केवल 15% की वृद्धि करता है। खर्च के समान स्तर को बनाए रखने में सक्षम होने के लिए उसे चावल की खपत में कितने प्रतिशत की कमी करनी चाहिए?

- Ans
- ☒ 1. 8%
 - ☒ 2. 7%
 - ☒ 3. 5%
 - ☒ 4. 9%

Question ID : 65497840651

Status : Answered

Chosen Option : 1

Q.20 एक कक्षा में लड़कों की संख्या और लड़कियों की संख्या का अनुपात 4 : 15 है। लड़कों की औसत ऊंचाई 161.2 cm है और सभी छात्रों की औसत ऊंचाई 154.5 cm है। लड़कियों की औसत ऊंचाई (cm में) क्या है? (दशमलव के बाद एक स्थान तक सही)

- Ans
- ☒ 1. 147.5
 - ☒ 2. 158.2
 - ☒ 3. 156.8
 - ☒ 4. 152.7

Question ID : 65497840545

Status : Answered

Chosen Option : 4

Q.21 8 वर्ष पूर्व A और B की आयु का अनुपात 5 : 7 था। अब से 8 वर्ष बाद उनकी आयु का अनुपात 9 : 11 होगा। यदि C की वर्तमान आयु B की आयु से 13 वर्ष कम है, और D की वर्तमान आयु A की आयु से 8 वर्ष कम है, तो C और D की वर्तमान आयु का योग, वर्षों में है:

Ans ☒ 1. 43

☒ 2. 47

☒ 3. 55

☒ 4. 53

Question ID : 65497840553

Status : Answered

Chosen Option : 1

Q.22 पाइप A और B एक टंकी को क्रमशः 18 h और 24 h में भर सकते हैं, जबकि पाइप C अकेले पूरी भरी हुई टंकी को 30 h में खाली कर सकता है। पाइप A और B को एक साथ 6 h के लिए खोला जाता है और फिर A को बंद कर दिया जाता है और तुरंत C को (B के साथ) खोल दिया जाता है। पाइप A को बंद करने के बाद अब B और C मिलकर टंकी को पूरी तरह भरने में कितना समय (h में) लेंगे?

Ans ☒ 1. 48

☒ 2. 45

☒ 3. 42

☒ 4. 50

Question ID : 65497840759

Status : Answered

Chosen Option : 4

Q.23 $\triangle ABC$ में, D और E क्रमशः AB और AC भुजाओं पर बिंदु के रूप में इस प्रकार हैं कि $DE \parallel BC$ है। यदि $AD = x$, $DB = x - 2$, $AE = x + 2$, और $EC = x - 1$ है, तो $(AB+EC)$ किसके बराबर है? (सभी माप cm में हैं)

Ans ☒ 1. 10

☒ 2. 9

☒ 3. 8

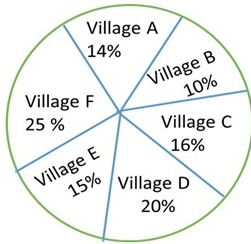
☒ 4. 12

Question ID : 65497840562

Status : Answered

Chosen Option : 2

Q.24 दिए गए पाई चार्ट का अध्ययन करें जो 2020 में छह गांवों A, B, C, D, E और F की प्रतिशत आबादी को दर्शाता है, और नीचे दिए गए प्रश्न का उत्तर दें।



गाँव (Village)	गरीबी रेखा से नीचे की जनसंख्या का प्रतिशत
A	30
B	45
C	55
D	60
E	58
F	40

गांवों D और F की प्रतिशत आबादी को दर्शाने वाले खंडों (सेक्टरों) के केंद्रीय कोणों के बीच का अंतर है:

- Ans
- ☒ 1. 15°
 - ☒ 2. 18°
 - ☒ 3. 22°
 - ☒ 4. 25°

Question ID : 65497840667

Status : Answered

Chosen Option : 2

Q.25 यदि 6 अंकों की संख्या $57zxy8$ 7, 11 और 13 में से प्रत्येक से विभाज्य है, तो $(x - 2y + z)$ का मान है:

- Ans
- ☒ 1. 1
 - ☒ 2. 2
 - ☒ 3. -2
 - ☒ 4. -1

Question ID : 65497840645

Status : Answered

Chosen Option : 4

Section : General awareness

Q.1 2020-21 के केंद्रीय बजट में घोषित निर्विक (निर्यात ऋण विकास योजना) योजना निर्यात ऋण के किस घटक से संबंधित है?

- Ans
- ☒ 1. छूट (सब्सिडी)
 - ☒ 2. संपार्श्विक (कोलेटरल)
 - ☒ 3. बीमा (इश्योरेंस)
 - ☒ 4. ब्याज दर (रेट ऑफ इंटरेस्ट)

Question ID : 65497840673

Status : Marked For Review

Chosen Option : 4

Q.2 औरंगाबाद शहर के पास औरंगजेब की पत्नी राबिया-उल-दौरानी की कब्रगाह, बीबी का मकबरा निम्नलिखित में से किस स्मारक की अनुकृति है?

- Ans ☒ 1. दिल्ली के जामा मस्जिद
☒ 2. आगरा के ताजमहल
☒ 3. नई दिल्ली के सफ़दरजंग का मकबरा
☒ 4. नई दिल्ली के हुमायूँ का मकबरा

Question ID : 65497840672

Status : Marked For Review

Chosen Option : 1

Q.3 एस्कारियासिस एक बीमारी है, जो _____ के कारण होती है। यह मनुष्यों के लिए रोगजनक है।

- Ans ☒ 1. दद्रु (रिंगवर्म)
☒ 2. सामान्य गोलकृमि
☒ 3. वुचेरिया (फाइलेरिया कृमि)
☒ 4. एककोशीय प्रजीव (प्रोटोजोआ)

Question ID : 65497840577

Status : Marked For Review

Chosen Option : 1

Q.4 2011 की भारत की जनगणना के अनुसार, भारत में हिंदी के बाद सबसे अधिक लोगों द्वारा कौन सी भाषा बोली जाती है?

- Ans ☒ 1. मराठी
☒ 2. बंगाली
☒ 3. उर्दू
☒ 4. तमिल

Question ID : 65497840580

Status : Answered

Chosen Option : 1

Q.5 अफ्रीम पोस्ता की खेती और अफ्रीम के निर्माण को विनियमित करने के लिए निम्नलिखित में से किस वर्ष अफ्रीम अधिनियम लागू हुआ था?

- Ans ☒ 1. 1901
☒ 2. 1920
☒ 3. 1857
☒ 4. 1899

Question ID : 65497840783

Status : Marked For Review

Chosen Option : 3

Q.6 भारत में औपनिवेशिक शासन के दौरान, कौन सा पहाड़ी इलाका (हिल स्टेशन) भारतीय सेना के कमांडर-इन-चीफ का आधिकारिक निवास था?

- Ans ☒ 1. मसूरी
☒ 2. माउंट आबू
☒ 3. दार्जिलिंग
☒ 4. शिमला

Question ID : 65497840686

Status : Marked For Review

Chosen Option : 3

Q.7 'नाट्य शास्त्र', एक संस्कृत हिंदू ग्रंथ है, जो प्रदर्शन कलाओं से संबंधित है। यह भारतीय शास्त्रीय नृत्यों की कई भाव-भंगिमा को समझाता है। इसके अनुसार मोहिनीअट्टम निम्नलिखित में से कौन सा नृत्य-रूप है?

- Ans
- ☒ 1. भाव
 - ☒ 2. तांडव
 - ☒ 3. लास्य
 - ☒ 4. रास

Question ID : 65497840568
Status : Marked For Review
Chosen Option : 1

Q.8 भारत ने 5 फरवरी 2022 को एंटीगुआ के सर विवियन रिचर्ड्स स्टेडियम में आई.सी.सी. अंडर-19 (ICC U-19) विश्व कप फाइनल में निम्नलिखित में से किस देश को हराया?

- Ans
- ☒ 1. पाकिस्तान
 - ☒ 2. दक्षिण अफ्रीका
 - ☒ 3. ऑस्ट्रेलिया
 - ☒ 4. इंग्लैंड

Question ID : 65497840592
Status : Marked For Review
Chosen Option : 1

Q.9 भारतीय संविधान की चौथी अनुसूची निम्नलिखित में से किससे संबंधित है?

- Ans
- ☒ 1. राज्य विधान सभा में सीटों के आवंटन
 - ☒ 2. लोक सभा में सीटों के आवंटन
 - ☒ 3. राज्य विधान परिषद में सीटों के आवंटन
 - ☒ 4. राज्य सभा में सीटों के आवंटन

Question ID : 65497840693
Status : Answered
Chosen Option : 4

Q.10 जनवरी 2022 में, होंडुरास की पहली महिला राष्ट्रपति के रूप में किसने शपथ ली?

- Ans
- ☒ 1. मार्लेन अल्वारेगा (Marlene Alvarenga)
 - ☒ 2. कार्ला क्यूवास (Karla Cuevas)
 - ☒ 3. मारिया डोलोरेस अगुएरो (María Dolores Agüero)
 - ☒ 4. शियोमारा कास्तो (Xiomara Castro)

Question ID : 65497840689
Status : Not Attempted and Marked For Review
Chosen Option : --

Q.11 निम्नलिखित में से किसे सार्वजनिक मामलों की श्रेणी के अंतर्गत वर्ष 2022 के पद्म विभूषण पुरस्कार से सम्मानित किया गया?

- Ans
- ☒ 1. कल्याण सिंह
 - ☒ 2. बिपिन रावत
 - ☒ 3. नटराजन चंद्रशेखरन
 - ☒ 4. गुलाम नबी आज़ादी

Question ID : 65497840588
Status : Answered
Chosen Option : 1

Q.12 मीटर-किलोग्राम-सेकंड प्रणाली में विद्युत् प्रतिरोध की इकाई को _____ कहा जाता है।

- Ans
- ☒ 1. वोल्ट
 - ☒ 2. वॉट
 - ☒ 3. ओम
 - ☒ 4. ऐम्पियर

Question ID : 65497840778

Status : Answered

Chosen Option : 3

Q.13 स्वतंत्रता आंदोलन के दौरान, भारतीय राष्ट्रीय कांग्रेस ने कब भारत के लिए अलग संविधान के निर्माण हेतु संविधान सभा की मांग की थी?

- Ans
- ☒ 1. 1934
 - ☒ 2. 1932
 - ☒ 3. 1933
 - ☒ 4. 1931

Question ID : 65497840590

Status : Answered

Chosen Option : 1

Q.14 भारत में महात्मा गांधी की पहली महत्वपूर्ण सार्वजनिक उपस्थिति किस वर्ष हुई थी?

- Ans
- ☒ 1. 1918
 - ☒ 2. 1917
 - ☒ 3. 1916
 - ☒ 4. 1915

Question ID : 65497840585

Status : Marked For Review

Chosen Option : 4

Q.15 गंगा का निर्माण करने के लिए दो पवित्र नदियों अलकनंदा और भागीरथी के संगम को _____ के नाम से जाना जाता है।

- Ans
- ☒ 1. देवदृष्टि
 - ☒ 2. देवमुकुट
 - ☒ 3. देवकुमुद
 - ☒ 4. देवप्रयाग

Question ID : 65497840782

Status : Answered

Chosen Option : 4

Q.16 निम्नलिखित विकल्पों में से कौन सा, जीव-जंतुओं के उभयचर वर्ग की विशेषता नहीं है?

- Ans
- ☒ 1. उभयचरों की आंखें बिना पलकें वाली होती हैं।
 - ☒ 2. उभयचरों की त्वचा नम (शल्कविहीन) होती है।
 - ☒ 3. उभयचर जलीय और स्थलीय आवासों में रह सकते हैं।
 - ☒ 4. उभयचरों में, मध्यकर्णगृह (टाइम्पेनम) कान को दर्शाता है।

Question ID : 65497840575

Status : Marked For Review

Chosen Option : 2

Q.17 जमीन से वायुमंडल के शीर्ष तक, वायु स्तंभ में ओजोन की मोटाई को _____ में मापा जाता है।

- Ans
- ☒ 1. करात
 - ☒ 2. कैरट
 - ☒ 3. माइक्रोमीटर
 - ☒ 4. डॉबसन यूनिट्स (DU)

Question ID : 65497840678

Status : Answered

Chosen Option : 4

Q.18 'एम्स में एक जंग लड़ते हुए' ('AIIMS Mein Ek Jung Ladte Hue') पुस्तक के लेखक कौन हैं?

- Ans
- ☒ 1. पीयूष गोयल
 - ☒ 2. निर्मला सीतारमण
 - ☒ 3. नितिन गडकरी
 - ☒ 4. रमेश पोखरियाल

Question ID : 65497840790

Status : Answered

Chosen Option : 4

Q.19 निम्नलिखित में से किस योजना का शुभारंभ बालिकाओं की समग्र स्थिति के उत्थान और परिवार और सामुदायिक दृष्टिकोणों में सकारात्मक परिवर्तन लाने के लिए किया गया था?

- Ans
- ☒ 1. बालिका समृद्धि योजना
 - ☒ 2. भारत कुमारी योजना
 - ☒ 3. बालिका विज्ञान योजना
 - ☒ 4. दुर्गा दृष्टि योजना

Question ID : 65497840776

Status : Answered

Chosen Option : 1

Q.20 सिंधु घाटी सभ्यता का निम्नलिखित में से कौन सा शहर, अधिकतर विशेष रूप से शिल्प उत्पादन के लिए समर्पित था, जिसमें मनके बनाना, खोल (शेल) कर्तन, धातु कार्य, मुहर निर्माण और भार-निर्माण शामिल थे?

- Ans
- ☒ 1. बालाकोट
 - ☒ 2. गनवेरीवाला
 - ☒ 3. अमरी
 - ☒ 4. चन्हुदड़ो

Question ID : 65497840684

Status : Marked For Review

Chosen Option : 4

Q.21 भारतीय नागरिकों की वयस्कता की आयु को परिभाषित करने वाला वयस्कता अधिनियम कब पारित किया गया था?

- Ans
- ☒ 1. 1875
 - ☒ 2. 1880
 - ☒ 3. 1902
 - ☒ 4. 1910

Question ID : 65497840793

Status : Not Answered

Chosen Option : --

Q.22 'रिपोर्टर्स विदाउट बॉर्डर्स' नामक एक गैर-लाभकारी संस्था ने 'विश्व प्रेस स्वतंत्रता सूचकांक 2021' (वर्ल्ड प्रेस फ्रीडम इंडेक्स) प्रकाशित किया, जिसमें 180 देशों को स्थान दिया गया। इस सूचकांक में भारत का कौन सा स्थान है?

- Ans ☒ 1. 142
☒ 2. 79
☒ 3. 87
☒ 4. 164

Question ID : 65497840573
 Status : Answered
 Chosen Option : 1

Q.23 दिसंबर 2021 तक की प्राप्त जानकारी के अनुसार, निम्नलिखित में से कौन सा देश बांग्लादेश का दूसरा सबसे बड़ा व्यापार भागीदार है?

- Ans ☒ 1. म्यांमार
☒ 2. श्रीलंका
☒ 3. भारत
☒ 4. पाकिस्तान

Question ID : 65497840683
 Status : Answered
 Chosen Option : 3

Q.24 निम्नलिखित में से किस राजवंश ने थानेश्वर से शासन किया था?

- Ans ☒ 1. पुष्यभूति
☒ 2. मौर्य
☒ 3. सातवाहन
☒ 4. राष्ट्रकूट

Question ID : 65497840787
 Status : Answered
 Chosen Option : 1

Q.25 कारगिल विजय दिवस प्रतिवर्ष _____ को मनाया जाता है।

- Ans ☒ 1. 26 जुलाई
☒ 2. 6 दिसंबर
☒ 3. 7 मई
☒ 4. 24 अगस्त

Question ID : 65497840773
 Status : Answered
 Chosen Option : 2

Selection Post Phase IX 2021 Graduate level

Roll Number	examstocks.com
Candidate Name	examstocks.com
Venue Name	iON Digital Zone iDZ Azad Puram
Exam Date	15/03/2022
Exam Time	3:00 PM - 4:00 PM
Subject	Selection Post Graduate Level

Section : General Intelligence

Q.1 'X % Y' का अर्थ है कि 'X, Y का पुत्र है';
 'X ∨ Y' का अर्थ है कि 'X, Y की पत्नी है';
 'X ∩ Y' का अर्थ है कि 'X, Y का भाई है';
 'X ∪ Y' का अर्थ है कि 'X, Y की माँ है';
 'X ≠ Y' का अर्थ है कि 'X, Y की बहन है'।
 दिए गए समीकरण में संबंधों के आधार पर निम्नलिखित विकल्पों में से कौन सा संबंध सत्य है?
 K ∪ L ∩ N ∨ M % S ∨ T

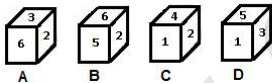
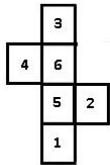
- Ans
- ✗ 1. L, M का भाई है।
 - ✗ 2. K, T की पत्नी है।
 - ✓ 3. M, K का दामाद है।
 - ✗ 4. T, N के पिता हैं।

Question ID : 65497840506

Status : Answered

Chosen Option : 3

Q.2 उस/उन बक्से (बक्सों) का चयन करें जो दिए गए पत्रक (शीट) को रेखाओं पर मोड़कर बनाया/ए जा सकता/ते है/हैं (संख्याएँ फलकों को इंगित करने के लिए दिखाई गई हैं)।



- Ans
- ✓ 1. A और B
 - ✗ 2. A और C
 - ✗ 3. केवल D
 - ✗ 4. केवल A

Question ID : 65497840615

Status : Answered

Chosen Option : 1

Q.3 दिए गए विकल्पों में से उस संख्या का चयन करें, जो निम्नलिखित श्रेणी में प्रश्नवाचक चिह्न (?) के स्थान पर आ सकती है।

14, 25, 37, 53, 96, 155, ?

- Ans
- ☒ 1. 369
 - ☒ 2. 393
 - ☒ 3. 339
 - ☒ 4. 396

Question ID : 65497840713

Status : Answered

Chosen Option : 3

Q.4 उस विकल्प का चयन करें जो तीसरे पद से उसी प्रकार संबंधित है, जिस प्रकार दूसरा पद पहले पद से संबंधित है।

AMOUNT : QWYKXJ :: MARKET :: ?

- Ans
- ☒ 1. IENOX
 - ☒ 2. EIONXA
 - ☒ 3. INEAOX
 - ☒ 4. EOIXNA

Question ID : 65497840491

Status : Marked For Review

Chosen Option : 2

Q.5 एक निश्चित कूट भाषा में, 'SIGN' को '3614' के रूप में और 'RISK' को '7639' के रूप में कूटबद्ध किया जाता है। उसी कूट भाषा में 'KING' को किस रूप में कूटबद्ध किया जाएगा?

- Ans
- ☒ 1. 3461
 - ☒ 2. 9641
 - ☒ 3. 3641
 - ☒ 4. 9614

Question ID : 65497840704

Status : Answered

Chosen Option : 2

Q.6 उस सही विकल्प का चयन करें जो दिए गए शब्दों की व्यवस्था को उसी क्रम में इंगित करता है, जिस क्रम में वे अंग्रेज़ी शब्दकोश में दिखाई देते हैं।

1. Services
2. Sensational
3. Semesters
4. Systematic
5. Selections
6. Synergy

- Ans
- ☒ 1. 5, 4, 1, 3, 2, 6
 - ☒ 2. 5, 2, 3, 6, 1, 4
 - ☒ 3. 5, 3, 2, 1, 6, 4
 - ☒ 4. 5, 2, 3, 1, 6, 4

Question ID : 65497840698

Status : Answered

Chosen Option : 3

Q.7 दर्पण को PQ पर रखे जाने पर, जैसा कि दर्शाया गया है, दिए गए संयोजन की सही दर्पण छवि का चयन करें।



- Ans ☒ 1. M U Я T C Э 9 2
☒ 2. 2 Ъ E C 1 B П W
☒ 3. 2 Ъ E 1 C B П W
☒ 4. M U Я C T Э 9 2

Question ID : 65497840617

Status : Answered

Chosen Option : 1

Q.8 एक निश्चित कूट भाषा में, 'REASON' को '69' के रूप में कोडित किया जाता है, और 'CLAIMS' को '55' के रूप में कोडित किया जाता है। उसी भाषा में 'ACTION' को किस रूप में कोडित किया जाएगा?

- Ans ☒ 1. 79
☒ 2. 59
☒ 3. 69
☒ 4. 89

Question ID : 65497840502

Status : Answered

Chosen Option : 2

Q.9 दिए गए कथनों और निष्कर्षों को ध्यानपूर्वक पढ़ें। यह मानते हुए कि कथनों में दी गई जानकारी सत्य है, भले ही वह सामान्य रूप से ज्ञात तथ्यों से भिन्न प्रतीत होती हो, तय करें कि दिए गए निष्कर्षों में से कौन से निष्कर्ष कथनों का तार्किक रूप से अनुसरण करते हैं।

कथन:
 कोई टेलीविजन मोमबत्ती नहीं है।
 सभी मोमबत्तियाँ नाव हैं।

निष्कर्ष:
 I. कोई टेलीविजन नाव नहीं है।
 II. कोई नाव टेलीविजन नहीं है।
 III. कुछ नाव मोमबत्तियाँ हैं।
 IV. सभी नाव मोमबत्तियाँ हैं।

- Ans ☒ 1. निष्कर्ष I और II दोनों अनुसरण करते हैं।
☒ 2. केवल निष्कर्ष III अनुसरण करता है।
☒ 3. निष्कर्ष I और IV दोनों अनुसरण करते हैं।
☒ 4. केवल निष्कर्ष I अनुसरण करता है।

Question ID : 65497840712

Status : Answered

Chosen Option : 2

Q.10 उस विकल्प का चयन करें जो तीसरे शब्द से उसी प्रकार संबंधित है, जिस प्रकार दूसरा शब्द पहले शब्द से संबंधित है।

वंचित : पुनर्स्थापित :: विलक्षण : ?

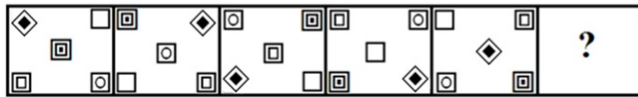
- Ans ☒ 1. परिचित
☒ 2. पारंपरिक
☒ 3. असामान्य
☒ 4. अनोखा

Question ID : 65497840700

Status : Marked For Review

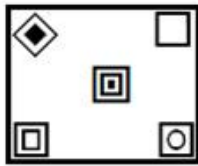
Chosen Option : 2

Q.11 दिए गए विकल्पों में से उस आकृति का चयन करें, जो निम्न आकृति-शृंखला में प्रश्न चिह्न (?) के स्थान पर आ सकती है।

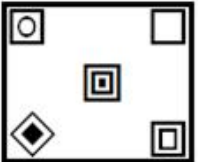


Ans

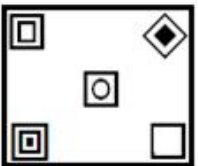
✓ 1.



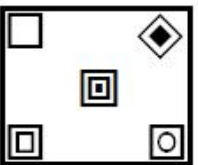
✗ 2.



✗ 3.



✗ 4.



Question ID : 65497840716

Status : Answered

Chosen Option : 1

Q.12 दिए गए कथनों और निष्कर्षों को ध्यानपूर्वक पढ़ें। यह मानते हुए कि कथनों में दी गई जानकारी सत्य है, भले ही वह सामान्य रूप से ज्ञात तथ्यों से भिन्न प्रतीत होती हो, तय करें कि दिए गए निष्कर्षों में से कौन सा/से निष्कर्ष कथनों का तार्किक रूप से अनुसरण करता/ते है/हैं।

कथन:

सभी समचतुर्भुज स्पर्शरेखाएँ हैं।

सभी जीवाएँ स्पर्शरेखाएँ हैं।

निष्कर्ष:

I. कुछ समचतुर्भुजों के जीवाएँ होने की संभावना है।

II. कुछ स्पर्शरेखाएँ समचतुर्भुज हैं।

Ans ✗ 1. केवल निष्कर्ष II अनुसरण करता है

✗ 2. न तो निष्कर्ष I और न ही निष्कर्ष II अनुसरण करता है

✓ 3. निष्कर्ष I और निष्कर्ष II, दोनों ही अनुसरण करते हैं

✗ 4. केवल निष्कर्ष I अनुसरण करता है

Question ID : 65497840507

Status : Answered

Chosen Option : 3

Q.13 उस सही विकल्प का चयन करें जो दिए गए शब्दों की व्यवस्था को उसी क्रम में इंगित करता है, जिस क्रम में वे अंग्रेज़ी शब्दकोश में दिखाई देते हैं।

1. Champion
2. Collinear
3. Charges
4. Condition
5. College

Ans ☒ 1. 1, 5, 3, 2, 4
☒ 2. 1, 3, 5, 4, 2
☒ 3. 1, 3, 5, 2, 4
☒ 4. 1, 2, 3, 4, 5

Question ID : 65497840595

Status : Answered

Chosen Option : 3

Q.14 एक निश्चित कूट भाषा में, 'MARKET' को 'DJNOWB' लिखा जाता है। उसी कूट भाषा में 'DETAIL' को क्या लिखा जाएगा?

Ans ☒ 1. HGDWOL
☒ 2. AHQDFO
☒ 3. BAXQIF
☒ 4. HADQOF

Question ID : 65497840701

Status : Answered

Chosen Option : 4

Q.15 उस विकल्प का चयन करें जो तीसरे पद से उसी प्रकार संबंधित है, जिस प्रकार दूसरा पद पहले पद से संबंधित है।

TABLE : ALBTE :: WATCH : ?

Ans ☒ 1. AHCWT
☒ 2. ATCHW
☒ 3. ACHTW
☒ 4. ACTWH

Question ID : 65497840696

Status : Answered

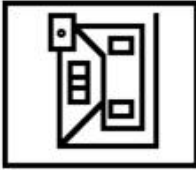
Chosen Option : 4

Q.16 उस विकल्प का चयन करें जिसमें दी गई आकृति अंतःस्थापित है (घुमाव की अनुमति नहीं है)।

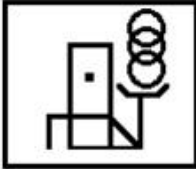


Ans

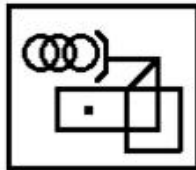
✗ 1.



✗ 2.



✓ 3.



✗ 4.



Question ID : 65497840514

Status : Answered

Chosen Option : 3

Q.17 एक निश्चित कूट भाषा में, 'LATEX' को 'OFGJC' और 'RIGHT' को 'INTSG' लिखा जाता है। उसी भाषा में 'SMILE' को क्या लिखा जाएगा?

Ans ✗ 1. HJNON

✗ 2. HNONJ

✓ 3. HNNJO

✗ 4. HNJNO

Question ID : 65497840499

Status : Marked For Review

Chosen Option : 4

Q.18 दिए गए समीकरण को संतुलित करने के लिए किन दो चिह्नों को आपस में बदला जाना चाहिए?

$$306 \div 17 + 4 - 50 \times 8 = 30$$

Ans ✗ 1. × और -

✗ 2. + और -

✓ 3. + और ×

✗ 4. ÷ और ×

Question ID : 65497840613

Status : Answered

Chosen Option : 3

Q.19 अक्षरों के उस संयोजन का चयन करें जिसे दी गई श्रृंखला के रिक्त स्थानों में क्रमिक रूप से रखने पर श्रृंखला पूरी हो जाएगी।

L_RTLP_T_PR_L_RT

- Ans ☒ 1. P, R, L, T, P
☒ 2. T, P, L, R, T
☒ 3. P, L, R, T, P
☒ 4. T, L, P, T, R

Question ID : 65497840605

Status : Answered

Chosen Option : 1

Q.20 एक निश्चित कूट भाषा में, 'MARGIN' को 'NDWEEH' और 'SERIES' को 'THWGAM' लिखा जाता है। उसी भाषा में 'LARGER' को क्या लिखा जाएगा?

- Ans ☒ 1. KXMIIX
☒ 2. KDMEIL
☒ 3. KDEMLI
☒ 4. MDWEAL

Question ID : 65497840600

Status : Not Answered

Chosen Option : --

Q.21 उस विकल्प का चयन करें जो तीसरी संख्या से उसी प्रकार संबंधित है जिस प्रकार दूसरी संख्या पहली संख्या से संबंधित है, और छठी संख्या पाँचवीं संख्या से संबंधित है।

7 : 44 :: 6 : ? :: 9 : 76

- Ans ☒ 1. 34
☒ 2. 31
☒ 3. 32
☒ 4. 33

Question ID : 65497840510

Status : Answered

Chosen Option : 2

Q.22 A is married to B, whose sister C is the daughter of D. E is the son of D and has only one sister. F is the niece of E. D has three children. C is unmarried. How is A related to F?

- Ans ☒ 1. Mother
☒ 2. Aunt
☒ 3. Grandmother
☒ 4. Father

Question ID : 65497840607

Status : Answered

Chosen Option : 4

Q.23 उस विकल्प का चयन करें जो तीसरे शब्द से उसी प्रकार संबंधित है, जिस प्रकार दूसरा शब्द पहले शब्द से संबंधित है।

सिस्मोलॉजी : भूकंप :: एन्टोमोलॉजी : ?

- Ans
- ☒ 1. अंडे
 - ☒ 2. खोल (शेल)
 - ☒ 3. कपाल
 - ☒ 4. कीट

Question ID : 65497840597

Status : Answered

Chosen Option : 4

Q.24 एक निश्चित कूट भाषा में, 'GROUP' को '415202613' के रूप में कोडित किया जाता है, और 'SOUND' को '162026111' के रूप में कोडित किया जाता है। उसी भाषा में 'FRESH' को किस रूप में कोडित किया जाएगा?

- Ans
- ☒ 1. 35110651
 - ☒ 2. 30151651
 - ☒ 3. 31051165
 - ☒ 4. 31510165

Question ID : 65497840603

Status : Answered

Chosen Option : 4

Q.25 अक्षरों के उस संयोजन का चयन करें जिसे दी गई श्रृंखला के रिक्त स्थानों में क्रमिक रूप से रखने पर श्रृंखला पूरी हो जाएगी।

P_QU_V_T_URVPTQ_R_P_QU_V

- Ans
- ☒ 1. R, T, P, Q, T, U, R, V
 - ☒ 2. P, T, Q, R, T, V, R, U
 - ☒ 3. T, P, R, Q, T, U, V, R
 - ☒ 4. T, R, P, Q, U, V, T, R

Question ID : 65497840504

Status : Answered

Chosen Option : 4

Section : English Language

Q.1 Select the option that expresses the given sentence in passive voice.

Touts cheat tourists so now they are careful.

- Ans
- ☒ 1. Tourists are cheated by touts so now they are careful.
 - ☒ 2. Tourists are being cheated by touts so now they are careful.
 - ☒ 3. Tourists were cheated by touts so now they are careful.
 - ☒ 4. Tourists is cheated by touts so now they are careful.

Question ID : 65497840619

Status : Answered

Chosen Option : 1

Q.2 Select the most appropriate option that can substitute the underlined segment in the given sentence. If there is no need to substitute it, select 'No substitution required'.

He stepped on to the encrusted snow and began to slither and slide forward, stamping his foot from time to time to ascertain how it was sturdy.

- Ans
- ☒ 1. what was sturdy
 - ☒ 2. how was it sturdy
 - ☒ 3. No substitution required
 - ☒ 4. how sturdy it was

Question ID : 65497840522
Status : Answered
Chosen Option : 4

Q.3 Select the most appropriate option to fill in the blank.

The tribals of India are _____ still a neglected lot.

- Ans
- ☒ 1. by and large
 - ☒ 2. over and above
 - ☒ 3. all in all
 - ☒ 4. by and by

Question ID : 65497840728
Status : Answered
Chosen Option : 1

Q.4 Select the option that expresses the given sentence in active voice.

A guarantee has been given by the new government to make the long-promised reforms a reality.

- Ans
- ☒ 1. The guarantee had given a new government to make the long-promised reforms a reality.
 - ☒ 2. The new government has given a guarantee to make the long-promised reforms a reality.
 - ☒ 3. The new government had given a guarantee to make the long-promised reforms a reality.
 - ☒ 4. The new government has given the long-promised reforms a reality to make a guarantee.

Question ID : 65497840518
Status : Answered
Chosen Option : 2

Q.5 Select the option that expresses the given sentence in indirect speech.

I said to her, "What brought you here?"

- Ans
- ☒ 1. I asked her what brought her there.
 - ☒ 2. I asked her that what brought her here.
 - ☒ 3. I asked her what had brought her here.
 - ☒ 4. I asked her what had brought her there.

Question ID : 65497840724
Status : Answered
Chosen Option : 4

Q.6 Select the option that expresses the given sentence in reported speech.

The lawyer said to the witness, "Tell the court what you saw on Saturday night."

- Ans ☒ 1. The lawyer asked the witness to tell the court what you have seen on Saturday night.
☒ 2. The lawyer ordered the witness to tell the court what I had seen on Saturday night.
☒ 3. The lawyer told the witness to tell the court what you saw on Saturday night.
☒ 4. The lawyer asked the witness to tell the court what he had seen on Saturday night.

Question ID : 65497840519

Status : Answered

Chosen Option : 4

Q.7 Sentences of a paragraph are given below in jumbled order. Arrange the sentences in the correct order to form a meaningful and coherent paragraph.

- A. Besides, it is also an occasion to commemorate the signing of the Ramsar Convention on wetlands in 1971.
 B. World Wetland Day is celebrated on 2 February to raise awareness about the critical importance of wetlands.
 C. Unfortunately, these valuable wetlands are disappearing three times faster than the forest areas.
 D. The Convention upholds the wetlands as the world's most economically valuable ecosystems.

- Ans ☒ 1. BADC
☒ 2. DABC
☒ 3. BCDA
☒ 4. DCAB

Question ID : 65497840627

Status : Answered

Chosen Option : 1

Q.8 Select the most appropriate synonym of the given word.

Contemptible

- Ans ☒ 1. Admirable
☒ 2. Abhorrent
☒ 3. Adamant
☒ 4. Ambiguous

Question ID : 65497840730

Status : Answered

Chosen Option : 2

Q.9 The following sentence has been split into four segments. Identify the segment that contains a grammatical error.

Parents expect / children to / comply by / their wishes.

- Ans ☒ 1. children to
☒ 2. their wishes
☒ 3. Parents expect
☒ 4. comply by

Question ID : 65497840720

Status : Answered

Chosen Option : 4

Q.10 Select the most appropriate option to fill in the blank.

The chairman apprised the members _____ the company's current financial status.

- Ans ☒ 1. of
☐ 2. off
☐ 3. with
☐ 4. to

Question ID : 65497840523
Status : Answered
Chosen Option : 1

Q.11 Select the most appropriate ANTONYM of the given word.

Diminish

- Ans ☐ 1. Curtail
☐ 2. Abate
☒ 3. Extend
☐ 4. Recede

Question ID : 65497840629
Status : Answered
Chosen Option : 3

Q.12 Select the option that will improve the underlined part of the given sentence. In case no improvement is needed, select 'No improvement required'.

If you had listened to me, you will not be in trouble now.

- Ans ☐ 1. will not have been
☐ 2. would not being
☐ 3. No improvement required
☒ 4. would not be

Question ID : 65497840725
Status : Answered
Chosen Option : 4

Q.13 Select the INCORRECTLY spelt word.

- Ans ☐ 1. Exceptional
☒ 2. Eminent
☐ 3. Entity
☐ 4. Enthusiasm

Question ID : 65497840734
Status : Answered
Chosen Option : 2

Q.14 Select the option that can be used as a one-word substitute for the given group of words.

The dark shape and outline of something visible against a bright background

- Ans ☒ 1. Mirage
☒ 2. Silhouette
☒ 3. Image
☒ 4. Shadow

Question ID : 65497840529
Status : Answered
Chosen Option : 2

Q.15 Select the most appropriate meaning of the given idiom.

Out of the blue

- Ans ☒ 1. Emerge victorious
☒ 2. Belonging to nobility
☒ 3. Carefully planned
☒ 4. Completely unexpected

Question ID : 65497840630
Status : Marked For Review
Chosen Option : 4

Comprehension:

Read the given passage and answer the questions that follow.

In the late spring of 1930, Philip Rider came to the abandoned lighthouse at the mouth of the river Adder on the Essex coast. He was a painter of birds and of nature. He was afflicted with a hunched back and a deformed, twisted hand. Rider loved all creatures. His heart was filled with pity and understanding. He had mastered his handicap, but he could not master the rejection he suffered because of his appearance. People shunned him as evil. This drove him into seclusion.

One November afternoon, a child approached his lighthouse studio. In her arms, she carried a burden. She was no more than twelve, slender, dirty, nervous and timid as a bird, but beneath the dirt, as beautiful as a fairy. She seemed frightened of the ugly man she had come to see. But, she had heard somewhere in the swamp-land, that this man who lived in the lighthouse had magic that could heal injured things.

She had never seen Rider before and was close to fleeing in panic when she saw him. She stood there staring, but his voice was deep and kind when he spoke to her. "What is it, child?" She timidly moved forward. The thing she carried in her arms was a large white bird, and it was quite still. The girl placed it in his arms. "Is it still alive?" she asked. "Yes. Yes, I think so. Come in, child, come in." Rider went inside bearing the bird, which he placed upon a table, where it moved feebly.

Curiosity overcame fear. The little girl followed and found herself in a room warmed by a coal fire, with many coloured pictures on the walls. The bird fluttered. With his good right hand Rider spread one of its immense white wings. Rider looked and marvelled, and said, "Child, where did you find it?"

"In the marsh, sir. What – what is it, sir?"

"It is a snow goose from Canada. But how in heaven did it come here?"

Concerned, she said, "Can you heal it, sir?"

"Yes, yes," said Rider. "We will try. Come, you shall help me."

There were scissors and bandages and splints on a shelf. He was marvellously deft, even with the crooked hand. He said, "Ah, she has been shot, poor thing. Her leg is broken, and also the wing tip, but not badly. We will bandage the wing closer to her body, so that she cannot move it until it has set, and then make a splint for the poor leg."

"We will call her the 'Lost Princess'. And in a few days, she will be much better." He reached into his pocket and produced a handful of grains. The snow goose opened its round yellow eyes and nibbled at it. The child laughed with delight.

SubQuestion No : 16

Q.16 Which of the following words does NOT describe the girl aptly?

- Ans ☒ 1. Unkind
☒ 2. Curious
☒ 3. Nervous
☒ 4. Beautiful

Question ID : 65497840641

Status : Answered

Chosen Option : 1

Comprehension:

Read the given passage and answer the questions that follow.

In the late spring of 1930, Philip Rider came to the abandoned lighthouse at the mouth of the river Adder on the Essex coast. He was a painter of birds and of nature. He was afflicted with a hunched back and a deformed, twisted hand. Rider loved all creatures. His heart was filled with pity and understanding. He had mastered his handicap, but he could not master the rejection he suffered because of his appearance. People shunned him as evil. This drove him into seclusion.

One November afternoon, a child approached his lighthouse studio. In her arms, she carried a burden. She was no more than twelve, slender, dirty, nervous and timid as a bird, but beneath the dirt, as beautiful as a fairy. She seemed frightened of the ugly man she had come to see. But, she had heard somewhere in the swamp-land, that this man who lived in the lighthouse had magic that could heal injured things.

She had never seen Rider before and was close to fleeing in panic when she saw him. She stood there staring, but his voice was deep and kind when he spoke to her. "What is it, child?" She timidly moved forward. The thing she carried in her arms was a large white bird, and it was quite still. The girl placed it in his arms. "Is it still alive?" she asked. "Yes. Yes, I think so. Come in, child, come in." Rider went inside bearing the bird, which he placed upon a table, where it moved feebly.

Curiosity overcame fear. The little girl followed and found herself in a room warmed by a coal fire, with many coloured pictures on the walls. The bird fluttered. With his good right hand Rider spread one of its immense white wings. Rider looked and marvelled, and said, "Child, where did you find it?"

"In the marsh, sir. What – what is it, sir?"

"It is a snow goose from Canada. But how in heaven did it come here?"

Concerned, she said, "Can you heal it, sir?"

"Yes, yes," said Rider. "We will try. Come, you shall help me."

There were scissors and bandages and splints on a shelf. He was marvellously deft, even with the crooked hand. He said, "Ah, she has been shot, poor thing. Her leg is broken, and also the wing tip, but not badly. We will bandage the wing closer to her body, so that she cannot move it until it has set, and then make a splint for the poor leg."

"We will call her the 'Lost Princess'. And in a few days, she will be much better." He reached into his pocket and produced a handful of grains. The snow goose opened its round yellow eyes and nibbled at it. The child laughed with delight.

SubQuestion No : 17

Q.17 Which of the following is true keeping in mind the character of Philip Rider?

Ans ✓ 1. Appearances are deceptive.

✗ 2. A picture is worth a thousand words.

✗ 3. A little learning is a dangerous thing.

✗ 4. Actions speak louder than words.

Question ID : 65497840644

Status : Answered

Chosen Option : 4

Comprehension:

Read the given passage and answer the questions that follow.

In the late spring of 1930, Philip Rider came to the abandoned lighthouse at the mouth of the river Adder on the Essex coast. He was a painter of birds and of nature. He was afflicted with a hunched back and a deformed, twisted hand. Rider loved all creatures. His heart was filled with pity and understanding. He had mastered his handicap, but he could not master the rejection he suffered because of his appearance. People shunned him as evil. This drove him into seclusion.

One November afternoon, a child approached his lighthouse studio. In her arms, she carried a burden. She was no more than twelve, slender, dirty, nervous and timid as a bird, but beneath the dirt, as beautiful as a fairy. She seemed frightened of the ugly man she had come to see. But, she had heard somewhere in the swamp-land, that this man who lived in the lighthouse had magic that could heal injured things.

She had never seen Rider before and was close to fleeing in panic when she saw him. She stood there staring, but his voice was deep and kind when he spoke to her. "What is it, child?" She timidly moved forward. The thing she carried in her arms was a large white bird, and it was quite still. The girl placed it in his arms. "Is it still alive?" she asked. "Yes. Yes, I think so. Come in, child, come in." Rider went inside bearing the bird, which he placed upon a table, where it moved feebly.

Curiosity overcame fear. The little girl followed and found herself in a room warmed by a coal fire, with many coloured pictures on the walls. The bird fluttered. With his good right hand Rider spread one of its immense white wings. Rider looked and marvelled, and said, "Child, where did you find it?"

"In the marsh, sir. What – what is it, sir?"

"It is a snow goose from Canada. But how in heaven did it come here?"

Concerned, she said, "Can you heal it, sir?"

"Yes, yes," said Rider. "We will try. Come, you shall help me."

There were scissors and bandages and splints on a shelf. He was marvellously deft, even with the crooked hand. He said, "Ah, she has been shot, poor thing. Her leg is broken, and also the wing tip, but not badly. We will bandage the wing closer to her body, so that she cannot move it until it has set, and then make a splint for the poor leg."

"We will call her the 'Lost Princess'. And in a few days, she will be much better." He reached into his pocket and produced a handful of grains. The snow goose opened its round yellow eyes and nibbled at it. The child laughed with delight.

SubQuestion No : 18

Q.18 Why did the girl bring the injured bird to Rider?

- Ans** ☒ 1. She believed Rider could heal it with his magic.
- ☐ 2. She could not carry the heavy burden any more.
- ☐ 3. She wanted Rider to keep the bird as a pet.
- ☐ 4. She wanted to find out what bird it was.

Question ID : 65497840642

Status : Answered

Chosen Option : 1

Comprehension:

Read the given passage and answer the questions that follow.

In the late spring of 1930, Philip Rider came to the abandoned lighthouse at the mouth of the river Adder on the Essex coast. He was a painter of birds and of nature. He was afflicted with a hunched back and a deformed, twisted hand. Rider loved all creatures. His heart was filled with pity and understanding. He had mastered his handicap, but he could not master the rejection he suffered because of his appearance. People shunned him as evil. This drove him into seclusion.

One November afternoon, a child approached his lighthouse studio. In her arms, she carried a burden. She was no more than twelve, slender, dirty, nervous and timid as a bird, but beneath the dirt, as beautiful as a fairy. She seemed frightened of the ugly man she had come to see. But, she had heard somewhere in the swamp-land, that this man who lived in the lighthouse had magic that could heal injured things.

She had never seen Rider before and was close to fleeing in panic when she saw him. She stood there staring, but his voice was deep and kind when he spoke to her. "What is it, child?" She timidly moved forward. The thing she carried in her arms was a large white bird, and it was quite still. The girl placed it in his arms. "Is it still alive?" she asked. "Yes. Yes, I think so. Come in, child, come in." Rider went inside bearing the bird, which he placed upon a table, where it moved feebly.

Curiosity overcame fear. The little girl followed and found herself in a room warmed by a coal fire, with many coloured pictures on the walls. The bird fluttered. With his good right hand Rider spread one of its immense white wings. Rider looked and marvelled, and said, "Child, where did you find it?"

"In the marsh, sir. What – what is it, sir?"

"It is a snow goose from Canada. But how in heaven did it come here?"

Concerned, she said, "Can you heal it, sir?"

"Yes, yes," said Rider. "We will try. Come, you shall help me."

There were scissors and bandages and splints on a shelf. He was marvellously deft, even with the crooked hand. He said, "Ah, she has been shot, poor thing. Her leg is broken, and also the wing tip, but not badly. We will bandage the wing closer to her body, so that she cannot move it until it has set, and then make a splint for the poor leg."

"We will call her the 'Lost Princess'. And in a few days, she will be much better." He reached into his pocket and produced a handful of grains. The snow goose opened its round yellow eyes and nibbled at it. The child laughed with delight.

SubQuestion No : 19

Q.19 Why did Rider choose to live in the abandoned lighthouse?

- Ans** ☒ 1. He enjoyed the view of the river.
- ☒ 2. Human society had rejected him.
- ☒ 3. He wanted to paint in privacy.
- ☒ 4. He hated the sight of people.

Question ID : 65497840640

Status : Answered

Chosen Option : 2

Comprehension:

Read the given passage and answer the questions that follow.

In the late spring of 1930, Philip Rider came to the abandoned lighthouse at the mouth of the river Adder on the Essex coast. He was a painter of birds and of nature. He was afflicted with a hunched back and a deformed, twisted hand. Rider loved all creatures. His heart was filled with pity and understanding. He had mastered his handicap, but he could not master the rejection he suffered because of his appearance. People shunned him as evil. This drove him into seclusion.

One November afternoon, a child approached his lighthouse studio. In her arms, she carried a burden. She was no more than twelve, slender, dirty, nervous and timid as a bird, but beneath the dirt, as beautiful as a fairy. She seemed frightened of the ugly man she had come to see. But, she had heard somewhere in the swamp-land, that this man who lived in the lighthouse had magic that could heal injured things.

She had never seen Rider before and was close to fleeing in panic when she saw him. She stood there staring, but his voice was deep and kind when he spoke to her. "What is it, child?" She timidly moved forward. The thing she carried in her arms was a large white bird, and it was quite still. The girl placed it in his arms. "Is it still alive?" she asked. "Yes. Yes, I think so. Come in, child, come in." Rider went inside bearing the bird, which he placed upon a table, where it moved feebly.

Curiosity overcame fear. The little girl followed and found herself in a room warmed by a coal fire, with many coloured pictures on the walls. The bird fluttered. With his good right hand Rider spread one of its immense white wings. Rider looked and marvelled, and said, "Child, where did you find it?"

"In the marsh, sir. What – what is it, sir?"

"It is a snow goose from Canada. But how in heaven did it come here?"

Concerned, she said, "Can you heal it, sir?"

"Yes, yes," said Rider. "We will try. Come, you shall help me."

There were scissors and bandages and splints on a shelf. He was marvellously deft, even with the crooked hand. He said, "Ah, she has been shot, poor thing. Her leg is broken, and also the wing tip, but not badly. We will bandage the wing closer to her body, so that she cannot move it until it has set, and then make a splint for the poor leg."

"We will call her the 'Lost Princess'. And in a few days, she will be much better." He reached into his pocket and produced a handful of grains. The snow goose opened its round yellow eyes and nibbled at it. The child laughed with delight.

SubQuestion No : 20

Q.20 Rider was 'marvellously deft'. This means that he was:

- Ans ☒ 1. skillful
☒ 2. sincere
☒ 3. awkward
☒ 4. inept

Question ID : 65497840643

Status : Answered

Chosen Option : 1

Comprehension:

In the following passage, some words have been deleted. Read the passage carefully and select the most appropriate option to fill in each blank.

It should come as no surprise that bees know a lot about honey. They aren't only honey producers; (1) _____ are also consumers, and pretty sophisticated ones at that. Offer a sick bee (2) _____ varieties of honey, for example, and it will choose the one that (3) _____ fights off its infection. Components in honey can help bees live longer, (4) _____ their tolerance of harsh conditions such as intense cold and increase their (5) _____ to fight off infections and heal wounds.

SubQuestion No : 21

Q.21 Select the most appropriate option to fill in the blank no. 1.

- Ans ☒ 1. they
☒ 2. it
☒ 3. them
☒ 4. we

Question ID : 65497840532

Status : Answered

Chosen Option : 1

Comprehension:

In the following passage, some words have been deleted. Read the passage carefully and select the most appropriate option to fill in each blank.

It should come as no surprise that bees know a lot about honey. They aren't only honey producers; (1) _____ are also consumers, and pretty sophisticated ones at that. Offer a sick bee (2) _____ varieties of honey, for example, and it will choose the one that (3) _____ fights off its infection. Components in honey can help bees live longer, (4) _____ their tolerance of harsh conditions such as intense cold and increase their (5) _____ to fight off infections and heal wounds.

SubQuestion No : 22

Q.22 Select the most appropriate option to fill in the blank no. 2.

- Ans** ☒ 1. different
☐ 2. singular
☐ 3. similar
☐ 4. parallel

Question ID : 65497840533

Status : Answered

Chosen Option : 1

Comprehension:

In the following passage, some words have been deleted. Read the passage carefully and select the most appropriate option to fill in each blank.

It should come as no surprise that bees know a lot about honey. They aren't only honey producers; (1) _____ are also consumers, and pretty sophisticated ones at that. Offer a sick bee (2) _____ varieties of honey, for example, and it will choose the one that (3) _____ fights off its infection. Components in honey can help bees live longer, (4) _____ their tolerance of harsh conditions such as intense cold and increase their (5) _____ to fight off infections and heal wounds.

SubQuestion No : 23

Q.23 Select the most appropriate option to fill in the blank no. 3.

- Ans** ☐ 1. more
☐ 2. better
☒ 3. best
☐ 4. most

Question ID : 65497840534

Status : Answered

Chosen Option : 2

Comprehension:

In the following passage, some words have been deleted. Read the passage carefully and select the most appropriate option to fill in each blank.

It should come as no surprise that bees know a lot about honey. They aren't only honey producers; (1) _____ are also consumers, and pretty sophisticated ones at that. Offer a sick bee (2) _____ varieties of honey, for example, and it will choose the one that (3) _____ fights off its infection. Components in honey can help bees live longer, (4) _____ their tolerance of harsh conditions such as intense cold and increase their (5) _____ to fight off infections and heal wounds.

SubQuestion No : 24

Q.24 Select the most appropriate option to fill in the blank no. 4.

- Ans** ☐ 1. boosting
☐ 2. boosted
☐ 3. boosts
☒ 4. boost

Question ID : 65497840535

Status : Answered

Chosen Option : 4

Comprehension:

In the following passage, some words have been deleted. Read the passage carefully and select the most appropriate option to fill in each blank.

It should come as no surprise that bees know a lot about honey. They aren't only honey producers; (1) _____ are also consumers, and pretty sophisticated ones at that. Offer a sick bee (2) _____ varieties of honey, for example, and it will choose the one that (3) _____ fights off its infection. Components in honey can help bees live longer, (4) _____ their tolerance of harsh conditions such as intense cold and increase their (5) _____ to fight off infections and heal wounds.

SubQuestion No : 25

Q.25 Select the most appropriate option to fill in the blank no. 5.

- Ans ☒ 1. aptitude
☒ 2. skill
☒ 3. talent
☒ 4. ability

Question ID : 65497840536

Status : Answered

Chosen Option : 4

Section : Quantitative Aptitude

Q.1 निम्नांकित तालिका का अध्ययन करें और उसके बाद दिए गए प्रश्न का उत्तर दें। तालिका 2015 से 2019 तक कंपनियों A और B की आय और व्यय (₹ करोड़ में) को दर्शाती है।

वर्ष	कंपनी A		कंपनी B	
	आय	व्यय	आय	व्यय
2015	110	90	160	120
2016	150	125	180	125
2017	200	140	225	140
2018	240	175	320	275
2019	300	220	360	300

2015 और 2017 में कंपनी B की कुल आय और 2016 और 2018 में कंपनी A के कुल व्यय के बीच अंतर (₹ करोड़ में) x है। x का मान किसके बीच है?

- Ans ☒ 1. 60 और 70
☒ 2. 80 और 90
☒ 3. 90 और 100
☒ 4. 70 और 80

Question ID : 65497840769

Status : Answered

Chosen Option : 2

Q.2 एक निश्चित धनराशि को A, B, C और D में इस प्रकार विभाजित किया जाता है कि इन हिस्सों का अनुपात $A : B = 1 : 3$; $B : C = 2 : 5$; $C : D = 2 : 3$ है। यदि B और D के हिस्सों के बीच अंतर ₹6,435 है, तो कुल धनराशि का योग (₹ में) कितना है?

- Ans
- ☒ 1. 17,457
 - ☒ 2. 17,745
 - ☒ 3. 15,477
 - ☒ 4. 14,775

Question ID : 65497840655
Status : Answered
Chosen Option : 2

Q.3 यह दिया गया है कि $\triangle ABC \sim \triangle XYZ$ और क्षेत्रफल $\triangle ABC$: क्षेत्रफल $\triangle XYZ = 81 : 25$ है। यदि $AB = 18$ cm, $BC = 10$ cm, $CA = 15$ cm है, तो भुजा XZ का मान (cm में) क्या है?

- Ans
- ☒ 1. $\frac{75}{16}$
 - ☒ 2. $\frac{15}{4}$
 - ☒ 3. $\frac{25}{3}$
 - ☒ 4. $\frac{10}{3}$

Question ID : 65497840664
Status : Answered
Chosen Option : 3

Q.4 एक वृत्ताकार मैदान की त्रिज्या (m में) क्या है, जिसका क्षेत्रफल उस त्रिभुजाकार मैदान के क्षेत्रफल के छह गुना के बराबर है, जिसकी भुजाएँ 35 m, 53 m और 66 m हैं? ($\pi = \frac{22}{7}$ लीजिए)।

- Ans
- ☒ 1. 42
 - ☒ 2. 21
 - ☒ 3. $14\sqrt{6}$
 - ☒ 4. $14\sqrt{3}$

Question ID : 65497840557
Status : Answered
Chosen Option : 1

Q.5 50 छात्रों की एक कक्षा में 40% लड़के हैं और शेष लड़कियाँ हैं। एक परीक्षा में लड़कियों के औसत अंक लड़कों की तुलना में 60% अधिक हैं। यदि कक्षा में सभी लड़कों और लड़कियों के औसत अंक 51 हैं, तो लड़कों का औसत अंक क्या है?

- Ans
- ☒ 1. 35.5
 - ☒ 2. 32.5
 - ☒ 3. 39.5
 - ☒ 4. 37.5

Question ID : 65497840647
Status : Answered
Chosen Option : 4

Q.6 यदि $x^8 - 34x^4 + 1 = 0, x > 0$ है, तो $x^6 + \frac{1}{x^6}$ का मान क्या होगा?

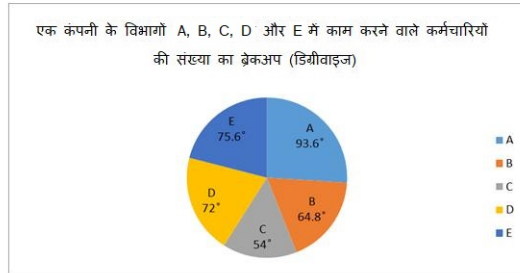
- Ans
- ✗ 1. 188
 - ✗ 2. 194
 - ✗ 3. 192
 - ✓ 4. 198

Question ID : 65497840763

Status : Answered

Chosen Option : 4

Q.7 दिए गए ग्राफ का अध्ययन करें और नीचे दिए गए प्रश्न का उत्तर दें।



विभाग B में कर्मचारियों की संख्या = 432

यदि विभाग A में कार्यरत पुरुष और महिला कर्मचारियों का अनुपात 5 : 11 है, और विभाग C में 40% कर्मचारी महिलाएं हैं, तो विभाग A की महिला कर्मचारियों की संख्या और विभाग C के पुरुष कर्मचारियों की संख्या का अनुपात कितना है?

- Ans
- ✗ 1. 113 : 75
 - ✓ 2. 143 : 72
 - ✗ 3. 100 : 91
 - ✗ 4. 111 : 124

Question ID : 65497840567

Status : Answered

Chosen Option : 2

Q.8 $\triangle ABC$ में, O अन्तःकेन्द्र है और $\angle BOC = 129^\circ$ है। $\angle BAC$ का माप क्या होगा?

- Ans
- ✗ 1. 51°
 - ✗ 2. 70°
 - ✓ 3. 78°
 - ✗ 4. 73°

Question ID : 65497840765

Status : Answered

Chosen Option : 3

Q.9 यदि x एक वास्तविक राशि है, तो $(16 \cos^2 x + 9 \sec^2 x)$ का न्यूनतम मान कितना है?

- Ans
- ☒ 1. 30
 - ☒ 2. 20
 - ☒ 3. 40
 - ☒ 4. 24

Question ID : 65497840665

Status : Answered

Chosen Option : 4

Q.10 यदि 9-अंकों की संख्या $4x92y6588$ 99 $(x + y < 10)$ से पूर्णतः विभाज्य है, तो $2(y - x)$ का मान क्या है?

- Ans
- ☒ 1. -2
 - ☒ 2. 1
 - ☒ 3. -1
 - ☒ 4. 2

Question ID : 65497840646

Status : Marked For Review

Chosen Option : 4

Q.11 A car and a bus were travelling in the same direction. At 7 : 30 a.m. the car travelling at a speed of 72 km/h was 4.2 km behind the bus. At 8.15 a.m. the car was 15.8 km ahead of the bus. What is the ratio of the speed of the car to the speed of the bus?

- Ans
- ☒ 1. 36 : 17
 - ☒ 2. 9 : 5
 - ☒ 3. 9 : 4
 - ☒ 4. 27 : 17

Question ID : 65497840760

Status : Answered

Chosen Option : 4

Q.12 बर्तन X और Y में अम्ल और पानी का अनुपात क्रमशः 3 : 7 और 1 : 3 है। X और Y की सामग्री को 1 : 2 के

अनुपात में मिलाया जाता है ताकि एक घोल प्राप्त किया जा सके जिसमें अम्ल और पानी का अनुपात $a : b$ हो। $\frac{b+a}{b-a}$ का मान क्या है?

- Ans
- ☒ 1. $\frac{12}{7}$
 - ☒ 2. $\frac{11}{7}$
 - ☒ 3. $\frac{13}{7}$
 - ☒ 4. $\frac{15}{7}$

Question ID : 65497840552

Status : Answered

Chosen Option : 4

Q.13 एक वस्तु को ₹425.25 में बेचने पर 5.5% की हानि होती है। यदि वही वस्तु ₹465.75 में बेची जाती है, तो लाभ प्रतिशत क्या होगा?

- Ans ☒ 1. 3.5%
☒ 2. 3%
☒ 3. 5.5%
☒ 4. 4%

Question ID : 65497840754
 Status : Answered
 Chosen Option : 1

Q.14 यदि $(x+4)^3 + (2x+1)^3 + (2x+5)^3 = (6x+3)(x+4)(2x+5)$ है, तो x का मान क्या है?

- Ans ☒ 1. 2
☒ 2. -2
☒ 3. -1
☒ 4. 1

Question ID : 65497840662
 Status : Answered
 Chosen Option : 2

Q.15 यदि $3x(3x-8) + y(y+1) + 4z^2 - 2z + 16\frac{1}{2} = 0$ है, तो $(6x+y+2z)$ का मान क्या है?

- Ans ☒ 1. 4
☒ 2. 8
☒ 3. 6
☒ 4. 2

Question ID : 65497840558
 Status : Answered
 Chosen Option : 2

Q.16 एक समूह में कुछ बच्चों का औसत वजन 43 kg है। यदि 4 बच्चे, जिनका वजन 49.2 kg, 48.8 kg, 51.4 kg और 50.6 kg है, समूह में शामिल हो जाते हैं, तो सभी बच्चों का औसत वजन अब $\frac{1}{2}$ kg बढ़ जाता है। प्रारंभ में समूह में बच्चों की संख्या है:

- Ans ☒ 1. 56
☒ 2. 54
☒ 3. 50
☒ 4. 52

Question ID : 65497840546
 Status : Answered
 Chosen Option : 4

Q.17 सुलभ अपनी आय का 25% बचाता है। यदि उसकी आय में 40% की वृद्धि होती है और व्यय में 45% की वृद्धि होती है, तो उसकी बचत में कितने प्रतिशत की वृद्धि या कमी होगी?

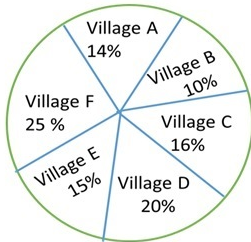
- Ans
- ✗ 1. 5% की कमी
 - ✗ 2. 20% की वृद्धि
 - ✗ 3. 20% की कमी
 - ✓ 4. 25% की वृद्धि

Question ID : 65497840753

Status : Answered

Chosen Option : 4

Q.18 दिए गए पाई चार्ट का अध्ययन करें जो 2020 में छह गांवों A, B, C, D, E और F की प्रतिशत आबादी का दर्शाता है, और नीचे दिए गए प्रश्न का उत्तर दें।



गाँव (Village)	गरीबी रेखा से नीचे की जनसंख्या का प्रतिशत
A	30
B	45
C	55
D	60
E	58
F	40

यदि गाँव D में गरीबी रेखा के नीचे की जनसंख्या 42,000 है, तो सभी छह गाँवों की कुल जनसंख्या है:

- Ans
- ✓ 1. 3,50,000
 - ✗ 2. 2,80,000
 - ✗ 3. 2,95,000
 - ✗ 4. 3,00,000

Question ID : 65497840668

Status : Answered

Chosen Option : 1

Q.19 यदि $\sec(5\alpha - 15^\circ) = \operatorname{cosec}(15^\circ - 2\alpha)$ है, तो $\cos 3\alpha + \sin 2\alpha + \cot \alpha$ का मान है:

- Ans
- ✓ 1. $\frac{3\sqrt{3}}{2}$
 - ✗ 2. $\frac{\sqrt{3}(\sqrt{3}-1)}{2}$
 - ✗ 3. $\frac{\sqrt{3}(\sqrt{3}+1)}{2}$
 - ✗ 4. $\frac{\sqrt{3}}{2}$

Question ID : 65497840564

Status : Answered

Chosen Option : 1

Q.20 यदि 4-अंकों की एक संख्या $273x,12$ से विभाज्य है और 7-अंकों की एक संख्या $y854z06$, 11 से विभाज्य है, तो $(x + y + z)$ का मान क्या होगा?

- Ans
- ☒ 1. 6
 - ☒ 2. 20
 - ☒ 3. 18
 - ☒ 4. 12

Question ID : 65497840747
Status : Answered
Chosen Option : 3

Q.21 एक कंपनी की आय में प्रति वर्ष $x\%$ की वृद्धि होती है। यदि वर्ष 2019 में इसकी आय ₹31,25,000 थी, और 2017 में आय ₹20,00,000 थी, तो x का मान क्या है?

- Ans
- ☒ 1. 18
 - ☒ 2. 20
 - ☒ 3. 15
 - ☒ 4. 25

Question ID : 65497840650
Status : Answered
Chosen Option : 4

Q.22 एक व्यापारी ने एक वस्तु को उसके अंकित मूल्य पर 12% की छूट देकर ₹440 में बेचा। यदि उसने छूट नहीं दी होती, तो उसे 25% का लाभ होता। वस्तु का क्रय मूल्य (₹ में) क्या है?

- Ans
- ☒ 1. 350
 - ☒ 2. 400
 - ☒ 3. 420
 - ☒ 4. 380

Question ID : 65497840751
Status : Answered
Chosen Option : 2

Q.23 P किसी कार्य का एक चौथाई भाग 18 दिनों में कर सकती है। उसने उस काम का 37.5% पूरा किया और उसे छोड़ दिया। Q ने शेष कार्य को 40 दिनों में पूरा किया। एक साथ काम करते हुए वे उसी कार्य का $\left(\frac{17}{48}\right)$ हिस्सा कितने दिनों में पूरा करेंगी/गे?

- Ans
- ☒ 1. 6 दिन
 - ☒ 2. 10 दिन
 - ☒ 3. 8 दिन
 - ☒ 4. 12 दिन

Question ID : 65497840555
Status : Not Answered
Chosen Option : --

Q.24 A एक वस्तु को B को 20% हानि पर बेचता है, जो इसे आगे C को 18% लाभ पर बेचता है। बाद में, C इसे 10% लाभ पर D को बेचता है। यदि C को ₹944 का लाभ होता है, तो A को कितनी हानि होगी?

- Ans
- ☒ 1. ₹1,750
 - ☒ 2. ₹2,000
 - ☒ 3. ₹2,500
 - ☒ 4. ₹1,600

Question ID : 65497840551
Status : Answered
Chosen Option : 2

Q.25 यदि ब्याज अर्ध-वार्षिक चक्रवृद्धि है, तो किस दर प्रतिशत प्रति वर्ष पर ₹14,400 की धनराशि बढ़कर ₹15,876 हो जाएगी?

- Ans
- ☒ 1. 12%
 - ☒ 2. 15%
 - ☒ 3. 8%
 - ☒ 4. 10%

Question ID : 65497840656
Status : Answered
Chosen Option : 4

Section : General awareness

Q.1 1949 में भारतीय संविधान को अंगीकार करते हुए भारतीय संविधान के किस अनुच्छेद के द्वारा भारतीय स्वतंत्रता अधिनियम, 1947, और भारत सरकार अधिनियम, 1935 को बाद के अधिनियम में संशोधित या पूरक सभी अधिनियमों के साथ, प्रिवी काउंसिल क्षेत्राधिकार अधिनियम उन्मूलन 1949, को छोड़कर निरस्त कर दिया गया था?

- Ans
- ☒ 1. 394
 - ☒ 2. 395
 - ☒ 3. 392
 - ☒ 4. 393

Question ID : 65497840692
Status : Not Answered
Chosen Option : --

Q.2 निम्नलिखित में से किस भारतीय राज्य में प्राचीन विक्रमशिला विश्वविद्यालय के अवशेषों की खोज की गई थी?

- Ans
- ☒ 1. राजस्थान
 - ☒ 2. तेलंगाना
 - ☒ 3. बिहार
 - ☒ 4. ओडिशा

Question ID : 65497840786
Status : Answered
Chosen Option : 3

Q.3 Which of the following statements is correct?

- Ans ☒ 1. Viticulture is the commercial rearing of silk worms.
- ☒ 2. Viticulture is the growing of vegetables, flowers and fruits for commercial use.
- ☒ 3. Viticulture is the breeding of fish in specially constructed tanks and ponds.
- ☒ 4. Viticulture is the cultivation of grapes.

Question ID : 65497840579

Status : Answered

Chosen Option : 4

Q.4 विजयनगर शहर के सबसे महत्वपूर्ण विवरणों में से एक, पंद्रहवीं शताब्दी में हेरात से भारत आने वाले एक राजनयिक का विवरण है। वह राजनयिक निम्नलिखित विकल्पों में से कौन है?

- Ans ☒ 1. मार्को पोलो
- ☒ 2. इब्र बतूता
- ☒ 3. शेख अली हाज़ीन
- ☒ 4. अब्दुर रज्जाक समरकंदी

Question ID : 65497840583

Status : Marked For Review

Chosen Option : 2

Q.5 उस पारिस्थितिक तंत्र के निर्जीव भाग के लिए किस शब्द का प्रयोग किया जाता है जो वायुमंडल को एक स्वरूप प्रदान करता है?

- Ans ☒ 1. अंतरिक्षी कारक
- ☒ 2. गर्भोदक कारक
- ☒ 3. अजीवीय कारक
- ☒ 4. जीवीय कारक

Question ID : 65497840780

Status : Answered

Chosen Option : 3

Q.6 उत्तर भारत की चिनाब नदी निम्नलिखित में से किन दो नदियों के संगम से निकलती है?

- Ans ☒ 1. चंद्रा और भागा
- ☒ 2. जास्कर और श्योक
- ☒ 3. सिंधु और सतलुज
- ☒ 4. नुब्रा और हुंजा

Question ID : 65497840578

Status : Answered

Chosen Option : 1

Q.7 'रिजॉल्व्ड: यूनाइटेड नेशंस इन ए डिवाइडेड वर्ल्ड' निम्नलिखित में से किस पूर्व संयुक्त राष्ट्र महासचिव का संस्मरण है?

- Ans ☒ 1. बुतरस बुतरस-घाली
- ☒ 2. कोफ़ी अन्नान
- ☒ 3. ज़ेवियर पेरिज डी कुईयार
- ☒ 4. बान की-मून

Question ID : 65497840586

Status : Answered

Chosen Option : 4

Q.8 1943 में, महाराष्ट्र के किस जिले में कुछ युवा नेताओं ने एक समानांतर सरकार (प्रति सरकार) की स्थापना कर ली थी, जिसमें स्वयंसेवी समूह (सेवा दल) और ग्राम इकाइयाँ (तूफान दल) शामिल थीं?

- Ans
- ☒ 1. कोल्हापूर
 - ☒ 2. सांगली
 - ☒ 3. सतारा
 - ☒ 4. सोलापूर

Question ID : 65497840687
Status : Answered
Chosen Option : 1

Q.9 The rate of change of _____ of an object is its acceleration.

- Ans
- ☒ 1. position
 - ☒ 2. velocity
 - ☒ 3. displacement
 - ☒ 4. momentum

Question ID : 65497840574
Status : Answered
Chosen Option : 2

Q.10 भारत के हर एक राज्य में महाधिवक्ता की नियुक्ति निम्नलिखित में से किसके द्वारा की जाती है?

- Ans
- ☒ 1. भारत के राष्ट्रपति
 - ☒ 2. राज्य के राज्यपाल
 - ☒ 3. भारत के प्रधानमंत्री
 - ☒ 4. राज्य के मुख्यमंत्री

Question ID : 65497840795
Status : Answered
Chosen Option : 2

Q.11 पद्मभूषण 2022 निम्नलिखित में से किसने प्राप्त किया?

- Ans
- ☒ 1. कोंसम इबोमचा सिंह
 - ☒ 2. विक्टर बैनर्जी
 - ☒ 3. लौरेंस बिनो देवी
 - ☒ 4. पद्मजा रेड्डी

Question ID : 65497840791
Status : Not Answered
Chosen Option : --

Q.12 दिसंबर 2021 में, निम्नलिखित में से किस देश ने अपनी उदार छवि स्थापित करने तथा विदेशियों को आकर्षित करने के लिए अपने नवीनतम प्रयास के अंतर्गत घोषणा की कि वह अब सिनेमाघरों में रिलीज होने वाली फिल्मों को सेंसर नहीं करेगा?

- Ans
- ☒ 1. म्यांमार
 - ☒ 2. पाकिस्तान
 - ☒ 3. संयुक्त अरब अमीरात
 - ☒ 4. बांग्लादेश

Question ID : 65497840675
Status : Not Answered
Chosen Option : --

Q.13 बांग्लादेश का आधिकारिक नाम (अंग्रेजी में) क्या है?

- Ans
- ☒ 1. फेडरल बांग्लादेश रिपब्लिक (Federal Bangladesh Republic)
 - ☒ 2. यूनियन ऑफ बांग्लादेश (Union of Bangladesh)
 - ☒ 3. पीपुल्स रिपब्लिक ऑफ बांग्लादेश (People's Republic of Bangladesh)
 - ☒ 4. बांग्लादेश डेमोक्रेटिक रिपब्लिक (Bangladesh Democratic Republic)

Question ID : 65497840785

Status : Answered

Chosen Option : 4

Q.14 भारतीय संविधान में संसद के दोनों सदनों की संयुक्त बैठक की विशेषता को _____ के संविधान से अंगीकार किया गया है।

- Ans
- ☒ 1. ऑस्ट्रेलिया
 - ☒ 2. अमेरिका
 - ☒ 3. सोवियत संघ
 - ☒ 4. जर्मनी

Question ID : 65497840589

Status : Marked For Review

Chosen Option : 3

Q.15 2011 की भारत की जनगणना के अनुसार, भारत के संविधान की आठवीं अनुसूची में निर्दिष्ट 22 भाषाओं में से कौन सी भाषा सबसे कम लोगों द्वारा बोली जाती है?

- Ans
- ☒ 1. सिंधी
 - ☒ 2. संस्कृत
 - ☒ 3. मणिपुरी
 - ☒ 4. नेपाली

Question ID : 65497840682

Status : Not Answered

Chosen Option : --

Q.16 भारत सरकार द्वारा निम्नलिखित में से किस वर्ष राष्ट्रीय माध्यमिक शिक्षा अभियान (RMSA) योजना का शुभारंभ किया गया था?

- Ans
- ☒ 1. 2006
 - ☒ 2. 2008
 - ☒ 3. 2009
 - ☒ 4. 2007

Question ID : 65497840775

Status : Marked For Review

Chosen Option : 2

Q.17 महेंद्रगिरि पहाड़ियाँ _____ में स्थित हैं।

- Ans
- ☒ 1. महाराष्ट्र
 - ☒ 2. तमिलनाडु
 - ☒ 3. हिमाचल प्रदेश
 - ☒ 4. ओड़िशा

Question ID : 65497840774

Status : Answered

Chosen Option : 1

Q.18 विषमज्वराणु (प्लाज्मोडियम, एक छोटा प्रोटोजोआ) की विभिन्न प्रजातियाँ विभिन्न प्रकार के मलेरिया के लिए जिम्मेदार हैं, इनमें से घातक मलेरिया, जो सबसे गंभीर है, _____ के कारण होता है।

- Ans ☒ 1. प्लाज्मोडियम फाल्सीपेरम
☒ 2. प्लाज्मोडियम विवैक्स
☒ 3. प्लाज्मोडियम मलेरिया
☒ 4. प्लाज्मोडियम कैल्सीपेरम

Question ID : 65497840679

Status : Marked For Review

Chosen Option : 3

Q.19 निम्नलिखित विकल्पों में से कौन सी प्राणी वर्ग एवीज (पक्षी) की विशेषता नहीं है?

- Ans ☒ 1. पूँछ के आधार पर तेल ग्रंथि को छोड़कर त्वचा शुष्क होती है।
☒ 2. इनके पास चोंच होती है।
☒ 3. पंख पाद पंखों में परिवर्तित होते हैं।
☒ 4. इनके पंख होते हैं और उड़ानरहित पक्षियों को छोड़कर इनमें से अधिकांश उड़ सकते हैं।

Question ID : 65497840677

Status : Answered

Chosen Option : 3

Q.20 निम्नलिखित में से किसे सिविल सेवा श्रेणी के अंतर्गत पद्म विभूषण पुरस्कार 2022 से सम्मानित किया गया है?

- Ans ☒ 1. गुरुप्रसाद महापात्र
☒ 2. राजीव महर्षि
☒ 3. नटराजन चंद्रशेखरन
☒ 4. बिपिन रावत

Question ID : 65497840690

Status : Answered

Chosen Option : 4

Q.21 निम्नलिखित में से किस देश में पूर्व प्रधानमंत्री लाल बहादुर शास्त्री की मृत्यु हुई थी?

- Ans ☒ 1. उज़्बेकिस्तान
☒ 2. चीन
☒ 3. कनाडा
☒ 4. अफ़ग़ानिस्तान

Question ID : 65497840788

Status : Answered

Chosen Option : 1

Q.22 दक्षिण भारत के उगादी त्योहार से संबंधित उगादी पचड़ी एक प्रसिद्ध व्यंजन है। इसमें कितने प्रकार की सामग्री (ingredients) होती है?

- Ans ☒ 1. सात
☒ 2. छह
☒ 3. पाँच
☒ 4. चार

Question ID : 65497840569

Status : Not Answered

Chosen Option : --

Q.23 "मिशन कर्मयोगी" - राष्ट्रीय सिविल सेवा क्षमता विकास कार्यक्रम (NPCSCB) को नागरिक सेवा क्षमता निर्माण के माध्यम से शासन प्रणाली को बेहतर बनाने के उद्देश्य से शुरू किया गया था। निम्नलिखित में से कौन सा इस कार्यक्रम के छह स्तंभों में से एक नहीं है?

- Ans
- ☒ 1. डिजिटल अधिगम ढाँचा
 - ☒ 2. शारीरिक स्वस्थता ढाँचा
 - ☒ 3. नीतिगत ढाँचा
 - ☒ 4. क्षमता ढाँचा

Question ID : 65497840572

Status : Answered

Chosen Option : 4

Q.24 मोहिनीअट्टम नृत्य, नृत्य और गायन के माध्यम से नाटक का प्रस्तुतिकरण है। इसमें गीत साधारणतया निम्न में से किस भाषा में होता है?

- Ans
- ☒ 1. मलयालम
 - ☒ 2. संस्कृत
 - ☒ 3. मणिप्रवालम
 - ☒ 4. तमिल

Question ID : 65497840670

Status : Marked For Review

Chosen Option : 4

Q.25 6 फरवरी 2022 को, निम्नलिखित में से कौन सा देश 1,000 एक दिवसीय अंतरराष्ट्रीय (ODI) क्रिकेट खेलने वाला पहला देश बना?

- Ans
- ☒ 1. पाकिस्तान
 - ☒ 2. भारत
 - ☒ 3. इंग्लैंड
 - ☒ 4. ऑस्ट्रेलिया

Question ID : 65497840694

Status : Not Answered

Chosen Option : --